

جمهورية العراق
وزارة التربية
المديرية العامة للمناهج

الاجتماعيات

للفف السادس الابتدائي

تأليف

أ.د. عبد القادر عبد الجبار مصطفى د. لؤي عدنان حسون

د. إسراء طالب توفيق د. سلام عبد علي مهوس

غازي مطلق صخي

٢٠٢٣/هـ١٤٤٥م

الطبعة السابعة

تصميم الكتاب
أحمد تحسين علي

المشرف العلمي على الطبع: م.م. اسراء مهني حسن
المشرف الفني على الطبع: م.م. أحمد تحسين علي

الموقع والصفحة الرسمية للمديرية العامة للمناهج

www.manahj.edu.iq
manahjb@yahoo.com
Info@manahj.edu.iq



manahjb
manahj



استناداً الى القانون يوزع مجاناً ويمنع بيعه وتداوله في الاسواق

مقدمة

الحمد لله رب العالمين والصلاة والسلام على أشرف المرسلين سيدنا محمد وعلى آله وصحبه الطيبين الطاهرين أما بعد..

استكمالاً لكتابي الاجتماعيات للصفين. (الرابع والخامس) الابتدائيين، سعت وزارة التربية إلى إعداد كتاب الاجتماعيات للصف السادس الابتدائي على وفق الرؤية الجديدة لوزارة التربية في بناء مناهج دراسية تقوم على التكامل والترابط وترتكز على الاقتصاد المبنى على المعرفة وتعزيز قيم المواطنة الصالحة القائمة على ترسيخ مبدأ حب الوطن وبناء الشخصية الوطنية المؤمنة به والاخلاص له والتضحية في سبيله والعمل على تقدمه في المجالات والأصعدة كافة.

فقد بني هذا الكتاب ضمن رؤيا وعرض يراعي الأسس العلمية والاتجاهات التربوية الحديثة في مجالات التربية السكانية والبيئية ومشكلات الشباب وحقوق الإنسان.

وقد عمدنا إلى التركيز على إثارة اهتمام المتعلمين والكشف عن قدراتهم وتنمية مهارات التعلم الذاتي والتفكير الناقد وما يقدمه المعلم من خلال اعتماده على استراتيجيات متطورة في التعليم يكون المتعلم فيها محور العملية التعليمية. عزيزي التلميذ / عزيزتي التلميذة:

تذكرا دائما انكما محور العملية التعليمية وهذا يتطلب منكما عملا دؤوبا، ومشاركة فاعلة في الانشطة التعليمية، كما ستجدان في هذا الكتاب تحديات تتناسب مع قدراتكما العقلية وخبراتكما المعرفية لتنمية مهارات التفكير لديكما واطاحة الفرصة للتعبير عن ارائكما والحوار مع اقرانكما وتنمية مهارات الإبداع والابتكار لديكما من اجل الوصول الى الغايات التربوية والخبرات التعليمية المرجوة.

وختاماً، لا بد من تظافر جهود الجميع (المعلم، التلميذ، أولياء الأمور) لتحقيق الأهداف المرجوة من هذا الكتاب.

والله الموفق

المؤلفون

الوحدة الاولى محافظات ووطننا العراق جغرافياً وتاريخياً

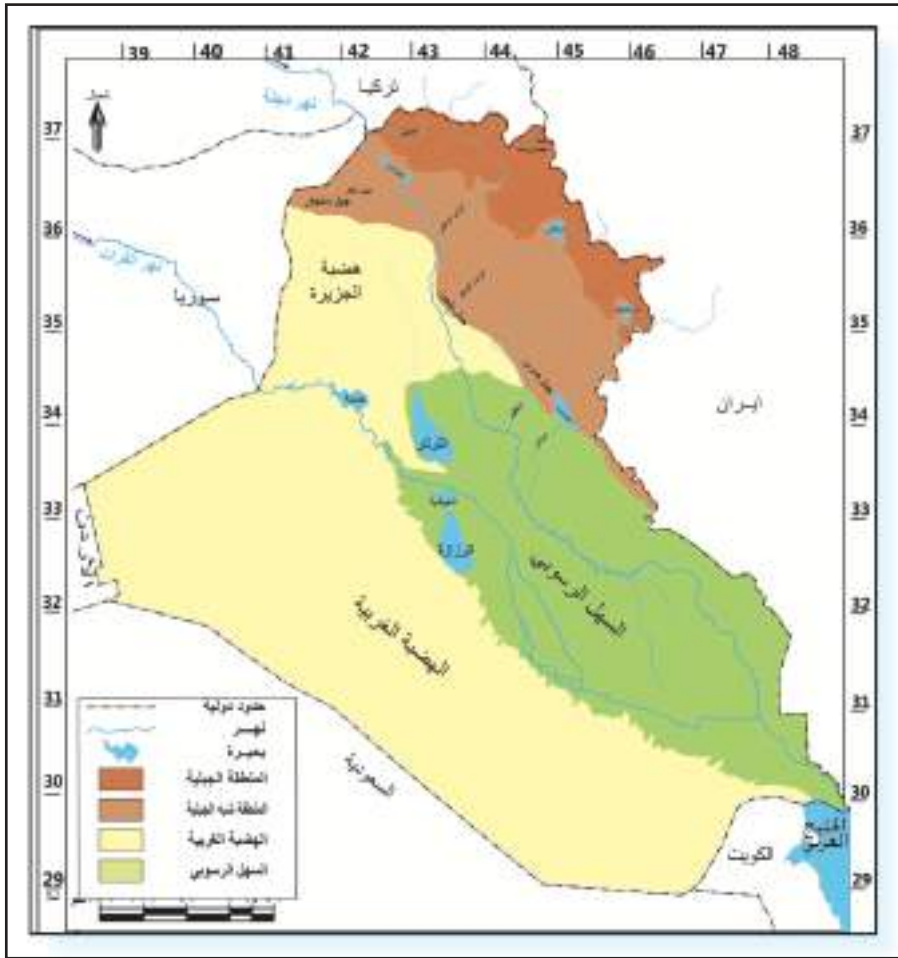
بعد الانتهاء من دراسة هذه الوحدة سيكون التلميذ/ التلميذة قادراً على أن :

- يتعرف إلى التقسيمات الإدارية لوطننا العراق.
- يحدد الموقع الجغرافي لكل محافظة.
- يتمكن من مهارة قراءة الخريطة .
- يحدد الظواهر الجغرافية والتاريخية على الخريطة.
- يفهم الظواهر الطبيعية لكل محافظة (تضاريس، مناخ، موارد مائية).
- يفهم أهمية التنوع التضاريسي لوطننا العراق.
- يتعرف إلى الانشطة الاقتصادية لكل محافظة (زراعة، صناعة، تجارة، طرق النقل، والمواصلات).
- يتعرف إلى عدد السكان في كل محافظة .
- يوزع المناطق السياحية في كل محافظة.
- يوزع محافظات العراق على الخريطة الصماء.
- يتعرف إلى نبذة تاريخية عن كل محافظة من محافظات العراق.
- يتعرف إلى المعالم التاريخية والحضارية في كل محافظة.

وطننا العراق

يقع وطننا العراق في الجزء الجنوبي الغربي من قارة اسيا، وفي القسم الشمالي الشرقي من العالم العربي، تحده من الشمال تركيا ومن الشرق ايران اما من الغرب والجنوب فتحاذيه سوريا والاردن والسعودية والكويت.

كما سبق وان درست -عزيزي التلميذ/ عزيزتي التلميذة- في المرحلة السابقة، بأن تضاريس العراق متنوعة نظراً لأمتداد وطننا العراق من الشمال الى الجنوب، ومن الشرق الى الغرب، فالجبال تنتشر في اقسامه الشمالية والشمالية الشرقية، وتمتد المناطق المتموجة الى الجنوب الغربي من المنطقة الجبلية، اما في وسطه وجنوبه فتنبسط الأرض وتصبح سهلية يطلق عليها تسمية السهل الرسوبي، في حين تتكون الاقسام الغربية والجنوبية الغربية من هضبة واسعة يطلق عليها تسمية الهضبة الغربية. لاحظ الخريطة رقم (١).



خريطة رقم (١) اقسام سطح العراق



نشاط

- ١- من خلال ملاحظتك للخريطة أعلاه هل تجد ان تضاريس العراق متشابهة ؟
- ٢- أذكر انواع التضاريس التي شاهدهتها على الخريطة.

٣- أي التضاريس تشغل مساحة اكبر؟

٤- خذ خريطة صماء للعراق وحدد عليها اقسام السطح.

اما بالنسبة لمناخ العراق فيتأثر بشكل كبير بالتضاريس بين شماله وجنوبه، اذ يزداد سقوط الأمطار في الاقسام الشمالية من وطننا وتقل كلما اتجهنا جنوباً، ويقتصر سقوطها في فصل الشتاء لاحظ الخريطة رقم (٢)، وتختلف درجات الحرارة هي الاخرى تبعاً لتضاريسه، اذ ترتفع خلال فصل الصيف في الأقسام الوسطى والجنوبية، وتتميز بالاعتدال خلال فصل الشتاء، اما في الأقسام الشمالية فتتخفض خلال فصل الشتاء، وتكون اكثر اعتدالاً في فصل الصيف، ولذلك فإن كثيراً من الناس يسافرون اليها خلال فصل الصيف لغرض الراحة والاستجمام.

وقد أدى تنوع مظاهر السطح والمناخ في العراق الى تنوع النبات الطبيعي والمنتجات الزراعية بين جميع جهاته، فنشط التبادل التجاري بين محافظات لاسيما وان جهاته مفتوحة بعضها على بعض ولا توجد بينها اية حواجز او عوائق لتمنع ذلك الاتصال، وقد ساعد ذلك ومنذ القدم على سهولة التنقل بين جهاته المختلفة، فتوسعت الصلات الاجتماعية بين الناس، مما اكد وحدة وطننا العراق وتماسكه.



خريطة رقم (٢) معدلات سقوط الامطار في العراق

وقد منّ الله تعالى على وطننا بتنوع المصادر المائية، فمنها الأمطار والثلوج والمياه السطحية والمياه الجوفية، وتشمل المياه السطحية المياه التي تجري على سطح الأرض وتتمثل بالانهار وروافدها، وفروعها والبحيرات ويعد نهر دجلة وروافده والفرات وشط العرب من اهم الموارد المائية في وطننا لاحظ الخريطة (٣). فضلاً عن وجود العديد من الموارد المائية السطحية الاخرى ولاسيما الاهوار والمستنقعات والسدود والبحيرات، كبحيرة الثرثار، والحبانية، والرزازة، ودوكان، ودربندخان، وتعد من اهم المناطق لخرن المياه وتوليد الطاقة الكهربائية، اضافة الى كونها تمثل مناطق سياحية جميلة (لاحظ الخريطة رقم ٣).



خريطة رقم (٣) السدود والمشاريع المائية في العراق



نشاط

- ١- من خلال ملاحظة الخريطة رقم (٢) هل ترى ان معدل سقوط الامطار متساوٍ في جميع انحاء العراق؟
- ٢- اجمع صوراً أو ملصقات تمثل كيفية المحافظة على مياه الانهار من التلوث.
- ٣- اجمع صوراً للبحيرات الخزنانية في وطننا العراق، واذكر على اي نهر شيبت.

١- لماذا يسافر الناس في فصل الصيف الى الاقسام الشمالية من وطننا العراق؟

٢- هل لتضاريس العراق تأثيرٌ على كمية الامطار الساقطة؟

أما بالنسبة لمادة التاريخ فقد تعرفنا في الصفين السابقين (الرابع والخامس الابتدائيين) الى مبادئ علم التاريخ البسيطة بوصفها مدخلاً مهماً لدراسة هذه المادة، ولاسيما المفاهيم التاريخية (يوم، اسبوع، شهر، سنة)، فضلاً عن معرفة عراقية الحضارة العراقية من خلال التعرف إلى نشوء المدن العراقية الأثرية، وكذلك المدن الإسلامية التي بناها المسلمون لتكون مراكز إدارية وحضارية كمدينة البصرة والكوفة وبغداد، والتعرف الى ان العراق بلد الحضارات إذ نشأت على ارضه حضارات عريقة مازالت آثارها شاخصة حتى وقتنا الحاضر والتي تذكرنا بتفوق الانسان العراقي القديم وبذكائه في بناء حضارته، ومن اشهر تلك الحضارات الحضارة السومرية، الاكدية، البابلية والاشورية وكذلك على دور العراقيين في بناء الحضارة الإنسانية عبر العصور التاريخية والتعرف إلى اهم المراكز الحضارية في العصر الاسلامي، كما توجد فيه أهم المراكز والدور والمدارس العلمية العريقة عبر التاريخ، الامر الذي يؤكد دور العلماء العراقيين في التطور العلمي العالمي لأن العراقيين اول من اخترع الكتابة والتدوين، وأن العراق مهد القوانين والتشريعات والديانات. وفي هذه المرحلة سيتعرف التلميذ إلى محافظات العراق تاريخياً من خلال عرض مواقع الاستيطان الأولى في المنطقة الشمالية ثم الوسطى ثم الجنوبية من بلاد الرافدين، إذ استوطن الانسان العراقي القديم منذ قرابة المليون سنة في الكهوف والمغارات خلال العصور الحجرية القديمة، وكان استيطانه في المنطقة الجبلية الشمالية والشمالية الشرقية، إذ كان يعمل صياداً جامعاً للفقوت في محافظات كردستان العراق ثم تحوله الى مزارع منتج للفقوت في العصر الحجري الحديث، إذ استوطن القرى الزراعية في الالف الثامن ق.م في موقع نمريك شمالي الموصل، وفي موقع جرمو وظهور المدن القديمة مثل مدينة حسونة في الموصل وغيرها من المستوطنات التي اشتهرت بأهميتها في الزراعة إذ ساعدهم في ذلك وجود نهري دجلة والفرات وروافدهما، فضلاً عن استواء الارض، كما ظهر القانون العراقي القديم وحل محل العادات والتقاليد فظهرت إصلاحات اوروكاجينا في منتصف الألف الثالث ق.م وقوانين اور نمو وحمورابي وغيرها من القوانين.

معلومات اثرائية:

انتبه عزيزي التلميذ: الالغام والمخلفات الحربية هي اسلحة ومواد خطيرة جداً ذات اشكال مختلفة يمكن ان تنفجر في اي وقت وتؤدي الى الاصابة بجروح خطيرة جداً او الوفاة.
عزيزي المعلم: حاول ان تقدم بعض الارشادات للحد من مخاطر الالغام والمخلفات الحربية من خلال عدم الاقتراب منها حفاظاً على سلامتهم.



خريطة رقم (٤) مواقع اقدم الحضارات في العراق

التقسيم الإداري لوطننا العراق:

يتكون التقسيم الإداري لوطننا العراق من ثماني عشرة محافظة موزعة على جميع أنحاء سندرسها كلاً على حدة من اجل التعرف على الظروف الطبيعية والبشرية لتلك المحافظات، فضلاً عن دراسة نبذة تاريخية عن كل محافظة للأطلاع على المعالم التاريخية والحضارية فيها.



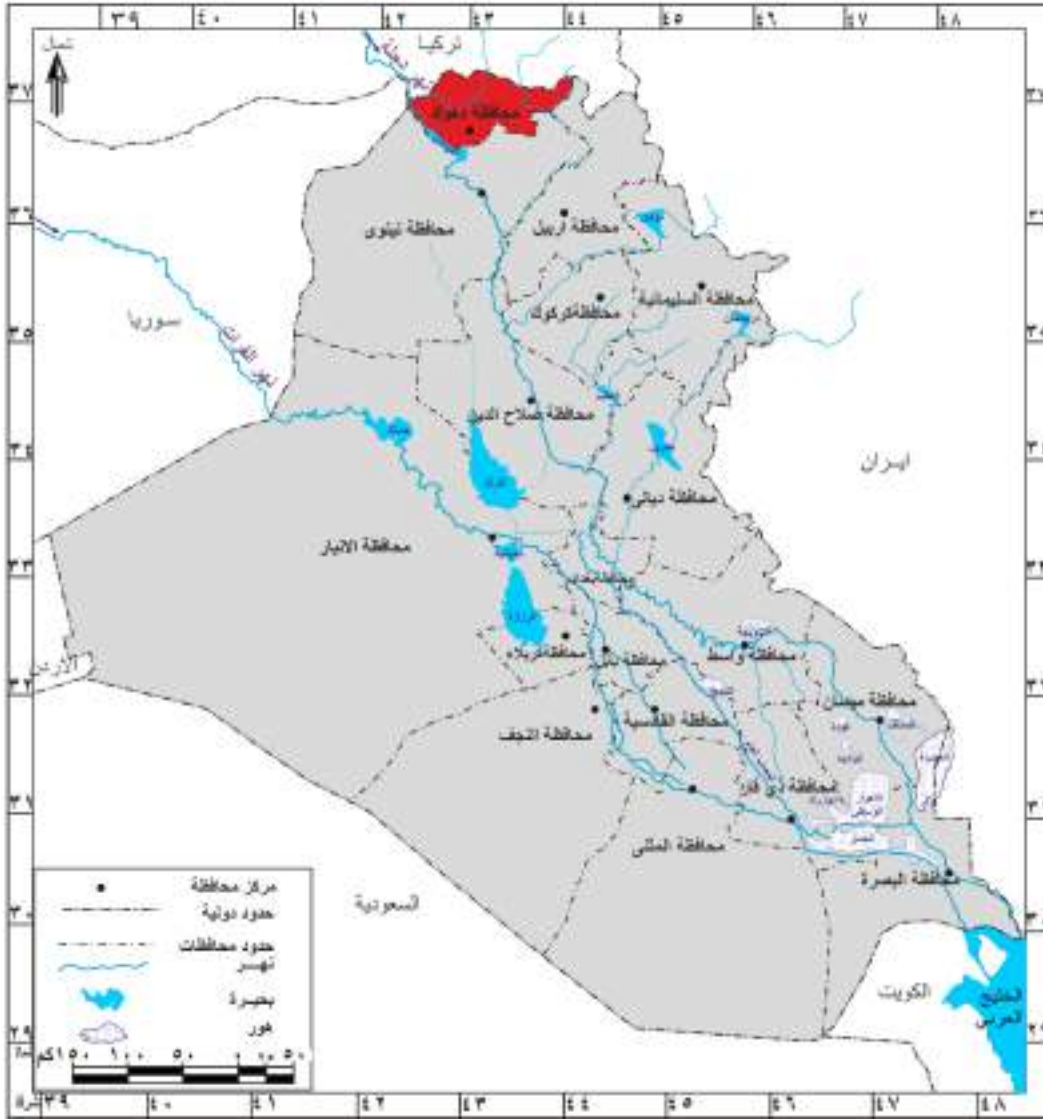
نشاط

خذ ورقاً شفافاً وارسم خريطة العراق وعين عليها الحدود الخارجية للعراق ثم حدد عليها اقسام سطح العراق ولونها.

محافظة دهوك

الموقع الجغرافي:

تقع محافظة دهوك في أقصى شمال وطننا العراق وهي احدى محافظات إقليم كردستان العراق
لاحظ الخريطة رقم (٥) .



خريطة رقم (٥) الموقع الجغرافي لمحافظة دهوك

التضاريس:

تعد تضاريس المحافظة جزءاً من تضاريس المنطقة الجبلية المتمثلة بجبال طوروس التي تشكل حدوداً فاصلة بين العراق وتركيا، وعلى الرغم من سيادة الطابع الجبلي لتضاريس المحافظة إلا ان هناك تبايناً في توزيع تلك التضاريس وتنوعها في المحافظة، ويمكن ان نقسمها على النحو الآتي:

١ - منطقة الجبال:



جبل بيخير

تشغل هذه المنطقة مساحة واسعة من سطح المحافظة اذ تحدها من ثلاث جهات هي الشمال والشرق والغرب وتتمثل بجبل بيخير (الجبل الأبيض) وجبال باكرمان وجبل كاره وجبل عقره إذ تعد اهم السلاسل الجبلية فيها.

٢ - منطقة الهضاب والسهول:

تشغل هذه المنطقة الأقسام الجنوبية والجنوبية الغربية من المحافظة، ومنها سهل زاخو (السندي) وسهل العمادية.



نشاط

هل سبق وان زرت المناطق الجبلية التي تكسوها الثلوج في فصل الشتاء؟ اكتب ثلاثة اسطر تصف جمال الطبيعة في محافظة دهوك.

المناخ

يعد مناخ المحافظة جزءاً من مناخ البحر المتوسط الرطب الذي يتميز بشتاء بارد يزداد فيه تساقط الثلوج وكمية الأمطار لتصل احياناً إلى اكثر من (١٠٠٠) ملم ، أما صيفاً فتتميز المحافظة بصيف معتدل من حيث معدلات درجات الحرارة.

الموارد المائية :

تتنوع مصادر الموارد المائية في المحافظة بين المياه السطحية التي تجري فيها والتي تتمثل بنهر دجلة والروافد المغذية له وبعض الأنهار الصغيرة التي تنحدر من الجبال، والمياه الجوفية التي تتمثل بالعيوم والينابيع ويمكن تقسيم تلك المصادر على الاقسام الاتية:

١- المياه السطحية: وتضم:

أ- نهر دجلة : يدخل نهر دجلة في الأقسام الشمالية من المحافظة وتحديدا عند قرية فيشخابور

ب- الخابور: عد اول الروافد المغذية لنهر دجلة يجري في الأقسام الوسطى من سطح محافظة

دهوك.

٢- العيون والينابيع: تتوزع مياه العيون والينابيع على مساحة واسعة من سطح محافظة دهوك، ولاسيما في منطقة العمادية وسولاف وزاخو وتعد مورداً جيداً لكثير من الاستعمالات المنزلية والزراعية.

مشاريع السيطرة والخزن:

تتمثل مشاريع السيطرة والخزن في المحافظة ببخيرة دهوك وسدها اللذين يستفاد منهما في خزن المياه وتوليد الطاقة الكهربائية، كما يقع سد الموصل وبحيرتها بين محافظتي دهوك ونيوى.



سد دهوك



نشاط

يقوم المعلم بإرشاد التلاميذ إلى موقع المحافظة والمظاهر الطبيعية من خلال استعمال خريطة العراق الإدارية.

النشاط الاقتصادي:

تتمتع المحافظة بالعديد من المقومات الاقتصادية ويمكن توزيعها على النحو الآتي:

الزراعة :

لقد ساعد مناخ المحافظة الذي يتميز بتوافر مصادر المياه والتربة الخصبة على تنوع المحاصيل الزراعية، لا سيما محاصيل الحبوب كالقمح، فضلاً عن المحاصيل الصناعية كالبنجر والتبغ، وايضاً زراعة العديد من أشجار الفاكهة، وأشجار اللوز، والجوز، والتين وغيرها من المحاصيل الزراعية، كما ساعد مناخها على توافر المراعي الطبيعية، وتربية أعداد كبيرة من الثروة الحيوانية، كالأغنام والأبقار والماعز.

الصناعة :

تشتهر محافظة دهوك بتوافر العديد من الصناعات، ولاسيما الصناعات الغذائية والإنشائية وعلى الصعيد التجاري تتميز المحافظة بوجود العديد من المنافذ الحدودية مع دولتي تركيا وسوريا، والتي كان لها اهمية كبيرة في تنشيط التبادل التجاري بين العراق من جهة و تركيا وسوريا من جهة أخرى، كما يمر من خلالها انبوب النفط العراقي - التركي المار عبر محافظة كركوك إلى تركيا ثم الى موانئ البحر المتوسط.

طرق النقل والمواصلات:

تضم المحافظة شبكة من طرق النقل الداخلية التي تربطها بالمحافظات المجاورة لها وبحكم موقعها الجغرافي أصبحت المحافظة ممراً للطرق البرية التي تربط العراق مع الدول المجاورة، ومن اهم تلك الطرق:

معلومة اثرانية (للأطلاع فقط)

طريق دهوك - تركيا، طريق دهوك - اربيل.
طريق دهوك - الموصل.
طريق دهوك - السليمانية.

هل تعلم

بلغ عدد سكان محافظة دهوك قرابة (١,٢٥٩,١٥٠) نسمة، بحسب

(للأطلاع فقط)

التقديرات الإحصائية لعام (٢٠١٧).

السياحة والاصطياف:

لقد أسهم مناخ المحافظة الذي يتميز باعتداله في فصل الصيف على تعدد المناطق السياحية في المحافظة، اذ تشكل مناطق جيدة لأغراض الراحة والاستجمام ومن اهم تلك المناطق:

- ١- مصيف زاويته
- ٢- مصيف سواره توکا
- ٣- مصيف سرسنك
- ٤- مصيف انيشكاي
- ٥- مصيف سولاف
- ٦- عيون المياه المعدنية



مصيف سولاف



مصيف زاويته

هل سبق وان زرت أحد المصايف في محافظة دهوك؟ صفْ لزملائك المناظر الطبيعية التي شاهدتها هناك.

نبذة تاريخية عن محافظة دهوك:

كشفت التنقيبات الأثرية عن تمثال من البرونز يمثل الملك الاكدي نرام - سين (٢٢٩١ - ٢٢٥٥) ق.م، ويظهر الملك نرام - سين جالساً على قاعدة دائرية عليها كتابات مسمارية مكتوبة باللغة الاكدية تشير الى دوره في توحيد دويلات المدن وانتصاراته وفتوحاته وهو محفوظ في المتحف العراقي في بغداد. اصبحت دهوك محافظة بعد صدور قانون المحافظات رقم ١٥٩ لسنة ١٩٦٩. ومن الاماكن الاثرية في محافظة دهوك:

- ١- **قلعة العمادية الاثرية:** سميت بهذا الاسم نسبة الى مؤسسها عماد الدين زنكي الذي أمر ببنائها عام (٥٣٧هـ).
- ٢- **الجسر العباسي:** وهو مشيد بالحجر على نهر الخابور في قضاء زاخو ويعد من الاثار القديمة و يمتاز بروعة هندسته المعمارية.



الجسر العباسي على نهر الخابور



قلعة العمادية



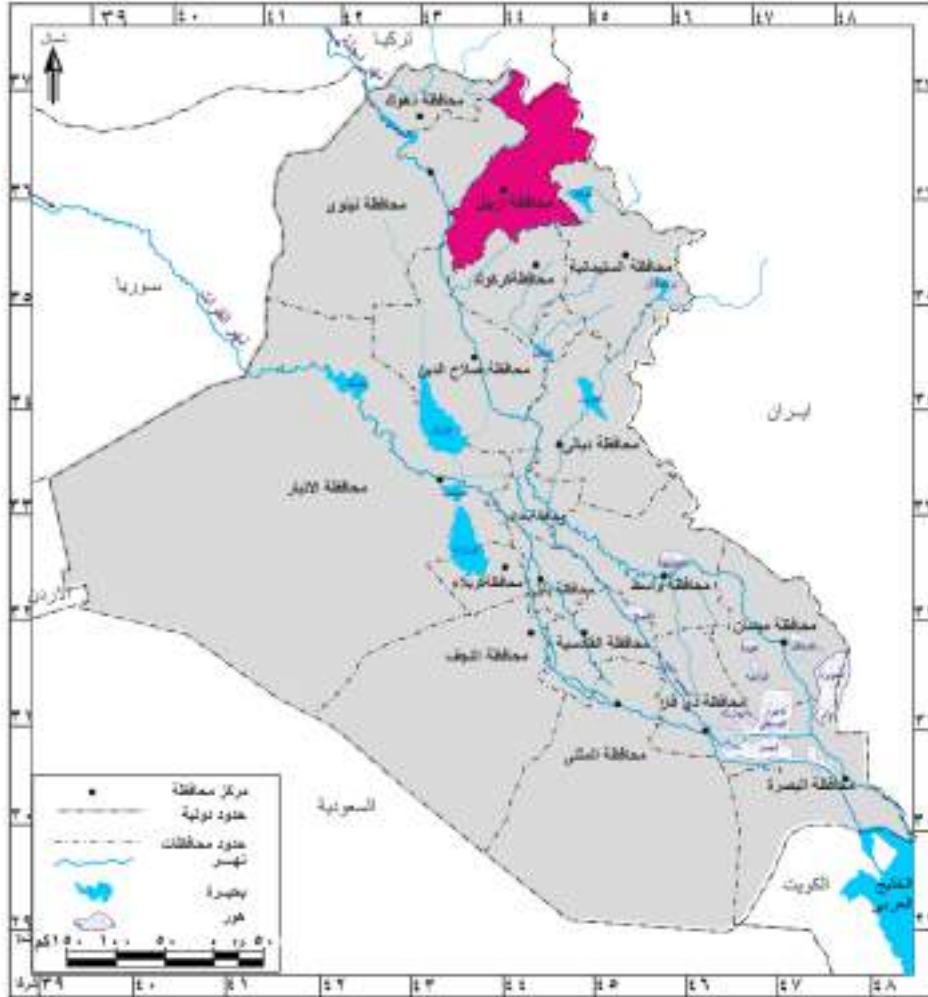
نشاط

- ١- هل تجاور محافظة دهوك إحدى الدول المجاورة للعراق؟ اذكرها.
- ٢- اعمل لوحة جدارية والصق عليها اهم المعالم الحضارية لمحافظة دهوك.

محافظة اربيل

الموقع الجغرافي:

تقع محافظة اربيل في شمال وطننا العراق وهي احدى محافظات إقليم كردستان العراق، لاحظ الخريطة رقم (٦).



خريطة رقم (٦) الموقع الجغرافي لمحافظة أربيل

التضاريس:

يمكن ان نقسم تضاريس المحافظة على قسمين رئيسيين هما:

١- منطقة الجبال العالية :

تشغل هذه المنطقة الأقسام الشمالية الشرقية من المحافظة، وتتكون من سلاسل جبلية يكون اتجاهها من الشمال الغربي الى الجنوب الشرقي، ومن أهم سلاسلها الجبلية سلسلة جبال حصاروست التي تضم أعلى القمم الجبلية، وتتمثل بقمة جبل هلكرد الذي يصل ارتفاعه إلى قرابة (٣٦٠٠)م وجبل سفين وجبل حرير.

٢- منطقة السهول والهضاب:

تشغل هذه المنطقة الجهات الجنوبية الغربية من المحافظة، واهم اقسامها هي سهل اربيل، سهل دييكة، سهل مخمور، فضلاً عن وجود العديد من الهضاب التي تنتشر على مساحة واسعة من سطح المحافظة.



جبل هلكرد

المناخ :

تتميز محافظة اربيل بسيادة مناخ البحر المتوسط الذي يتميز بصيف معتدل الحرارة وبشتاء بارد، أما كمية الامطار فتصل احياناً الى اكثر من (١٠٠٠) ملم وتزداد في الاقسام الشمالية الشرقية، مع فرص كبيرة لتساقط الثلوج.

هل تعلم

بلغ عدد سكان محافظة اربيل قرابة (١,٨٠٦,٨٧١) نسمة، بحسب التقديرات الإحصائية لعام (٢٠١٧).
(للاطلاع فقط)



نشاط

١- اين تقع محافظة اربيل؟

٢- هل تجاور محافظة اربيل إحدى الدول المجاورة للعراق؟ اذكرها

طرق النقل والمواصلات

تتميز المحافظة بموقع جغرافي جعلها حلقة وصل بين العراق والدول المجاورة، فضلاً عن كونها حلقة وصل ما بين مدن العراق الشمالية الأخرى، ولأربيل طرق برية طويلة عدة، سهلت عمليات النقل التجاري وتبادل السلع بين المحافظة والمحافظات الأخرى، كما تضم المحافظة شبكة من خطوط النقل الجوي الذي يربط العراق بمحافظاته الأخرى، ودول العالم عن طريق مطار أربيل الدولي، ومن أهم الطرق البرية:

(فقط للأطلاع)

- ١- طريق أربيل - الموصل
- ٢- طريق أربيل - كركوك
- ٣- طريق أربيل - بغداد
- ٤- طريق أربيل - دهوك - تركيا
- ٥- طريق أربيل - السليمانية- ايران

الموارد المائية:

تتنوع مصادر الموارد المائية في المحافظة ويمكن تقسيمها على النحو الآتي:

١- المياه السطحية: وتتمثل بمجموعة من الأنهار التي تتوزع على سطح المحافظة ومن أهمها:

أ- الزاب الكبير: وهو أحد روافد نهر دجلة ويجري بين محافظتي دهوك وأربيل.

ب- الزاب الصغير: وهو أحد روافد نهر دجلة ويمر في محافظات السليمانية وأربيل وكركوك.

٢- مياه العيون والينابيع: تنتشر في محافظة أربيل العديد من العيون والينابيع التي تتعدد استعمالاتها ما بين الزراعية والصناعية، فضلاً عن أن بعضها يشكل موقعاً مهماً للسياحة والاصطياف.

النشاط الاقتصادي: تتمتع المحافظة بالعديد من المقومات الاقتصادية ويمكن توزيعها على النحو الآتي:

الزراعة:

لقد أسهم مناخ المحافظة والذي يتميز بغزارة الأمطار وبتوافر التربة الخصبة على تنوع النشاط الزراعي فيها، إذ تزرع فيها العديد من المحاصيل الزراعية، لاسيما محاصيل الحبوب كالقمح ومحاصيل الفواكه والخضر، فضلاً عن زراعة العديد من المحاصيل الصناعية كالتبغ والبنجر، كما تتمتع المحافظة بتنوع الأشجار كاللوز والجوز والتين التي تنتشر على مساحات واسعة في الأقسام الشمالية من المحافظة، كما تشتهر المحافظة بتوافر المراعي الطبيعية، ولاسيما تلك المحاذية لمنطقة الجبال مما جعلها تشتهر بالثروة الحيوانية، إذ تربي فيها العديد من الأبقار والأغنام والماعز.

الصناعة

تشتهر محافظة اربيل بتوافر العديد من الصناعات، ولاسيما الصناعات الغذائية والانشائية والكيمياوية والغزل والنسيج والورق، وعلى الصعيد التجاري تتميز المحافظة بوجود عدد من المنافذ التجارية ما بين العراق وتركيا وايران.

السياحة

لقد كان لمناخ المحافظة الذي يتميز بالاعتدال، ولاسيما خلال موسم الصيف بوجود العديد من المواقع السياحية والمصايف التي تشتهر بها المحافظة اذ يقصدها السياح من جميع انحاء وطننا العراق ومن اشهر هذه المصايف:

- ١- مصيف صلاح الدين.
- ٢- مصيف حاج عمران.
- ٣- مصيف بيخال.
- ٤- مصيف شقلاوة.



مصيف شقلاوة



مصيف بيخال

نبذة تاريخية عن محافظة اربيل:

تتخر محافظة اربيل بالعديد من الاثار التاريخية التي لاتزال اثارها موجودة إلى الان ومنها: **قلعة اربيل:** ذكرت قلعة اربيل في الكتابات الاشورية والبابلية بأسم مدينة الآلهة الاربعة. وقد كانت مركزاً لعبادة الالهة البابلية (عشتار). وقد وجدت فيها الواح مسمارية لملوك اشوريين منهم اشور بانبيال وآخرون.

ومن الاثار الموجودة في اربيل منارتها المسماة بالمظفرية نسبة الى مظفر الدين حاكم اربيل وكانت المئذنة جزءاً من الجامع الكبير. وما فيها من زخارف اثرية جعلها شبيهة بمثيلاتها في الجامع النوري في الموصل وداقوق في كركوك. اصبحت اربيل محافظة عند صدور قانون المحافظات رقم (١٥٩) لسنة ١٩٦٩.



نشاط

هل شاهدت قلعة اربيل؟ اكتب ما شاهدته عن هذا الصرح الحضاري الجميل.



قلعة اربيل

محافظة السليمانية

الموقع الجغرافي:

تقع محافظة السليمانية في شمال شرق وطننا العراق، وهي إحدى محافظات إقليم كردستان العراق لاحظ الخريطة رقم (٧).



خريطة رقم (٧) الموقع الجغرافي لمحافظة السليمانية

التضاريس:

تتميز محافظة السليمانية بتنوع تضاريسها، ويمكن ان نقسمها على الأقسام الآتية:

١- منطقة الجبال :

تقع هذه المنطقة في الأقسام الشمالية الشرقية من المحافظة ومن أشهرها جبال قنديل، وجبال بازيان، وجبال قره داغ.



جبال قره داغ

٢- منطقة الهضاب والسهول :

تقع في الاقسام الجنوبية والغربية من المحافظة ومن اشهرها هضبة بنجوين وجوارته اما السهول المنبسطة فتتحصر عادة بين الهضاب والجبال، اشهرها سهل شهرزور وسهل رانية.

المناخ

يسود في المحافظة مناخ البحر المتوسط، الذي يمتاز بصيف معتدل وبشتاء بارد ممطر يتميز بارتفاع معدلات سقوط الامطار، اما من حيث معدلات درجات الحرارة والأمطار فلا تختلف كثيراً عن طبيعة مناخ محافظة اربيل.

الموارد المائية

تتنوع مصادر الموارد المائية في المحافظة،ويمكن تقسيمها على النحو الآتي:

١- المياه السطحية: وتتمثل بمجموعة من الأنهار التي تتوزع على سطح المحافظة ومن اهمها:

أ- الزاب الصغير: وهو احد روافد نهر دجلة يجري في محافظات السليمانية واربيل وكركوك ويعد النهر المصدر الرئيس للانشطة الزراعية والصناعية.

ب- نهر ديالى (سيروان): وهو احد روافد نهر دجلة تشترك منابعه بين العراق وايران يدخل محافظة السليمانية من جهتها الجنوبية الشرقية ونظراً لاهميته فقد اقيم عليه سد دربندخان.

ج- نهر العظيم : وهو احد روافد نهر دجلة تقع منابعه عند جبال قره داغ ويجري النهر في الاقسام الجنوبية من المحافظة ، وكذلك بين محافظتي صلاح الدين وديالى وتعتمد مصادر تغذيته على مياه الامطار والثلوج.

٢- مياه العيون والينابيع: تنتشر في محافظة السليمانية العديد من العيون والينابيع التي تتعدد

استعمالاتها ما بين الزراعية والصناعية، فضلاً عن ان بعضها يشكل موقعاً مهماً للسياحة والاصطياف.

مشاريع السيطرة والخزن

١- **سد دوكان على الزاب الصغير:** وهو عبارة عن بحيرة اصطناعية كبيرة تستعمل لخزن المياه للاستفادة منها لأغراض الري وتوليد الطاقة الكهربائية.

٢- **سد وخران دربندخان:** يقع على نهر ديالى ويستفاد منه في توليد الطاقة الكهربائية.



سد دوكان

طرق النقل والمواصلات

تتمتع محافظة السليمانية بحكم موقعها الجغرافي بشبكة من طرق النقل البرية، التي تربطها بالمحافظات المجاورة لها، اما على صعيد النقل الجوي فيوجد في المحافظة مطار السليمانية. ومن اهم الطرق البرية:

معلومة اثرانية (للإطلاع فقط)

- ١- طريق السليمانية - اربيل
- ٢- طريق السليمانية - تركيا
- ٣- طريق السليمانية - كركوك
- ٤- طريق السليمانية - صلاح الدين
- ٥- طريق السليمانية - بغداد



سد دربندخان

هل تعلم

بلغ عدد سكان محافظة السليمانية قرابة (٢,١٠٦,٤٢٣) نسمة حسب التقديرات الإحصائية لعام (٢٠١٧). (للإطلاع فقط)

النشاط الاقتصادي: تتمتع المحافظة بالعديد من المقومات الاقتصادية ويمكن توزيعها على النحو الآتي:

الزراعة:

لقد ساعد مناخ المحافظة الذي يتميز بتوافر مياه الامطار والتربة الجيدة على تنوع غطائها النباتي، اذ ان معظمه يتمثل بالغابات والاشجار، ولاسيما أشجار الجوز واللوز والتين، فضلاً عن زراعة العديد من المحاصيل الغذائية كالحبوب بأنواعها والمحاصيل الصناعية كالتبغ بالدرجة الاولى، فضلاً عن زراعة انواع مختلفة من الفواكه والخضر.

الصناعة:

تشتهر محافظة السليمانية بتوافر العديد من الصناعات، اهمها صناعة السكاير والسكر والصناعات الغذائية كالتعليب، والمشروبات، والصناعات الانشائية، اذ تشتهر المحافظة بوجود العديد من معامل الاسمنت فيها كمعامل الاسمنت في سرجنار وطاسلوجه وبازيان.



معمل اسمنت بازيان

السياحة :

لقد ساعد مناخ محافظة السليمانية المتمثل بمناخ البحر المتوسط، على تنوع المواقع السياحية فيها اذ يقصدها الكثير من السياح، لاسيما خلال موسم الصيف لاغراض الراحة والاستجمام، ومن اهم تلك المواقع:

- ١- مصيف سرجنار.
- ٢- سد (خزان) دوكان والمجمع السياحي.
- ٣- سد خزان دريندخان والمجمع السياحي.



مصيف سرجنار

نشاط اجمع صوراً تمثل المظاهر الطبيعية (جبال، انهار، مناطق سياحية) تصف جمال الطبيعة في محافظة السليمانية.



نبذة تاريخية عن محافظة السليمانية:

اطلق عليها الاشوريون اسم زاموا. وعثر على اثار فيها تعود الى العصر الحجري القديم* في منتصف القرن العشرين من قبل البعثة الاثرية، وهي عبارة عن الآت مصنوعة من حجر الصوان والزجاج البركاني وبعض عظام الحيوانات.

اسسها والي بغداد الشهير سليمان باشا الكبير عام ١٧٨٠م، اصبحت السليمانية محافظة بعد صدور قانون المحافظات رقم (١٥٩) لسنة ١٩٦٩.

الملك نرام سين



الات حجرية وجدت في السليمانية

نشاط

- ١- اعمل لوحة جدارية وضع عليها صوراً تمثل اشهر المواقع السياحية في محافظة السليمانية.
- ٢- هل تجاور محافظة السليمانية احدى الدول المجاورة لوطننا العراق. حددها على الخريطة.

* العصر الحجري القديم ويطلق عليه عصر جمع القوت تميز الانسان في ذلك الوقت بالتنقل وعدم الاستقرار وصنع ادواته من الحجارة وعظام الحيوانات.

محافظة نينوى

الموقع الجغرافي:

تقع محافظة نينوى في القسم الشمالي الغربي من وطننا العراق. لاحظ الخريطة رقم (٨)



خريطة رقم (٨) الموقع الجغرافي لمحافظة نينوى

نشاط

هل تجاور محافظة نينوى إحدى الدول المجاورة للعراق؟ حددها على الخريطة.

التضاريس :

نظراً لسعة مساحة محافظة نينوى يمكن ان نقسم تضاريسها على ثلاثة أقسام هي:

١- المنطقة الجبلية:



جبل سنجار

وتقع في أقصى الشمال الشرقي من المحافظة وتعد جبالها جزءاً من سلسلة الجبال الممتدة في محافظة دهوك و تتمثل بجبال باكرمان وعقرة.

٢- المنطقة المتموجة:

وتعد منطقة انتقالية بين المنطقة الجبلية والسهل الرسوبي وتكون على شكل قوس من المرتفعات، يمتد من الشمال الغربي وحتى الجنوب الشرقي وتتمثل بمرتفعات مكحول و ابراهيم وعطشان وسنجان وعدي.

٣- منطقة الهضبة :



مرتفعات مكحول

وتتمثل بهضبة الجزيرة التي تعد جزء من منطقة الهضبة الغربية، تمتد من جنوب مرتفعات مكحول وعدي وسنجان شمالاً وحتى البادية الغربية والسهل الرسوبي جنوباً، ويتكون سطحها من أراضٍ منبسطة تتخللها هضاب وروابٍ وكثبان رملية متباينة الارتفاع.

المناخ :

تتميز محافظة نينوى بتنوع مناخها نتيجة لتنوع تضاريسها، إذ يسود في أقسامها الشمالية مناخ البحر المتوسط الذي يتميز بصيف معتدل وبشتاء بارد ممطر، اما في أقسامها الجنوبية فيسود فيها مناخ السهوب الانتقالي وفي الغالب يتميز مناخ المحافظة بالاعتدال، ولاسيما خلال فصلي الربيع والخريف لذا أطلقت عليها تسمية (أم الربيعين).

أما من حيث كمية الأمطار فتختلف هي الأخرى باختلاف تضاريسها، إذ تزداد كمية الأمطار الساقطة في الأقسام الشمالية وتقل كلما اتجهنا جنوباً.

بلغ عدد سكان محافظة نينوى قرابة (٣,٦٣٣,٦٤٨) نسمة بحسب التقديرات الإحصائية لعام (٢٠١٧).
(للاطلاع فقط)

طرق النقل والمواصلات :

نظراً لموقع محافظة نينوى المميز الذي يشرف على حدود دولتين هما سوريا وتركيا، لذا اشتهرت المحافظة تجارياً من خلال توافر المنافذ الحدودية التي كان لها دورٌ في انعاش حركة التبادل التجاري بين محافظات وطننا العراق وتضم محافظة نينوى شبكة من الطرق التي تربطها بالمحافظات الأخرى ومن أهم تلك الطرق:

معلومة اثرانية (للاطلاع فقط)

- ١- طريق الموصل - دهوك - ٢- طريق الموصل - اربيل
- ٣- طريق الموصل - كركوك - ٤- طريق الموصل - صلاح الدين - ٥- طريق الموصل - بغداد

وتضم المحافظة ايضاً خطأ لسكة الحديد يربطها ببغداد مروراً بمحافظة صلاح الدين، كما تضم المحافظة شبكة من طرق النقل الداخلية التي تربطها بالأقضية والنواحي التابعة لها، كما تضم المحافظة شبكة من طرق النقل الجوي الذي يربط العراق بمحافظاته عن طريق مطار الموصل.

الموارد المائية:

تتميز الموارد المائية في محافظة نينوى بتنوعها ، ويمكن تقسيمها على النحو الآتي:

١- المياه السطحية: وتتمثل بنهر دجلة الذي يخترق المحافظة من الشمال الى الجنوب ويعد الشريان الحيوي لمختلف الأنشطة الاقتصادية.

٢- مياه العيون والينابيع: تتوزع هذه المصادر المائية في العديد من أقسام المحافظة، ولاسيما الشمالية التي تعددت استعمالاتها بين الزراعية والصناعية، فضلاً عن ان بعضها يشكل موقعاً مهماً للسياحة والاصطياف كما يستعمل بعضها للعلاج من خلال معالجة العديد من الأمراض الجلدية كعيون حمام العليل.

وتتميز المحافظة بتوافر العديد من المشاريع الاروائية اهمها مشروع ري الجزيرة الشمالي والجنوبي، فضلاً عن مشاريع السيطرة والخزن وأهمها سد الموصل الذي يقع شمال مدينة الموصل.



سد الموصل

النشاط الاقتصادي: تتمتع المحافظة بالعديد من المقومات الاقتصادية ويمكن توزيعها على النحو

الآتي:

الزراعة:

لقد ساعد مناخ المحافظة والذي يتميز بتوافر الأمطار والتربة الخصبة على تنوع النشاط الزراعي فيها، وتزرع فيها العديد من المحاصيل الزراعية اهمها محاصيل الحبوب كالقمح والشعير، وتحثل المحافظة المراتب الاولى في زراعة محاصيل الحبوب المعتمدة على مياه الأمطار، فضلا عن زراعة العديد من المحاصيل الصناعية كالذرة والبنجر ومحاصيل العلف.



زراعة القمح في محافظة نينوى

الصناعة والثروات المعدنية:

تشتهر المحافظة بتوافر العديد من الصناعات فيها، لاسيما الصناعات الغذائية والصناعات الانشائية كمصانع الاسمنت ومنها معمل إسمنت بادوش وحمام العليل وسنجار والصناعات الجلدية والغزل والنسيج والورق والتكرير. كما تشتهر محافظة نينوى بتوافر العديد من الثروات المعدنية ومن اهمها الكبريت والفوسفات في منطقة المشراق، كما تضم المحافظة حقولا كبيرة لانتاج النفط اهمها حقول عين زالة وبطمة والقيارة.



معمل إسمنت بادوش



نشاط

هل سبق وان زرت احد المصانع الكبيرة في محافظة نينوى؟ اكتب ثلاثة اسطر تصف فيها مشاهدتك الأعمال الصناعية في ذلك المصنع.

السياحة

لقد كان لمناخ المحافظة الذي يتميز بالاعتدال، ولاسيما خلال موسم الصيف، الاثر الاكبر في ان يقصدها السياح من جميع انحاء وطننا العراق ومن اشهر مواقعها السياحية:

١- مجمع الغابات السياحي.

٢- دور الشلالات.

٣- الجزيرة السياحية.

٤- سد وبحيرة الموصل.

٥- عيون المياه المعدنية وأهمها حمام العليل،

والعيون الكبرى.



غابات الموصل



دور الشلالات

نبذة تاريخية عن محافظة نينوى:

اتخذ الاشوريون محافظة نينوى دولة لهم واسسوا فيها خمس عواصم هي: اشور العاصمة الدينية، النمرود (كالح)، نينوى العاصمة الادارية، دورشروكين (خرسباد) والحضر، وهي تمثل عواصم ادارية وعسكرية، وقد اصبحت هذه المدن منطلقاً لامبراطوريتهم المترامية الاطراف.

ومن اهم المواقع التاريخية فيها موقع نمريك الاثري الذي يعد من اقدم القرى الزراعية.

وقد كانت الموصل مركزاً حضارياً في العصور الاشورية كما كانت موطناً للعديد من القبائل العربية قبل الاسلام. أما في العصر الإسلامي فقد حررها العرب المسلمون في زمن الخليفة الراشدي الثاني عمر بن الخطاب (رضي الله عنه) من السيطرة الساسانية، كما اصبحت لها اهمية متميزة في العصرين الاموي والعباسي. وسميت بالموصل لأنها تصل بين الشام ومنطقة خراسان، او بين الجزيرة والعراق، كما سميت ايضاً بالحدباء نسبة الى منارة المسجد الكبير النوري، اصبحت نينوى محافظة عند صدور قانون المحافظات رقم (١٥٩) لسنة ١٩٦٩.

ومن معالمها التاريخية: الجامع الكبير (الجامع النوري)، وجامع النبي يونس، وجامع النبي جرجيس (عليهم السلام)، فضلاً عن الكثير من الكنائس والاديرة التاريخية.



جامع النبي جرجيس (عليه السلام)



جامع النبي يونس (عليه السلام)



إحدى الكنائس في الموصل



نشاط

اجمع صوراً لأهم المعالم التاريخية في محافظة نينوى في لوحة جدارية وعلقها في صفك.

أهم المدن التاريخية في محافظة نينوى :

١- آشور :

وهي العاصمة الدينية لبلاد اشور ، وسميت بهذا الأسم نسبة الى الآله آشور.



قلعة الشرقاط



الملك اشور بانيبال

٢- نمرود (كالح) :

وهي ثاني عواصم الاشوريين ويعد الملك الاشوري (شلمانصر الاول) (القرن الثالث عشر ق.م) مؤسسها. ومن اشهر معالمها التاريخية الزقورة.

٣- نينوى :

سميت المحافظة باسمها وهي ثالث عاصمة للاشوريين. حكمها العديد من الملوك الاشوريين من اشهرهم الملك آشور بانيبال (٦٦٩-٦٢٧ ق.م)

٤- دور شروكين (خرسباد) :

وهي العاصمة الرابعة للأشوريين التي شيدها الملك سرجون الثاني (٧٢١ - ٧٠٥ ق.م) وهي مربعة تحيط بها اسوار وابواب متعددة.

٥- مدينة الحضر :

وتعد مدينة الحضر احدى المدن العربية التي امتازت بفنون العمارة والنحت واعمال المعادن وفنون الحرب. ومن اهم ملوكها سنطروق الأول والثاني.



الثور المجنح

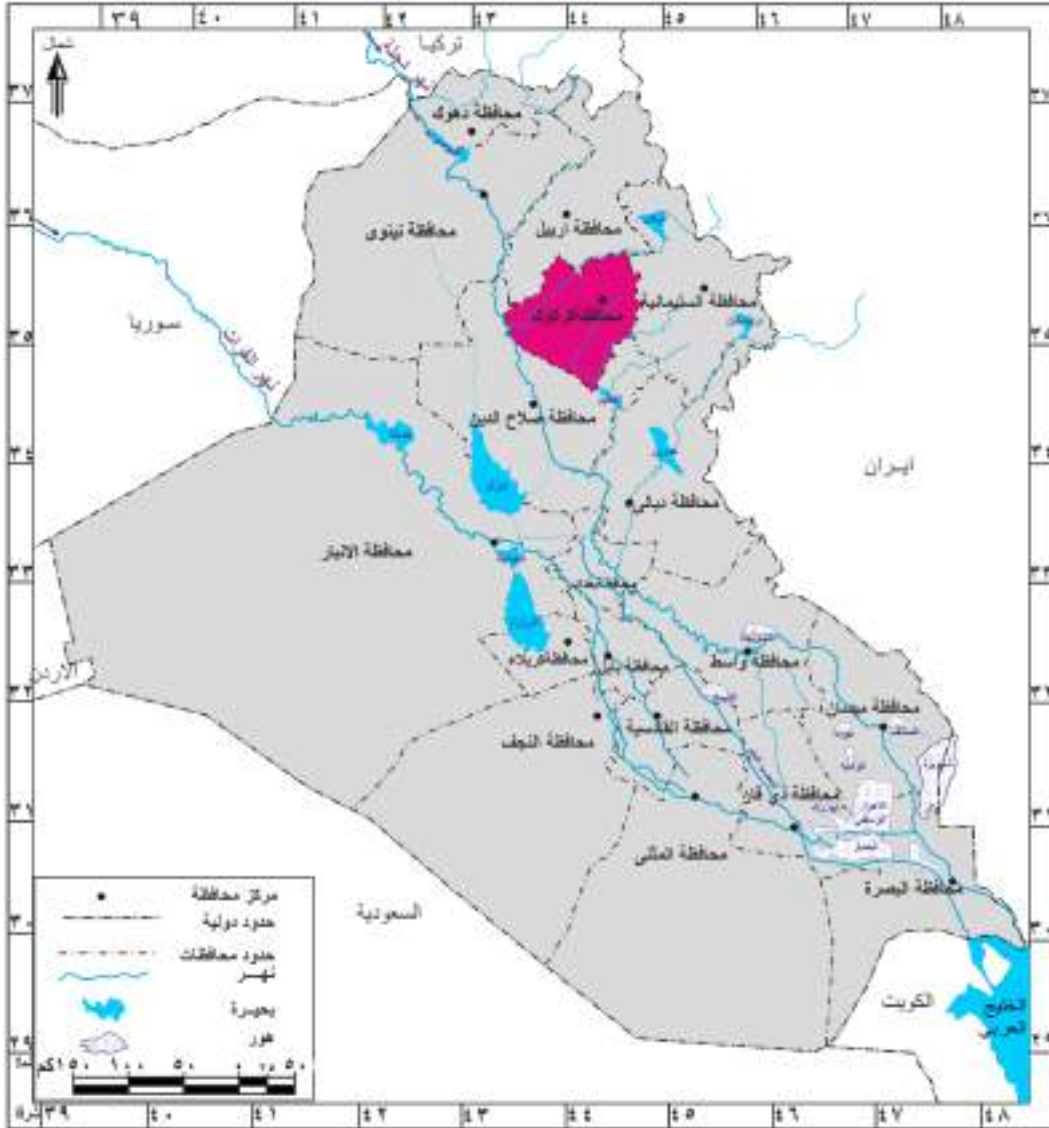


مدينة دور شروكين

محافظة كركوك

الموقع الجغرافي :

يتميز الموقع الجغرافي لمحافظة كركوك بأهمية كبيرة لكونه يمثل الجسر الرابط بين محافظات شمال العراق من جهة وبين محافظات وسطه وجنوبه من جهة اخرى. لاحظ الخريطة رقم (٩).



خريطة رقم (٩) الموقع الجغرافي لمحافظة كركوك

نشاط خذ خريطة صماء للعراق وحدد عليها المحافظات التي تجاور محافظة كركوك.

التضاريس :

تتميز محافظة كركوك بموقعها في منطقة انتقالية بين المنطقة المتموجة ومنطقة السهل الرسوبي، لذا يمتاز سطحها بتنوع مظاهر التضاريس، ومن ابرز المظاهر التضاريسية للمحافظة هي:

١- التلال :

تعد من أهم المظاهر التضاريسية المميزة لسطح المحافظة وتتركز في الأقسام الجنوبية الغربية منها، وأهمها تلال حميرين التي يصل معدل ارتفاعها الى حوالي (٣٥٠)م وبعرض يتراوح ما بين (٥-١٢) كم وتلال نبط داغ وكاني دوميلان.

٢- الهضاب :

وتتركز في الأقسام الشمالية الشرقية من المحافظة وأهمها هضبة كركوك التي يتراوح معدل ارتفاعها ما بين (٢٠٠-٣٠٠) م.

٣- السهول :

وتتركز في معظم أقسام سطح المحافظة ويرجع سبب تكوينها الى الترسيبات التي حملتها الأنهار الجارية ومنها سهل حميرين وسهل الحويجة.

المناخ

تقع محافظة كركوك ضمن مناخ السهوب*، وهو مناخ انتقالي بين مناخ البحر المتوسط الذي يتركز في الأقسام الشمالية من المحافظة وبين المناخ شبه الصحراوي في الجنوب وتبعاً لذلك فقد تميز مناخ المحافظة باعتدال درجات الحرارة في الأقسام الشمالية فيما تتميز الأقسام الجنوبية بارتفاع درجات الحرارة، اما الأمطار فتتباين هي الأخرى في معدلاتها باختلاف تضاريس المحافظة اذ تزداد في الأقسام الشمالية وتقل كلما اتجهنا جنوباً وتتراوح كمياتها بين ٦٠٠-٣٠٠ ملم.

هل تعلم

بلغ عدد سكان محافظة كركوك قرابة (١,٥٥٦,٨١٦) نسمة حسب التقديرات الإحصائية لعام (٢٠١٧).
(للاطلاع فقط)

الموارد المائية :

تقسم الموارد المائية في محافظة كركوك على قسمين رئيسيين هما:

١- المياه السطحية: وتتمثل بالأنهار والروافد التي تجري في المحافظة وأهمها:

أ- الزاب الصغير: وهو احد روافد نهر دجلة يجري في الأقسام الشمالية الشرقية من المحافظة ويجري بين محافظات السليمانية و اربيل وكركوك.

* وهو مناخ انتقالي بين البحر المتوسط والمناخ شبه الصحراوي وسمي بهذا الاسم نسبة الى نباتات السهوب التي تسود منطقة العروض المدارية.



سد العظيم



سد دبس

ب-العظيم: ويجري في الأقسام الجنوبية الغربية من المحافظة.

٢- العيون والينابيع:

تتركز مناطق العيون والينابيع في اغلب اقسام المحافظة ولاسيما في حميرين وكاني دوميلان. اما بالنسبة لمشاريع السيطرة والخزن فتتميز المحافظة بوجود عدد من المشاريع من اهمها سد دبس ومشروع ري الحويجة على الزاب الصغير.



نشاط

حاول ان تحدد وبمساعدة معلمك/معلمتك مواقع السدود والأنهار في محافظة كركوك على خريطة العراق.

طرق النقل والمواصلات :

سبق وان بينا بأن لموقع محافظة كركوك اهمية كبيرة لذا فأنها تعد حلقة الوصل بين مدن الشمال والوسط والجنوب لذلك فهي تتميز بتعدد طرق النقل المارة بها والخارجة منها، وهي:

معلومة اثرانية (للإطلاع فقط)

- | | |
|----------------------------|----------------------------|
| ١- طريق كركوك - اربيل | ٢- طريق كركوك - الموصل |
| ٣- طريق كركوك - السليمانية | ٤- طريق كركوك - صلاح الدين |
| ٥- طريق كركوك - بغداد | |

كما تضم المحافظة خطأ لسكة الحديد الذي يربطها بمحافظة صلاح الدين حتى مدينة حديثة في محافظة الانبار، وتضم محافظة كركوك شبكة من الطرق الداخلية التي تربطها بالاقضية والنواحي التابعة لها وقد سهلت تلك الشبكة عمليات النقل التجاري وتبادل السلع بين المحافظة والمحافظة الاخرى.

النشاط الاقتصادي تتمتع المحافظة بالعديد من المقومات الاقتصادية ويمكن توزيعها على

النحو الآتي:

الزراعة :

تتميز محافظة كركوك بسيادة الطابع الزراعي، اذ تزرع فيها العديد من المحاصيل الزراعية واهمها القمح والشعير، فضلاً عن زراعة المحاصيل الصناعية كالذرة والقطن وزهرة الشمس، كما تتميز المحافظة بتوافر العديد من المراعي الطبيعية اذ تربي فيها العديد من انواع الحيوانات.

الصناعة والثروة المعدنية :

تشتهر محافظة كركوك بالعديد من الصناعات، اهمها الصناعات الانشائية كالإسمنت والصناعات الغذائية والصناعات الاستخراجية*. كما تعد محافظة كركوك واحدة من بين المحافظات التي تشتهر بتوافر العديد من الحقول النفطية واهمها حقول بابا كركر وجمبور وباي حسن، فضلاً عن تواجد حقول الغاز الطبيعي والكبريت.



حقول الغاز



حقول النفط

* الصناعات الاستخراجية: وهي الصناعات التي تعتمد على استخراج النفط والكبريت والفحم من باطن الارض.

نبذة تاريخية عن محافظة كركوك:



موقع جرمو

اسم كركوك مشتق من كلمة (كركر) وتعني شعلة النار الملتهبة. وقد عثر فيها على العديد من المعابد والقصور والنصوص القانونية المدونة بالخط المسماري التي تعود الى حوالي (٣٥٠٠) سنة ق.م.

ومن اهم ما يميز كركوك قلعتها الشاخصة و معالم المنطقة القديمة كموقع جرمو وسوق كركوك الذي يقع بجانب القلعة، كانت كركوك لواءً تابعاً الى ولاية الموصل عام (١٨٧٩م) وفي عام (١٩٧٦م) استبدل اسمها من لواء كركوك إلى محافظة كركوك.



قلعة كركوك



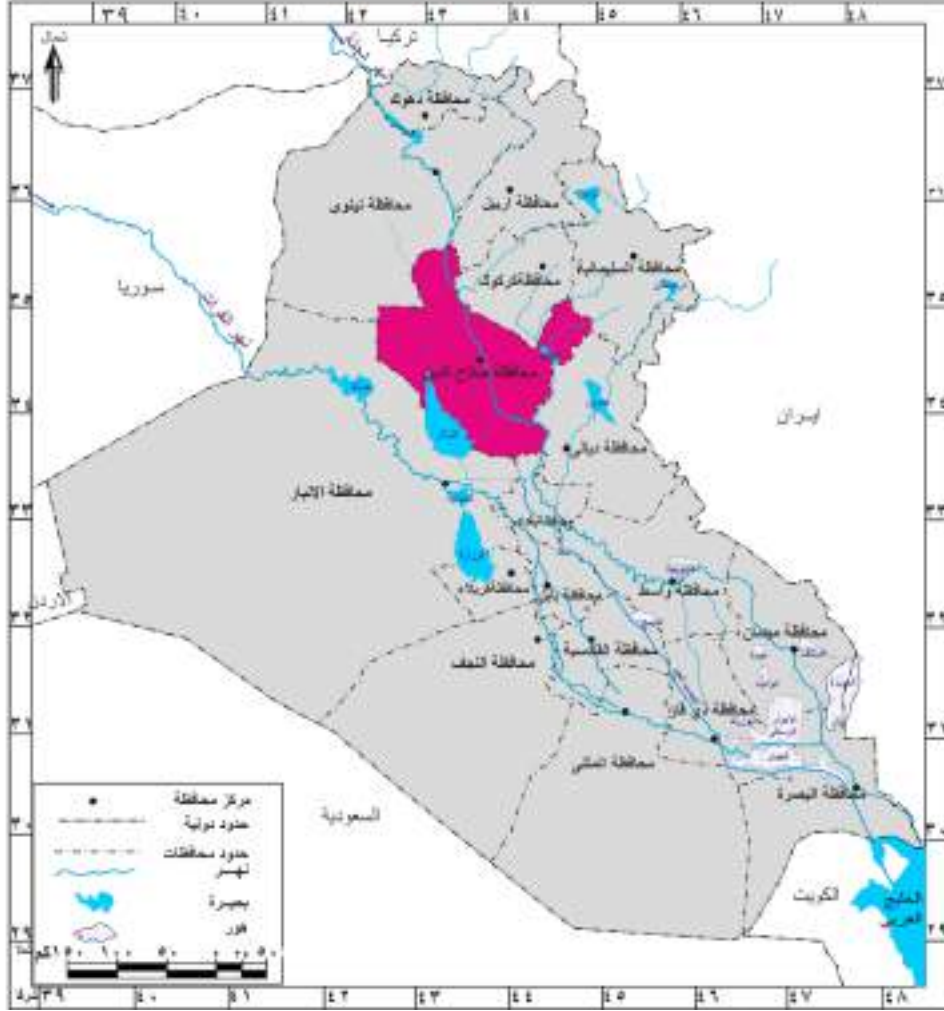
نشاط

- ١- اكتب خمسة اسطر تصف فيها اهم المعالم الحضارية والتاريخية لمحافظة كركوك؟
- ٢- هل سبق وان شاهدت تلال حميرين عند سفرك الى المناطق الشمالية من وطننا العراق؟ صف ما رأيته لزملائك.
- ٣- كم رافداً من روافد نهر دجلة يجري في محافظة كركوك؟
- ٤- عدد اقسام سطح محافظة كركوك؟

محافظة صلاح الدين

الموقع الجغرافي

تتميز محافظة صلاح الدين بتعدد المحافظات التي تجاورها. لاحظ الخريطة رقم (١٠).



خريطة رقم (١٠) الموقع الجغرافي لمحافظة صلاح الدين

التضاريس :

تتميز تضاريس محافظة صلاح الدين بموقعها المتوسط ما بين المنطقة المتموجة شمالاً ومنطقة السهل الرسوبي جنوباً، وتنتشر فيها العديد من المظاهر التضاريسية التي يمكن تقسيمها كالآتي:

١- المنطقة المتموجة:

تقع هذه المنطقة في الاقسام الشمالية وتعد تضاريسها امتدادا لتضاريس المنطقة المتموجة التي تتمثل بتلال حميرين ومكحول.

٢- هضبة الجزيرة :

تقع هذه المنطقة في الاقسام الغربية من المحافظة وتمتد بين تلال حميرين ووادي الثرثار ويتميز سطحها بالتموج في معظم أجزائه.

٣- السهل الرسوبي:

يحتل الأقسام الجنوبية والجنوبية الغربية من المحافظة ويغلب عليه صفة الانبساط.



نشاط

ارسم خريطة العراق وحدد عليها محافظة صلاح الدين .

المناخ :

تقع محافظة صلاح الدين وباقي اقسام مناطق العراق ضمن المنطقة شبه المدارية الحارة، الامر الذي انعكس تأثيره على تحديد صفة المناخ السائد والذي تمثل بالمناخ شبه الصحراوي الذي يتميز بشتاء ممطر وصيف حار جاف، اما من حيث كمية الامطار فتتباين في كميتها تبعاً لاختلاف تضاريسها اذ تزداد شمالاً وتقل كلما اتجهنا جنوباً وتتراوح كمياتها ما بين (٣٠٠-٦٠٠) ملم .

هل تعلم

بلغ عدد سكان محافظة صلاح الدين قرابة (١,٥٥٤,٠٣٧) نسمة بحسب التقديرات الإحصائية لعام (٢٠١٧).
(للاطلاع فقط)

طرق النقل والمواصلات :

تضم محافظة صلاح الدين شبكة من الطرق الرئيسية التي تربطها بالمحافظات المجاورة من خلال طرق برية عديدة اهمها:

معلومة اثرانية (للاطلاع فقط)

- ١- طريق صلاح الدين - الموصل
- ٢- طريق صلاح الدين - كركوك
- ٣- طريق صلاح الدين - اربيل
- ٤- طريق صلاح الدين - السليمانية
- ٥- طريق صلاح الدين - الانبار
- ٦- طريق صلاح الدين - ديالى
- ٧- طريق صلاح الدين - بغداد

كما تضم المحافظة أيضاً خطأ لسكة الحديد يمتد بين بغداد - صلاح الدين - موصل.



نشاط

لو سافرت من محافظة صلاح الدين الى محافظة دهوك، ما اسم المحافظات التي تمر بها خلال سفرك؟

الموارد المائية:

تضم المصادر المائية في المحافظة :

المياه السطحية وتمثل بالآتي:

أ- نهر دجلة: يعد نهر دجلة الشريان الحيوي للأنشطة الاقتصادية في المحافظة.

ب- نهر العظيم: ويجري في الاقسام الشرقية من المحافظة في قضاء طوز خرماتو.

اما المشاريع الاروائية فيعد منخفض الثرثار من اكبر تلك المشاريع ويقع في الاقسام الجنوبية بين محافظتي صلاح الدين والانبار.

ومن مشاريع السيطرة والخزن سد سامراء الواقع على نهر دجلة والذي يعد من اهم تلك المشاريع، اذ يقوم بتحويل قسم من مياه نهر دجلة الى منخفض الثرثار للاستفادة منه في خزن المياه وكذلك تغذية نهر الفرات خلال موسم الصيف عن طريق قناة الثرثار.



سد سامراء

النشاط الاقتصادي تتمتع المحافظة بالعديد من المقومات الاقتصادية ويمكن توزيعها على

النحو الآتي:

الزراعة:

تتميز المحافظة بتنوع النشاط الزراعي، اذ تزرع فيها العديد من المحاصيل الزراعية يأتي في مقدمتها محاصيل الحبوب كالقمح والشعير، والمحاصيل الصناعية كالقطن، وزهرة الشمس، فضلاً عن زراعة العديد من اشجار الفواكه والحمضيات.

الصناعة:

تشتهر المحافظة بتوافر العديد من الصناعات فيها، ولاسيما الصناعات الغذائية والصناعات الدوائية التي تتمثل بمصنع سامراء للادوية والعقاقير الطبية كما تشتهر المحافظة بصناعة التكرير، اذ تضم اكبر مصفى للنفط في بيبي.



مصفى بيجي

نبذة تاريخية عن محافظة صلاح الدين:

يرتبط اسم المحافظة باسم القائد صلاح الدين الايوبي الذي حرر العديد من مدن البلاد العربية.

اهم المدن التاريخية لمحافظة صلاح الدين:

- **مدينة تكريت:** ورد ذكرها في العديد من المصادر التاريخية الاشورية والاسلامية والرومانية وتكريت كلمة سريانية اصلها جاء من (تجريت) اي المتجر لأن اهلها كانوا يشتهرون بالتجارة والبيع والشراء، كما ورد اسم تكريت في المصادر السريانية بصيغة (تكريث).
- **مدينة سامراء:** سميت مدينة سامراء بأسماء عدة منها سامرا وسرّ من رأى، وايضاً بسبب بناء حصن سومير الذي كان مانعاً لدخول الاعداء الى هذه المدينة، ومن كلمة سومير جاء اسم سامراء وبني هذا الحصن في الحقبة الساسانية ثم حُرّف هذا الاسم ليصبح فيما بعد بصيغة سرّ من رأى.



القائد صلاح الدين الأيوبي

لقد اثبتت التنقيبات الاثرية ان موقع سامراء كان

اهلاً بالسكان منذ عصور ما قبل التاريخ، منها تل الصوان الذي يرجع تاريخه الى الالف السادس ق.م بالقرب من سامراء وقد كشف عنه علماء الاثار العراقيون وعثر فيه على ابنية تعد من اقدم الابنية التي استعمل في بنائها اللبن المقولب، وعثر في الموقع على ابنية قديمة من اللبن وتمائيل من المرمر والفخار الملون .



جرة من الفخار

أما مدينة سامراء الإسلامية فقد انتقلت عاصمة الخلافة العباسية إليها بعد العاصمة بغداد عام (٢٢٠هـ- ٢٢١هـ) خلال حكم الخليفة العباسي المعتصم بالله تبعه ابنه الواثق. غير ان ازدهارها كان في زمن الخليفة المتوكل (٨٤٧ - ٨٦١م)، ولم يطل مقام العباسيين فيها كثيراً فقد تركها الخليفة المعتمد على الله عام (٨٩٢م) الذي اعاد مقر الخلافة الى بغداد ثانية.

ويوجد في سامراء الروضة العسكرية حيث مرقد الأمامين الهادي علي بن محمد بن علي بن موسى (٢١٢- ٢٥٤هـ)، وابنه (الحسن العسكري) الحسن بن علي بن محمد (٢٣٢-٢٦٠هـ) (عليهما السلام).



مرقد الأمامين العسكريين (عليهما السلام)



جامع ابي دلف



مئذنة الملوية

ومن اهم المعالم التاريخية فيها أيضاً وجود بعض القصور كقصر العاشق والمعشوق ومسجدها الجامع (جامع الملوية) ودار الخليفة وجامع ابي دلف. وقد ظلت سامراء مقراً للخلافة العباسية مايقارب ٥٨ عاماً (٨٣٤-٨٩٢م)، وفي عام (٢٧٩هـ/٨٩٢م) ترك الخليفة المعتمد بالله المدينة ليتخذ من بغداد عاصمة له قبل ستة اشهر من وفاته. اصبحت صلاح الدين محافظة سنة ١٩٧٦م.



قصر العاشق والمعشوق

نشاط

عند سفرك الى محافظة صلاح الدين، سجل ملاحظاتك عما شاهدته في هذه المحافظة ولاسيما مدنها التاريخية.

فكر واجب

- ١- في اثناء تجوالك في مدينتك هل لاحظت بعض الاثار التاريخية القديمة؟ سجلها في دفترك.
- ٢- خذ خريطة صماء للعراق وحدد عليها مناطق الحضارات القديمة.
- ٣- في اثناء سفرك الى المنطقة الشمالية، هل عرفت المحافظات التي مررت بها؟ عددها ثم اذكر اهم الاثار الحضارية لكل محافظة ذكرتها.

محافظة ديالى

الموقع الجغرافي

تقع محافظة ديالى في القسم الأوسط من شرق العراق، لاحظ الخريطة رقم (١١).



خريطة رقم (١١) الموقع الجغرافي لمحافظة ديالى



نشاط

هل تجاور محافظة ديالى احدى الدول المجاورة للعراق؟ حددها على الخريطة.

التضاريس:

لقد كان لشكل محافظة ديالى والقريب من الشكل الطولي دور في تنوع مظاهر السطح فيها اذ يمكن ان نقسمها على قسمين رئيسيين هما:

١- المنطقة المتموجة:

وتقع في الاقسام الشمالية والشمالية الشرقية من المحافظة وتعد تلال حمرين اهم تلك المظاهر.

٢- السهل الرسوبي:

ويشغل مساحة واسعة من سطح المحافظة، ولاسيما في الاقسام الوسطى والجنوبية ويتميز بالانبساط التام في معظم اجزائه، اذ لا ترتفع معظم اراضيه عن (١٠٠) م فوق مستوى سطح البحر.



تلال حميرين

المناخ :

يسود في المحافظة نوعان من المناخ الاول مناخ السهوب ويتمثل في الاقسام الشمالية والثاني المناخ شبه الصحراوي الذي يتمثل في الاقسام الوسطى والجنوبية، وتبعاً لتلك الصفات فقد تميزت الاقسام الشمالية بشتاء بارد ممطر وبصيف معتدل فيما كانت الاقسام الاخرى تعاني من ارتفاع درجات الحرارة، اما الامطار فتتباين كمياتها اذ تزداد بشكل عام كلما تقدمنا من الجنوب الى الشمال وتتراوح كمياتها ما بين (١٥٠ - ٦٠٠) ملم.

هل تعلم

بلغ عدد سكان محافظة ديالى قرابة (١,٥٩٤,٩٤٢) نسمة بحسب التقديرات الإحصائية لعام (٢٠١٧).
(للاطلاع فقط)

طرق النقل والمواصلات :

لقد كان لموقع محافظة ديالى الحدودي مع جمهورية ايران الاسلامية دوراً في تنشيط حركة التبادل التجاري بين العراق وايران من خلال وجود عدد من المنافذ الحدودية التي تنظم حركة التبادل التجاري بين البلدين، كما تضم المحافظة شبكة من الطرق الرئيسية التي تربطها بالمحافظات المجاورة من خلال طرق برية عديدة اهمها:

معلومة اثرائية (للاطلاع فقط)

- ١- طريق ديالى - المنافذ الحدودية مع جمهورية ايران الاسلامية
- ٢- طريق ديالى - بغداد
- ٣- طريق ديالى - صلاح الدين
- ٤- طريق ديالى - السليمانية
- ٥- طريق ديالى كركوك

الموارد المائية:

تضم محافظة ديالى العديد من المصادر المائية اهمها:

المياه السطحية: وتضم:

أ- نهر ديالى: يتكون من منبعين اثنين احدهما في العراق والآخر في ايران، ويصب في نهر دجلة جنوب مدينة بغداد ويعد الشريان الحيوي الذي يعتمد عليه سكان المحافظة في الأنشطة الاقتصادية ولاسيما الزراعية منها .

ب- نهر العظيم: يوجد النهر في منطقة العظيم ويجري في محافظتي ديالى وصلاح الدين. اما مشاريع السيطرة والخزن فتتمثل بسد ديالى وسد حميرين على نهر ديالى وسد العظيم على نهر العظيم، فضلا عن مشروع خزان حميرين الذي يعد من اكبر المشاريع الخزنية في المحافظة.

النشاط الاقتصادي تتمتع المحافظة بالعديد من المقومات الاقتصادية ويمكن توزيعها على

النحو الآتي:

الزراعة:

تعد محافظة ديالى واحدة من بين المحافظات التي تشتهر بإنتاجها الزراعي، إذ تزرع فيها العديد من المحاصيل الزراعية ولاسيما النخيل والفواكه التي تشتهر بها كالبرتقال واللالنكي والليمون وغيرها من الفواكه والمحاصيل الصناعية.



زراعة الحمضيات في محافظة ديالى

نشاط

١- ماهي المحاصيل الزراعية التي تشتهر بها محافظة ديالى؟

٢- هل تشتهر محافظة ديالى بالثروات المعدنية؟ اذكرها .

الصناعة والثروات المعدنية:

تشتهر المحافظة بتوافر العديد من الصناعات فيها ولاسيما الصناعات الغذائية والتعليب والصناعات الكهربائية والميكانيكية كما تشتهر بتوافر الحقول النفطية والتي تتمثل بحقول نفط خانة والذي ساعد في توافر العديد من الصناعات وبخاصة صناعة التكرير و التي تتمثل بمصفى الوند.



شركة ديالى للصناعات الكهربائية

السياحة

توجد في محافظة ديالى العديد من المرافق السياحية أهمها:

١- المنطقة السياحية في الصدور.

٢- منطقة تلال حميرين.

٣- بحيرة حميرين.

نبذة تاريخية عن محافظة ديالى:

تعد محافظة ديالى من المناطق الحضارية المهمة في العراق، سميت سابقاً (بلواء ديالى) نسبة الى نهر ديالى الرافد المهم الذي يروي معظم أراضيها، كانت تسمى في العهدين العباسي والعثماني بـ (طريق خراسان)، وقد تمكن علماء الآثار من تحديد الكثير من التلال الاثرية التي سكنها العراقيون القدماء منذ عصور ما قبل التاريخ، لاسيما عصر العبيد حوالي ستة آلاف سنة ق.م وعصر فجر السلالات في الالف الثالث ق.م، والعصر البابلي القديم في الالف الثاني ق.م، كما ورد اسم بعقوبة في اللغات الارامية القديمة، وقد كان يطلق عليها في العصور القديمة اسم باعقوبا وتعني بيت العقوبة.



نهر ديالى

وقد عثر على العديد من الاثار التاريخية من معابد وقصور في مختلف مدنها القديمة، مثل تل اسمر (اشنونا القديمة) التي ازدهرت في العصر البابلي القديم وكذلك موقع خفاجي (توتوب). وقد امدتنا التنقيبات الاثرية لهذه المحافظة بالالف الرقم الطينية المدونة بالخط المسماري. اصبحت ديالى محافظة بعد صدور قانون المحافظات رقم (١٥٩) لسنة ١٩٦٩.



نشاط

اعمل لوحة جدارية وعلق عليها صوراً عن محافظة ديالى وسد حميرين وتل اسمر وبعض الرُقم الطينية المدونة بالخط المسماري.



رقيم طيني مدون بالخط المسماري

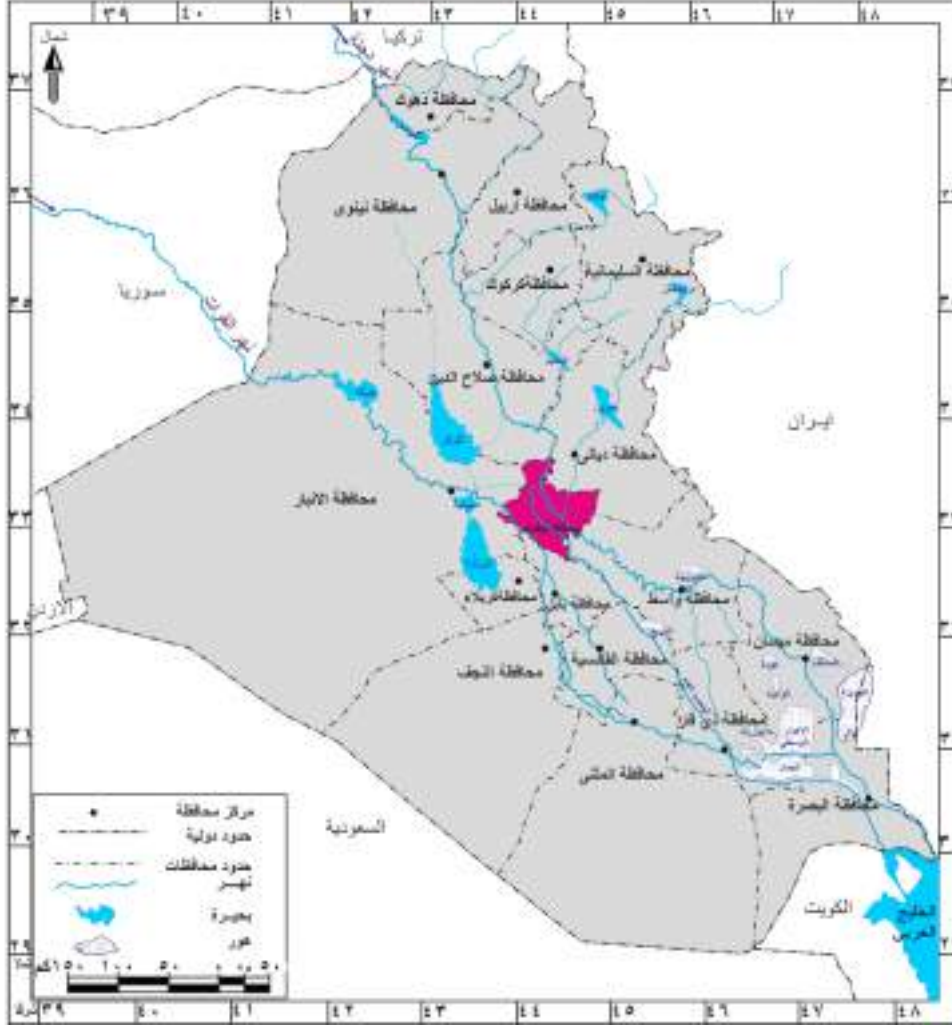


سد حميرين

محافظة بغداد

الموقع الجغرافي

بغداد عاصمة جمهورية العراق وأكبر مدنه من حيث عدد السكان، وتعد المركز الإداري والاقتصادي والتعليمي والثقافي و تقع وسط العراق. لاحظ الخريطة رقم (١٢).



خريطة رقم (١٢) الموقع الجغرافي لمحافظة بغداد

التضاريس :

تقع محافظة بغداد ضمن منطقة السهل الرسوبي، وتتميز ارضها بالانبساط التام في معظم اقسامها، اذ لا ترتفع معظم اراضيها عن (٣٥)م فوق مستوى سطح البحر.

المناخ :

تقع محافظة بغداد ضمن نطاق المناخ شبه الصحراوي، الذي يتسم بقلة امطاره في فصل الشتاء وبصيف حار، أما من حيث كمية الامطار فتتسم بالتذبذب والقلّة إذ تتراوح كمياتها ما بين (١٥٠-٣٠٠) ملم.

بلغ عدد سكان محافظة بغداد قرابة (٧,٩١٦,٨٤٧) نسمة بحسب التقديرات الإحصائية لعام (٢٠١٧). (للاطلاع فقط)

طرق النقل والمواصلات :

لمحافظة بغداد أهمية إدارية كبيرة لأنها عاصمة جمهورية العراق ولذلك فقد توافرت جميع خطوط النقل البرية والنهرية والجوية فيها، فضلاً عن وجود مطار بغداد الدولي الذي يعد ميناءً جويًا يربط العراق بدول العالم.

الموارد المائية:

يعد نهر دجلة الشريان الحيوي لمحافظة بغداد الذي يقسم المدينة على جانبي الكرخ والرصافة الأمر الذي أمدّها بأسباب النمو والتطور العمراني .



نهر دجلة في بغداد

النشاط الاقتصادي تتمتع المحافظة بالعديد من المقومات الاقتصادية ويمكن توزيعها على النحو الآتي:

الزراعة:

تتميز المحافظة بتنوع النشاط الزراعي، إذ تزرع فيها العديد من المحاصيل الزراعية يأتي في مقدمتها محاصيل الفواكة والخضر، فضلاً عن زراعة العديد من المحاصيل الصناعية كزهرة الشمس والذرة.

الصناعة والثروات المعدنية:

تشتهر المحافظة بتوافر العديد من الصناعات فيها وسوف نختصرها بذكر البعض منها:

- ١- صناعة الغزل والنسيج القطني.
- ٢- الصناعات الغذائية.
- ٣- صناعة الزيوت النباتية.
- ٤- الصناعات الجلدية.
- ٥- صناعة التكرير.



معمل الزيوت النباتية

كما تضم محافظة بغداد على حقول لإنتاج النفط تتمثل بحقول شرق بغداد.



معامل الصناعات الكهربائية في الوزيرية



مصفى الدورة



نشاط

- ١- هل سبق وان شاهدت احد المصانع الكبيرة في بغداد؟ اكتب ثلاثة اسطر تصف فيها ماشاهدت من عمليات صناعية و انتاجية في ذلك المصنع.
- ٢- هل توجد في محافظة بغداد صناعات أخرى؟ اذكرها.

فكر وأجب

اجمع صوراً تمثل المظاهر السياحية في محافظة بغداد.

السياحة:

تضم محافظة بغداد العديد من المرافق السياحية وأهمها:

- ١- جزيرة الاعراس السياحية.
- ٢- متنزه الزوراء السياحي.
- ٣- جزيرة بغداد السياحية.
- ٤- وجود الكثير من الحدائق العامة والمناطق الخضراء التي تضم مختلف وسائل الراحة والترفيه.



جزيرة بغداد السياحية

نبذة تاريخية عن محافظة بغداد:

أكدت الوثائق التاريخية والتنقيبات الأثرية ان اسم بغداد اسم عراقي قديم، وان المدينة كانت موجودة قبل ان يبدأ ابو جعفر المنصور في بناء مدينته المدورة (بغداد) عام (١٤٥) هـ .
لقد امتدنا التحريات والتنقيبات الاثرية التي جرت في مدينة بغداد ان هناك عدة مدن صغيرة وكبيرة كانت موجودة فيها مثل تل محمد. وكذلك مدينة سيبار (ابو حبه) قرب اليوسفية ومدينة عقرقوف والمدائن.



عكركوف

وفي منتصف القرن الثاني للهجرة (عام ١٤٥ هـ) بنى ابو جعفر المنصور الخليفة العباسي مدينته المدورة بغداد غربي دجلة، واشتهرت بتخطيطها الدائري المحصن بسور وأربعة أبواب هي (باب الشام، باب البصرة، باب خراسان وباب الكوفة). اما في العصر الحديث فقد اصبحت بغداد بعد عام (١٩٢١) عاصمة للمملكة العراقية، وفي عام (١٩٥٨) عاصمة للجمهورية العراقية ومازالت الى الان، اصبحت بغداد محافظة بعد صدور قانون المحافظات رقم (١٥٩) لسنة ١٩٦٩.



المدرسة المستنصرية



نشاط عدد اهم المعالم التاريخية والحضارية الموجودة في محافظة بغداد.

ومن اشهر معالمها التاريخية:

١- المشهد الكاظمي : ويضم مرقد الإمامين موسى بن جعفر (الكاظم) (١٢٨-١٨٣هـ) وحفيده محمد بن علي بن موسى (الجواد) (١٩٥-٢٢٠هـ) (عليهما السلام)، يقع في جانب الكرخ في منطقة الكاظمية.



مرقد الامامين موسى الكاظم ومحمد الجواد (عليهما السلام)

٢- مرقد الامام الاعظم: وهو مرقد الشيخ ابو حنيفة النعمان بن ثابت الكوفي (٨٠-١٥٠هـ) (رضي الله عنه)، احد تلاميذ الامام جعفر الصادق (عليه السلام)، مؤسس المذهب الحنفي، ويقع مرقد في جانب الرصافة في منطقة الاعظمية.



مرقد الامام ابو حنيفة النعمان (رضي الله عنه)

كما يوجد العديد من الكنائس القديمة في بغداد منها: كنيسة اللاتين الكاثوليك في منطقة الشورجة، وكنيسة الارمن الارثوذكس في ساحة الميدان وتعرف بكنيسة مريم العذراء وهي اقدم الكنائس في بغداد.

٣- مواقع اخرى مثل: المدرسة المستنصرية والقصر العباسي والسراي والقشلة.

محافظة الانبار

الموقع الجغرافي

تعد محافظة الانبار من اكبر محافظات وطننا العراق من حيث المساحة. لاحظ الخريطة رقم

(١٣).



خريطة رقم (١٣) الموقع الجغرافي لمحافظة الانبار

- نشاط ١** - هل تجاور محافظة الانبار دولاً مجاورة للعراق؟ حددها على الخريطة؟
- ٢- ارسم خريطة العراق وحدد عليها المواقع الاتية:
- (أ- الخابور ، ب- الزاب الكبير، ج- سد دوكان، د- نهر ديالى، هـ - سد دربندخان)

التضاريس :

على الرغم من اتساع محافظة الانبار من حيث المساحة، الا ان سطحها يكاد يخلو من الاشكال التضاريسية البارزة ويمكن ان نقسم سطحها على الاقسام الاتية:

١- هضبة الجزيرة :

وتقع في الجهة الشمالية من المحافظة وتحديداً الى الشمال من مجرى نهر الفرات وشرقه.

٢- السهل الرسوبي :

ويشغل المناطق التي تقع حول مجرى نهر الفرات ويزداد اتساعه كلما تقدمنا باتجاه الجنوب الشرقي وتتميز اراضيها بالانبساط في معظم اجزائه .

٣- الهضبة الغربية :

وتشغل القسم الاكبر من مساحة المحافظة.

المناخ :

تقع المحافظة ضمن منطقة المناخ الصحراوي الذي يتميز بارتفاع المدى الحراري، ولاسيما خلال فصل الصيف اذ ترتفع درجات الحرارة خلال النهار لتصل إلى اكثر من (٤٨)م°، بينما تنخفض في اثناء الليل لتصل الى ١٥م°، اما امطارها فتتسم بالقلّة والتذبذب وتتراوح بين ١٥٠-٢٠٠ ملم

هل تعلم

بلغ عدد سكان محافظة الانبار قرابة (١,٧٢٥,٩١٤) نسمة بحسب التقديرات الإحصائية لعام (٢٠١٧).
(للاطلاع فقط)

نشاط في اي قضاء تقع مدينتك؟

طرق النقل والمواصلات :

نظرا للموقع الجغرافي الذي تتميز به محافظة الانبار فقد تعددت طرق النقل المارة خلالها او التي تربطها بالمحافظات المجاورة وفيما يلي اهم تلك الطرق:

معلومة اثرانية (للاطلاع فقط)

- ١- طريق الانبار - بغداد.
- ٢- طريق المرور السريع الذي يربط محافظة الانبار مع العاصمة بغداد.
- ٣- خط سكة الحديد الذي يربط بين (بغداد - الرمادي - عكاشات).

وتتميز محافظة الانبار بوجود المنافذ التجارية التي تشجع حركة التبادل التجاري بين العراق من جهة وسوريا والاردن من جهة اخرى.

النقل بالانابيب:

لقد أعطى الموقع الجغرافي للمحافظة والمحاذي للحدود السورية والأردنية والسعودية أهمية كبيرة في تصدير النفط العراقي عن طريق الخط الاستراتيجي الذي يربط حقول النفط الشمالية مع الجنوبية ثم الى موانئ البحر المتوسط وبذلك اعطى المرونة اللازمة في نقل النفط العراقي الى الموانئ العالمية.

الموارد المائية:

لقد انعكس مناخ المحافظة والذي يتميز بقلة أمطاره على مصادر المياه التي اقتصرت على المياه السطحية وبعض مكامن المياه الجوفية ويمكن تقسيم تلك المصادر الى الاقسام الآتية:

١- المياه السطحية:

وتتمثل تلك المصادر بنهر الفرات الذي يدخل محافظة الانبار من جهتها الغربية عند مدينة القائم ويعد النهر المصدر الرئيس لمختلف الانشطة الاقتصادية للمحافظة.

٢- المياه الجوفية :

وتوجد في مناطق المرتفعات وبطون الاودية ويرتبط وجودها وغازاتها بمواسم سقوط الامطار ومن اهم مناطقها كبيسة والرحالية.

أما اهم مشاريع السيطرة والخزن فهي:

• **سدة الرمادي** تقع على نهر الفرات، ويمكن عن طريقها تحويل قسم من مياه النهر خلال فصل الشتاء الى بحيرة الحبانية عن طريق جدول الورار، كما يمكن اعادة المياه المخزونة عن طريق جدول الذبان الى نهر الفرات، وعند حدوث الفيضانات الكبيرة يحول قسم كبير من المياه الزائدة من بحيرة الحبانية الى بحيرة الرزازة عن طريق جدول تخلية المجرة.

• **سد حديثة** : يقع على نهر الفرات شمال مدينة حديثة.

أما المشاريع الإروائية فتتمثل بجداول ري الفرات الواقعة بين مدينة الفلوجة وسدة الهندية، كما تتميز المحافظة بتعدد البحيرات الخزنية فيها ومنها بحيرة الحبانية وبحيرة حديثة وبحيرة الرزازة التي تقع بين محافظتي الانبار و كربلاء.



سدة الرمادي



سد حديثة

النشاط الاقتصادي تتمتع المحافظة بالعديد من المقومات الاقتصادية ويمكن توزيعها على

النحو الآتي:

الزراعة:

لقد ادى مناخ المحافظة الصحراوي الى تركيز النشاط الزراعي بالقرب من مجرى نهر الفرات ومكامن المياه الجوفية للتعويض عن النقص الحاصل في كمية الامطار، وعلى الرغم من ذلك تزرع فيها العديد من المحاصيل أهمها القمح والذرة وزهرة الشمس.

الصناعة و الثروات المعدنية:

تشتهر المحافظة بتوافر العديد من الصناعات فيها: كالصناعات الإنشائية نظراً لتوافر موادها الأولية في معظم مناطق المحافظة ومن بين تلك الصناعات صناعة الاسمنت. كما تتوفر في محافظة الانبار كميات كبيرة من الفوسفات بالقرب من منطقة عكاشات ورواسب الزجاج والكبريت، فضلاً عن توافر حقول الغاز الطبيعي.



معمل اسمنت القائم

السياحة:

أبرز المناطق السياحية في

المحافظة هي:

- 1- بحيرة الحبانية السياحية.
- 2- سد حديثة وخزانها.
- 3- عيون المياه المعدنية.
- 4- بحيرة الرزازة الواقعة (بين محافظتي الانبار و كربلاء).



مدينة الحبانية السياحية

نبذة تاريخية عن محافظة الانبار :

بُنيت مدينة الانبار من قبل الوالي العثماني (مدحت باشا) في اثناء ولايته على بغداد عام (١٨٦٩-١٨٧٢م)، ويعود اصل تسمية (الانبار) نسبة لمدينة الانبار التاريخية التي بنيت في عهد الملك البابلي نبوخذ نصر، كانت تعرف سابقاً بـ (لواء الدليم) نسبة إلى عشائر الدليم، وبعد ثورة ١٤ تموز ١٩٥٨ غير اسمها إلى لواء الرمادي، وبعد صدور قانون المحافظات رقم (١٥٩) لسنة ١٩٦٩ اصبحت الأنبار محافظة. ومن المدن التاريخية في المحافظة التي يمكن مشاهدتها هي:

١- مدينة عنه : ورد ذكرها في النصوص البابلية والاشورية وتشير المصادر التاريخية ان اسمها قد اشتق من اسم الالهة انانا السومري، ومن اثارها الشاخصة مؤذنتها المثمنة العالية وقلعتها.



قلعة عنه



مئذنة جامع عنه

٢- مدينة هيت: اشتهرت عبر العصور السومرية والبابلية والاشورية بأنها مصدر لمادة القير. ومن اثارها الشاخصة قلعة هيت التي بنيت منذ قديم الزمان على تلة مرتفعة، ويوجد في القلعة منارة عالية تعرف بمنارة الفاروق التي انشئت زمن الخليفة الراشدي الثاني عمر بن الخطاب (رضي الله عنه).



نشاط

ارسم خريطة العراق وحدد عليها روافد نهر دجلة.



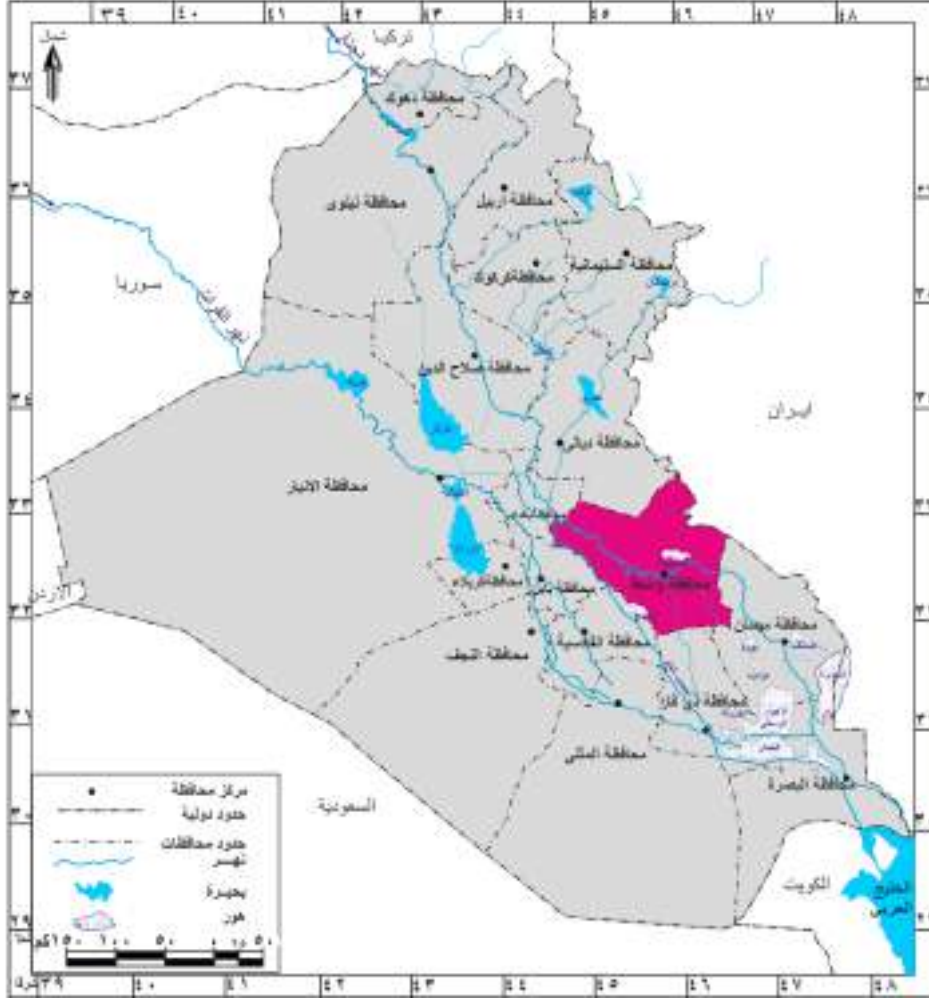
فكر وأجب

- ١- في اثناء تجوالك في مدينتك هل لاحظت بعض الاثار التاريخية القديمة؟ سجلها في دفترك.
- ٢- خذ ورقاً شفافاً وارسم عليه الحدود الخارجية لخريطة العراق ثم وضح عليها مسار نهر دجلة.
- ٣- حدد على الخريطة المحافظات الاتية. بغداد، الانبار، نينوى، ديالى.

محافظة واسط

الموقع الجغرافي

تقع محافظة واسط في القسم الشرقي الأوسط من منطقة السهل الرسوبي، لاحظ الخريطة رقم (١٤).



خريطة رقم (١٤) الموقع الجغرافي لمحافظة واسط

نشاط

- ١- ما اسم المحافظة التي تجاور محافظة واسط من جهتي الشمال والجنوب؟ حددها على الخريطة.
- ٢- هل تجاور محافظة واسط احدى الدول المجاورة للعراق؟ اذكرها.

التضاريس :

تعد محافظة واسط جزءاً من منطقة السهل الرسوبي المنبسط والقليل الانحدار، وتتميز أغلب اقسامها بالانبساط اذ لا ترتفع كثيراً عن مستوى (٢٥)م فوق مستوى سطح البحر باستثناء المناطق الشرقية.

المناخ :

نظراً لوقوع محافظة واسط في المنطقة شبه المدارية فإن مناخها يعد جزءاً من المناخ الصحراوي الذي يتميز بارتفاع درجات الحرارة ومستوى الجفاف صيفاً واعتداله شتاءً، أما أمطاره فتتسم بالقلّة والتذبذب وتزداد كمياتها في الاقسام الشرقية من المحافظة، إذ تتراوح كمياتها بين (١٥٠-٣٠٠) ملم.

هل تعلم

بلغ عدد سكان محافظة واسط قرابة (١,٣٤٣,١٢٥) نسمة بحسب التقديرات الإحصائية لعام (٢٠١٧) .
(للاطلاع فقط)

طرق النقل والمواصلات :

بالنظر لكون حدود المحافظة جزءاً من الحدود الدولية بين العراق وايران فقد تميزت بوجود العديد من طرق النقل التي تربط العراق بأيران الامر الذي كان له دورٌ في نشاط حركة التبادل التجاري بين البلدين، كما تتصف المحافظة بكونها حلقة الوصل بين العاصمة بغداد والمحافظات الجنوبية ومن اهم تلك الطرق:

معلومة اثرائية (للاطلاع فقط)

١- طريق واسط - بغداد. ٢- طريق واسط - ميسان . ٣- طريق واسط - الديوانية

الموارد المائية: تتنوع المصادر المائية في محافظة واسط على الاقسام الآتية :

المياه السطحية: وتضم:

أ- نهر دجلة : يعد نهر دجلة الشريان الحيوي للأنشطة الاقتصادية في المحافظة.

ب- نهر الدجيلية : هو احد فروع نهر دجلة يتفرع من الجهة اليمنى لنهر دجلة قبل سدة الكوت.

ج- نهر الغراف : هو احد فروع نهر دجلة يتفرع من الجهة اليمنى لنهر دجلة قبل سدة الكوت ويغذي النهر العديد من المشاريع الاروائية والاراضي الزراعية بين محافظتي واسط وذوي قار.

د- وجود العديد من الاهوار الدائمة والفصلية اهمها هور الشويجة.

اما مشاريع السيطرة والخزن فتعد سدة الكوت الواقعة على نهر دجلة اهم تلك المشاريع، اذ تتحكم في توزيع المياه ما بين محافظات واسط وميسان وذوي قار، كما تؤمن مشاريع الري المقامة على نهر الغراف والدجيلية.



سدة الكوت



معمل نسيج الكوت



حقل الاحدب النفطي

النشاط الاقتصادي تتمتع المحافظة بالعديد من المقومات الاقتصادية ويمكن توزيعها على النحو الآتي:
الزراعة:

تشتهر محافظة واسط بالنشاط الزراعي، اذ تزرع فيها العديد من المحاصيل اهمها: محاصيل الحبوب كالقمح والشعير والذرة وزهرة الشمس والقطن والسمن والتمور.

الصناعة و الثروات المعدنية:

تشتهر المحافظة بتوافر العديد من الصناعات فيها، ولاسيما الصناعات النسيجية وتتمثل بمعمل نسيج الكوت والصناعات الغذائية والالبسة الجاهزة والصناعات الإنشائية.

وتضم محافظة واسط العديد من حقول النفط اهمها حقل الاحدب وحقل بدرية .

هل سبق وان زرت احد المصانع الكبيرة في محافظة واسط؟ اكتب ثلاثة اسطر تصف فيها ماشاهدت من معالم صناعية و انتاجية في ذلك المصنع.

نبذة تاريخية عن محافظة واسط:

سميت المحافظة بهذا الاسم نسبة الى مدينة واسط الاثرية التي تقع وسط العراق، التي أمر ببنائها الحجاج ابن يوسف الثقفي عام (٧٨) هـ وانجزت عام (٨٣) هـ لتكون مقراً جديداً لجنوده . ومعنى الاسم يعود الى ان الموضع الذي اختاره الحجاج لبناء مدينته كان يسمى واسط القصب او لأن موقعها كان وسطاً بين البصرة والكوفة. وكانت المدينة تضم مباني كبيرة مثل مسجدها الجامع وقصرها الشامخ المعروف بالقبة الخضراء، فضلاً عن مدينة واسط الاثرية فهناك العديد من التلال الاخرى مثل تل النعمان واثار النجمي، كانت تسمى في السابق بـ(لواء الكوت)، اصبحت واسط محافظة بعد صدور قانون المحافظات رقم (١٥٩) لسنة ١٩٦٩.



اثار مدينة واسط

نشاط

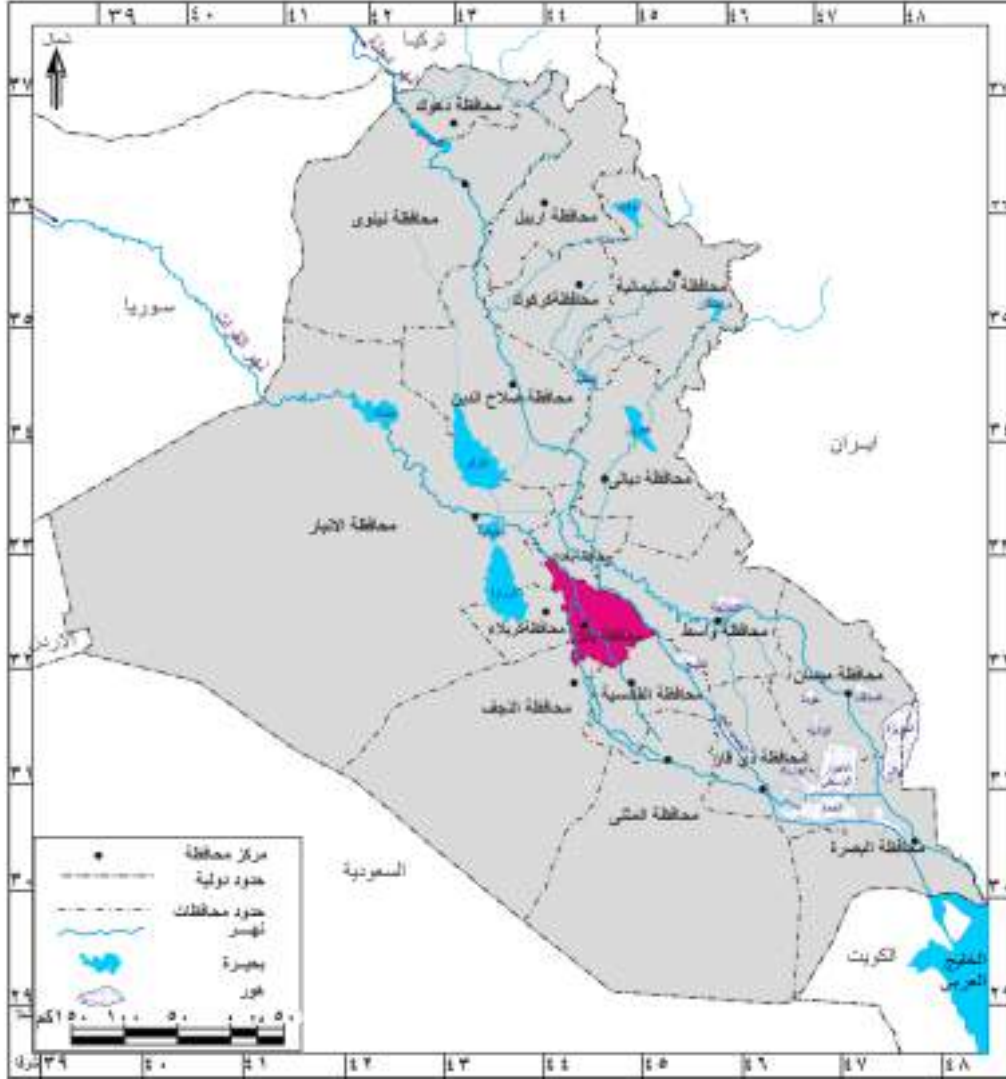
- ١- عند سفرك من محافظة اربيل الى محافظة واسط، ما اسم المحافظات التي ستمر بها في اثناء سفرك؟
- ٢- تكلم عن المعالم الحضارية والتاريخية الموجودة في محافظة واسط.
- ٣- بماذا يتميز المناخ الصحراوي؟
- ٤- ارسم خريطة العراق وحدد عليها المحافظات التي تحاذي دولاً مجاورة له.

توعية .. لا تقترب - لاتلمس - احذر- ابتعد - وبلغ
عزيزي التلميذ.. ابتعد عن المناطق التي استخدمت كقواعد عسكرية سابقاً لكونها تضم العديد من الاسلحة والمواد المتفجرة وانتبه الى العلامات التحذيرية الدالة على وجود الالغام والمخلفات الحربية..

محافظة بابل

الموقع الجغرافي

تقع محافظة بابل في القسم الشمالي من منطقة الفرات الأوسط* ، لاحظ الخريطة رقم (١٥).



خريطة رقم (١٥) الموقع الجغرافي لمحافظة بابل

نشاط خذ خريطة صماء للعراق وحدد عليها المحافظات الشمالية .

التضاريس:

تعد محافظة بابل جزءاً من منطقة السهل الرسوبي الذي يتميز بانبساطه، إذ يتراوح معدل ارتفاع أراضيها بين (٢٠ - ٤٠) م فوق مستوى سطح البحر.

* منطقة الفرات الاوسط تضم محافظات(بابل - كربلاء - الديوانية - النجف - المثنى).

المناخ:

لا يختلف مناخ محافظة بابل عن مناخ القسم الأوسط من السهل الرسوبي، اذ تقع المحافظة ضمن المناخ الصحراوي الذي يتميز بارتفاع معدلات درجات الحرارة، ولاسيما خلال فصل الصيف واعتداله خلال فصل الشتاء، اما أمطارها فتكون قليلة ومتذبذبة، وتتراوح كمياتها بين (١٥٠-٣٠٠) ملم.

هل تعلم

بلغ عدد سكان محافظة بابل قرابة (٢,٠١١,٧٠٦) نسمة بحسب التقديرات الإحصائية لعام (٢٠١٧). (للاطلاع فقط)

طرق النقل والمواصلات :

تضم محافظة بابل شبكة من الطرق الرئيسية التي تربطها بالمحافظات المجاورة من خلال العديد من الطرق البرية، اهمها طريق المرور السريع الذي يربط بين بغداد – البصرة مروراً بمحافظات بابل والديوانية والمثنى وذي قار فالبصرة ، فضلاً عن مرور سكة الحديد التي تربط العاصمة بغداد بالمحافظات الجنوبية التي ذكرت آنفاً، ومن أهم الخطوط البرية التي تربط المحافظة بالمحافظات المجاورة هي:

معلومة اثرانية (للاطلاع فقط)

- ١- طريق بابل – كربلاء.
- ٢- طريق بابل- النجف.
- ٣- طريق بابل – واسط.
- ٤- طريق بابل – الديوانية.
- ٥- طريق بابل – بغداد.

الموارد المائية:

تضم الموارد المائية في المحافظة

المياه السطحية: وتتمثل بنهر الفرات

وتفرعاته، اهمها:

أ- شط الحلة: ويجري في القسم الجنوبي

الشرقي من المحافظة.

ب- شط الهندية: يمثل مجرى نهر الفرات

والذي يتفرع جنوب مدينة الكفل الى فرعين

هما (شط الكوفة وشط الشامية).

أما اهم المشاريع الاروائية فتتمثل ب سدة

الهندية التي تقع في مدينة الهندية.



شط الحلة



سد الهندية



نشاط

خذ خريطة صماء للعراق وحدد عليها السدود والمشاريع الاروائية في كل من:
١- محافظة الانبار. ٢- محافظة صلاح الدين. ٣- محافظة ديالى.

النشاط الاقتصادي تتمتع المحافظة بالعديد من المقومات الاقتصادية ويمكن توزيعها على

النحو الآتي:

الزراعة:



زراعة النخيل في بابل

لقد كان لنهر الفرات وتفرعاته دورٌ مهم في النشاط الاقتصادي، ولاسيما المحاصيل الزراعية كالقمح والشعير والرز والذرة والقطن وزهرة الشمس، فضلاً عن زراعة اشجار الفواكه والنخيل، إذ تتميز المحافظة بكونها تحتل مراكز متقدمة في انتاج التمور، اذ تشتهر بزراعة العديد من انواعه كالخستاوي والبرحي والخضراوي .

الصناعة:

تشتهر المحافظة بتوافر العديد من الصناعات فيها، ولاسيما الصناعات النسيجية كالحرير الصناعي والالبسة الجاهزة والصناعات الغذائية والصناعات الخفيفة والصناعات التجميعية كالسيارات والمحركات والساحبات في مدينة الإسكندرية.



معمل الاسكندرية لتجميع السيارات



معمل النسيج في بابل

نبذة تاريخية عن محافظة بابل:

تعد مدينة بابل من اهم المدن العراقية القديمة، اذ تعد جنائنها المعلقة واسوارها من احدى عجائب الدنيا السبع انذاك، وقد اطلق عليها في العصور القديمة بـ (باب - ايلو) اي (باب الاله).

وقد كان للمحافظة منزلة عظيمة ولاسيما في عهد ملكها السادس حمورابي.

ومن اهم الآثار الشاخصة لمدينة بابل المسرح البابلي (الاغريقي) وانموذج بوابة عشتار الأصلي وشارع الموكب والقصر الجنوبي لملك بابل العظيم نبوخذ نصر الثاني المشيد بالاجر، والقصر الشمالي الذي يضم تمثال اسد بابل وهو رمز الالهة عشتار.

بعد تشكيل الحكومة العراقية في شهر آب عام ١٩٢١ أصبحت تعرف بـ (لواء الحلة)، وفي نيسان ١٩٧٠ استبدل اسمها إلى (محافظة بابل) نسبة الى مدينة بابل التاريخية.

أهم المدن التاريخية لمحافظة بابل:

مدينة كيش (تل الاحيمر)

وهي المدينة التي عاش فيها الملك الاكدي سرجون الاول الذي اسس اول امبراطورية في العالم القديم، واشتهرت المدينة بزقورتها الحمراء.



الجنائن المعلقة



بوابة عشتار




مدينة كيش

مدينة بوسبا (برسبا نمرود)

لقد كان للمدينة اهمية في الديانة البابلية، لأنها كانت مركزاً لعبادة الاله (نابو)، ونشاهد في اطلال المدينة بناءً شاهقاً يرتفع عن مستوى سطح الارض وهو برج المدينة والمدرج (زقورتها) التي كانت تزهر بألوانها وطبقاتها السبع .



مدينة بوسبا



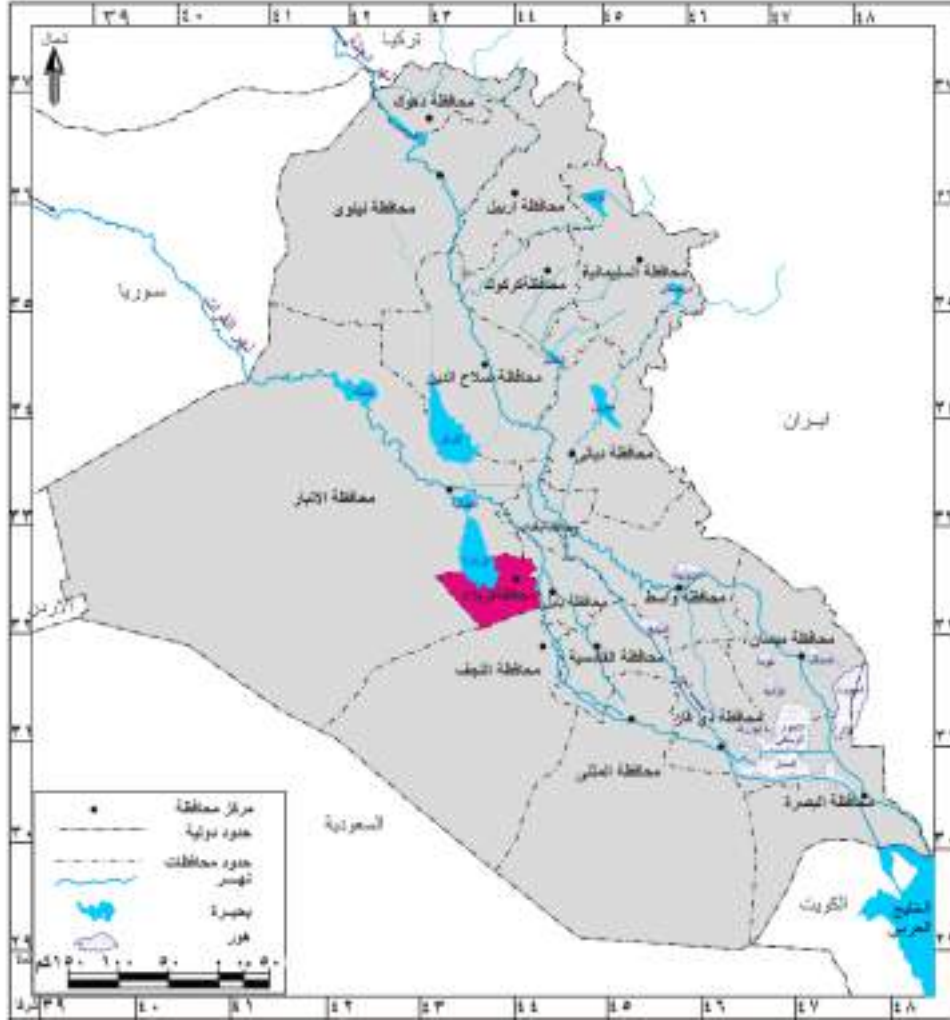
نشاط

- ١- تعد الجنائن المعلقة من عجائب الدنيا السبع انذاك، تكلم عنها وحاول وصفها لزملائك التلاميذ.
- ٢- اعمل لوحة جدارية والصق عليها صور ملوك بابل واهم معالمها الحضارية.
- ٣- هل سبق وان زرت احد المناطق الصناعية في محافظة بابل؟ صف ما شاهدته لزملائك.
- ٤- اكتب ثلاثة اسطر تصف فيها اهم المعالم الاثرية والتاريخية لمدينة بابل.

محافظة كربلاء المقدسة

الموقع الجغرافي

تقع محافظة كربلاء المقدسة في القسم الغربي الأوسط من وطننا العراق على حافة منطقة الهضبة الغربية. لاحظ الخريطة رقم (١٦).



خريطة رقم (١٦) الموقع الجغرافي لمحافظة كربلاء المقدسة

التضاريس:

تقع محافظة كربلاء المقدسة ضمن منطقة السهل الرسوبي والهضبة الغربية، إذ تقع أراضي الأقسام الشرقية والوسطى ضمن منطقة السهل الرسوبي، أما الأقسام الغربية فهي ضمن منطقة الهضبة وتتميز أراضيها بالانبساط تتخللها بعض الوديان.

المناخ:

تتميز المحافظة بسيادة المناخ الصحراوي فيها، إذ ترتفع درجات الحرارة خلال فصل الصيف، أما في الشتاء فتتميز بالاعتدال في معظم أقسام المحافظة، أما أمطارها فتتسم بالتذبذب إذ تتراوح كمياتها ما بين (١٥٠-٢٠٠) ملم.

هل تعلم

بلغ عدد سكان محافظة كربلاء قرابة (١,١٨٧,٢٤٥) نسمة بحسب التقديرات الإحصائية لعام (٢٠١٧).

(للإطلاع فقط)

طرق النقل والمواصلات :

تحظى طرق النقل في محافظة كربلاء بأهمية كبيرة لأنها من المراكز الدينية المقدسة، اذ تضم شبكة من الطرق الرئيسية التي تربطها بالمحافظات المجاورة، فضلا على خط لسكك الحديد يربطها بمحافظة بغداد ومن اهم تلك الطرق:

معلومة اثرائية (للإطلاع فقط)

- ١- طريق كربلاء- بغداد.
- ٢- طريق كربلاء- القادسية.
- ٣- طريق كربلاء - بابل.
- ٤- طريق كربلاء - النجف.

الموارد المائية:

لقد انعكس مناخ المحافظة الذي عُرف بقلة أمطاره على مصادر المياه التي اقتصرت على نهر الفرات والمياه الجوفية ويمكن تقسيم تلك المصادر الى:

١- المياه السطحية وتتمثل ب:

نهر الفرات وجداوله: وتتمثل بشط الهندية الذي يعد المصدر الرئيس للمياه في المحافظة ويجري في الاقسام الشرقية، وتشرف المحافظة من جهة الشمال على بحيرة الرزازة التي تقع بين محافظتي كربلاء المقدسة والانبار.

٢- المياه الجوفية: وتتمثل بالواحات والعيون والينابيع التي يعتمد عليها سكان الاقسام الغربية المحاذية للهضبة الغربية في نشاطهم الاقتصادي، لاسيما في عين التمر (شثاة).



عين التمر



شط الهندية



نشاط

يقوم المعلم/ المعلمة بإرشاد التلاميذ إلى مواقع المحافظات من خلال استعمال خريطة العراق الادارية على ان يقوم التلميذ بتحديد موقع المحافظة على السبورة.

عند سفرك من محافظة كربلاء المقدسة الى محافظة دهوك، ما اسماء المحافظات التي ستمر بها أثناء سفرك؟

النشاط الاقتصادي تتمتع المحافظة بالعديد من المقومات الاقتصادية ويمكن توزيعها على

النحو الآتي:

الزراعة:

تزرع في اراضي المحافظة العديد من المحاصيل الزراعية اهمها القمح والشعير والرز والذرة والمحاصيل الصناعية كالسمسم وزهرة الشمس، فضلاً عن زراعة اشجار الفاكهة والنخيل التي تحظى باهمية كبيرة في المحافظة.

الصناعة:

تشتهر المحافظة بوجود العديد من الصناعات، اهمها الصناعات الغذائية والصناعات الانشائية المتمثلة بمعمل أسمنت كربلاء والصناعات الخفيفة.

نبذة تاريخية عن محافظة كربلاء المقدسة:

يعود اصل تسمية كربلاء كما تذكر المصادر الى اصل بابلي، وقد أمر الوالي العثماني مدحت باشا بتطوير مدينة كربلاء وأضاف إليها العديد من الدوائر الحكومية والاسواق وبنى فيها محلة العباسية ، كما انجز السلطان العثماني سليمان القانوني مهمة حفر نهر من الفرات سمي انذاك بالنهر السليمانى والذي يعرف اليوم بنهر الحسينية، وكانت تسمى في السابق بـ (لواء كربلاء)، وبعد صدور قانون المحافظات رقم ١٥٩ لسنة ١٩٦٩ أصبحت كربلاء محافظة، وتضم المحافظة العديد من المراكز الدينية المقدسة وهي:

أ- الروضة الحسينية :- وتضم مرقد الامام الحسين بن علي (الشهيد)(٤-٦١هـ) سبط النبي محمد(صلى الله عليه وآله وسلم) وابنائهم (عليهم السلام) وشهداء واقعة الطف الذين أستشهدوا معه عام ٦١هـ، تبلغ مساحة الصحن (٢١٥٠٠٠م^٢) يتوسطه حرم تبلغ مساحته قرابة (٢٣٨٥٠م^٢) يقع فيه الضريح، وتحيط به اروقة بمساحة (٢٦٠٠م^٢) وله عشرة أبواب، وتعلوه قبة شاهقة بأرتفاع ٣٧م من الارض وهي مغلقة بالذهب، وترتفع فوق القبة سارية من الذهب الخالص أيضاً وبأرتفاع ٢م وتحف بالقبة مآذنتان مطليتان بالذهب، ويحيط بالحرم ٤ أروقة من كل جهة رواق، يبلغ عرض الرواق الواحد ٥م.

ب - الروضة العباسية :- وتضم مرقد الامام العباس بن علي بن أبي طالب (أبو الفضل)(٢٦-٦١هـ)(عليه السلام)، الذي أستشهد في واقعة الطف عام ٦١هـ ، وتقع الروضة إلى الشمال الشرقي من العتبة الحسينية وبمسافة (٢٤٧م)، تبلغ مساحة العتبة قرابة (٩٧٣,١٠م^٢) ومحيطها (٣٩٥م)، كما تضم المحافظة مرقد دينية مقدسة أخرى.



مرقد الامام العباس (عليه السلام)



مرقد الامام الحسين (عليه السلام)

اما أهم المواقع التاريخية في المحافظة هي:

١- قصر الاخضر :

يقع قصر الاخضر الواسع والمتعدد الاجزاء والمرافق داخل حصن منيع يقع في البادية جنوب غربي كربلاء.

٢- خان النخيلة او (خان الربع):

سمي بخان الربع لأنه يقع تقريباً في ربع المسافة ما بين محافظتي كربلاء والنجف، وكان هذا الخان مخصصاً لراحة المسافرين والزائرين الذين يقصدون العتبات المقدسة فيها.



قصر الاخضر

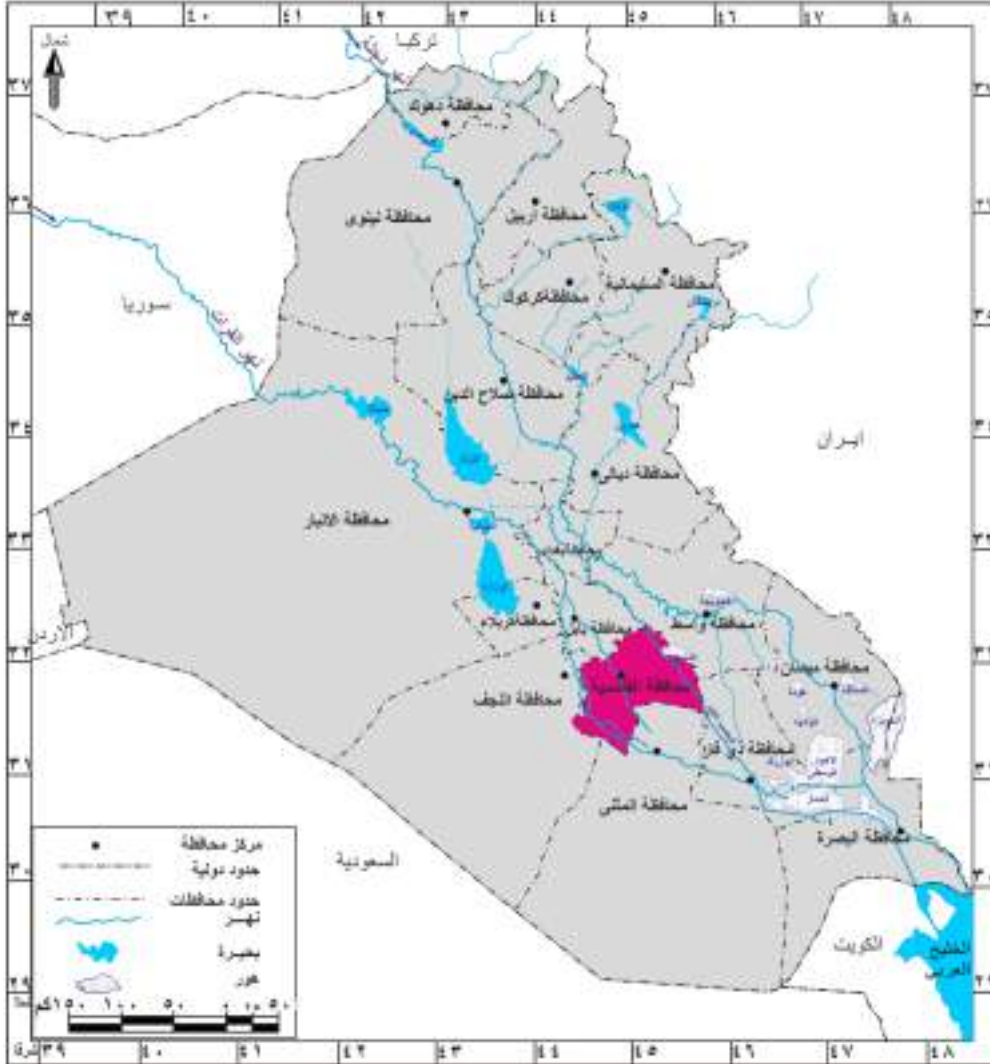


- ١- شكل حلقة نقاشية مع زملائك التلاميذ وتحدثوا عن واقعة الطف واستشهاد الإمام الحسين بن علي بن أبي طالب (عليهم السلام)، ومن معه.
- ٢- تكلم عن اهم المظاهر التاريخية في محافظة كربلاء المقدسة.

محافظة الديوانية (القادسية)

الموقع الجغرافي

تحتل محافظة الديوانية الجزء الجنوبي الأوسط من السهل الرسوبي. لاحظ الخريطة رقم (١٧).



خريطة رقم (١٧) الموقع الجغرافي لمحافظة الديوانية

التضاريس :

تعد محافظة الديوانية جزءاً من منطقة السهل الرسوبي الذي يتصف بقلة انحداره وأنبساطه التام، إذ يتراوح ارتفاع معظم أراضيها بين (٤-١٢)م، ويشغل السهل الرسوبي مساحة واسعة من اقسام المحافظة باستثناء الاقسام الجنوبية الغربية التي تتصف بسيادة الكثبان الرملية فيها.

المناخ :

تقع محافظة الديوانية ضمن المناخ الصحراوي الذي يتصف بارتفاع درجات الحرارة في موسم الصيف واعتداله في موسم الشتاء، اما امطارها فتتسم بالتذبذب إذ تتراوح بين ١٥٠-٣٠٠ ملم.

بلغ عدد سكان محافظة الديوانية قرابة (١,٢٥٧,٦٨٩) نسمة بحسب التقديرات الإحصائية لعام (٢٠١٧).
(للاطلاع فقط)

طرق النقل والمواصلات :

تضم محافظة الديوانية شبكة من الطرق الرئيسية التي تربطها بالمحافظات المجاورة من خلال طرق برية عديدة اهمها ما يأتي:

معلومة اثرائية (للاطلاع فقط)

- ١- طريق الديوانية – النجف.
- ٢- طريق الديوانية – ذي قار.
- ٣- طريق الديوانية – المثنى.
- ٤- طريق الديوانية – بابل.
- ٥- طريق الديوانية – واسط.

وتضم المحافظة ايضاً خطاً لسكة الحديد الذي يربط العاصمة بغداد بالمحافظات الجنوبية ويتمثل بخط بغداد – بابل – الديوانية – المثنى – ذي قار – البصرة.

الموارد المائية: تضم الموارد المائية في المحافظة:

المياه السطحية: يعد نهر الفرات وتفرعاته الشريان الحيوي لمحافظة الديوانية ونظراً لتعدد تفرعاته

في المحافظة يمكن تقسيمها على الاقسام الاتية:

- أ- **نهر الفرات** (شط الديوانية) وهو احد فروع شط الحلة.
- ب- **شط الشامية** (وهو احد تفرعات شط الهنديه بعد مدينة الكوفة).
- ج- **شط الدغارة** (وهو احد تفرعات شط الحلة).
- **شط الشنافية** (وهو امتداد لشط الكوفة).



شط الديوانية

ما اسم المحافظة التي تجاور محافظة الديوانية من جهتي الشمال والجنوب؟

نشاط

النشاط الاقتصادي تتمتع المحافظة بالعديد من المقومات الاقتصادية ويمكن توزيعها على

النحو الآتي:

الزراعة:

تتميز المحافظة بتنوع النشاط الزراعي، اذ تزرع فيها العديد من المحاصيل الزراعية يأتي في مقدمتها محاصيل الحبوب كالرز والقمح والشعير والمحاصيل الصناعية كالقطن وزهرة الشمس، فضلاً عن زراعة العديد من اشجار النخيل.

الصناعة:

تشتهر المحافظة بتوافر العديد من الصناعات فيها، ولاسيما الصناعات الغذائية وصناعة الغزل والنسيج والصناعات الانشائية والكيمياوية.



زراعة الرز



معمل إطارات الديوانية

نبذة تاريخية عن محافظة الديوانية (القادسية):

بعد تشكيل الحكومة العراقية في شهر آب من عام (١٩٢١) اطلق عليها (لواء الديوانية)، ثم سميت باسم القادسية نسبة الى موقعة القادسية، واصبحت القادسية محافظة بعد صدور قانون المحافظات رقم (١٥٩) لسنة ١٩٦٩.

ومن المدن التاريخية في المحافظة هي :

١- مدينة نُفر: تعد مدينة نُفر الاثرية من المدن العراقية القديمة المهمة التي اشتهرت بحضارتها العريقة عبر العصور السومرية والبابلية حتى نهاية العصر العباسي، وهي مركز عبادة الاله السومري انليل (إله الهواء).
ومن المعالم التاريخية الشاخصة لهذه المدينة زقورتها، التي عثر فيها على الكثير من الرقم الطينية المدونة بالخط المسماري وبشتى صنوف المعرفة .



زقورة نضر

٢- مدينة ايسن (ايشان البحریات): وهي من المدن العراقية القديمة وتعد من مدن التمازج الحضاري السومري - الاكدي، وكانت في بداية العصر البابلي القديم (٢٠٠٠ ق.م) مركز الاشعاع الحضاري والمحور السياسي لبلاد الرافدين، وعثر فيها على الكثير من الرقم الطينية المدونة بالخط المسماري.

وقد ترك لنا الملك الأموري لبت- عشتار قانوناً سبق قانون حمورابي بنحو قرنين من الزمن وقد دون باللغة السومرية وبقيت منه (٣٧) مادة قانونية واجزاء من المقدمة والخاتمة .



الاله انليل



مسلة حمورابي



نشاط

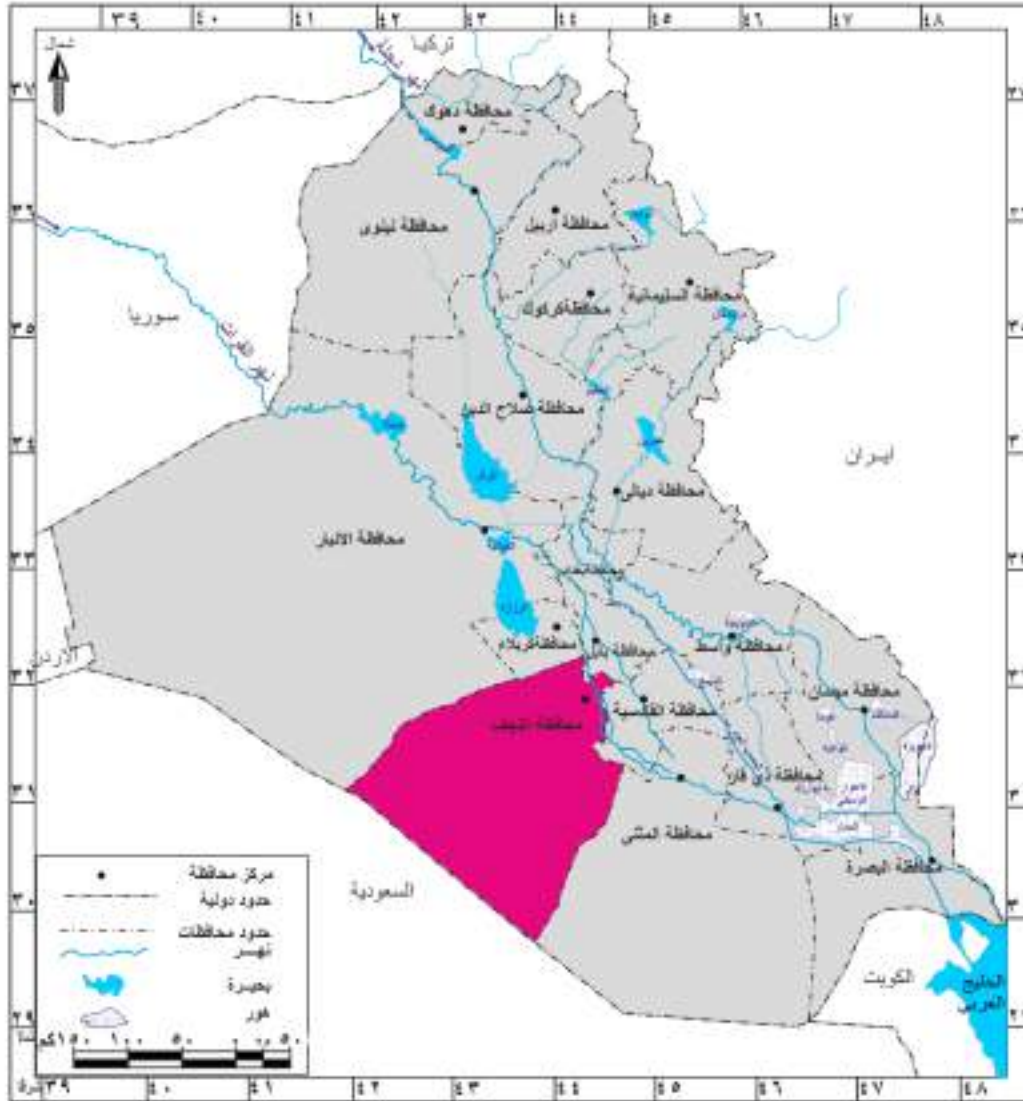
- ١- تكلم على المعالم الحضارية التي تشتهر بها محافظة الديوانية.
- ٢- تكلم على أقدم القوانين في العراق التي سبقت قانون حمورابي.
- ٣- اكتب تقريراً لا يزيد عن خمسة اسطر تصف فيه مسلة حمورابي وابرز موادها القانونية.
- ٤- ماهي ابرز المحاصيل الزراعية التي تشتهر فيها محافظة الديوانية؟
- ٥- اذكر ابرز التفرعات لنهر الفرات في محافظة الديوانية.

توعية .. لا تقترب - لا تلمس - احذر- ابتعد - وبلغ
عزيزي التلميذ.. ابتعد عن المناطق التي استخدمت كقواعد عسكرية سابقاً لكونها تضم العديد
من الاسلحة والمواد المتفجرة وانتبه الى العلامات التحذيرية الدالة على وجود الالغام والمخلفات
الحربية..

محافظة النجف الأشرف

الموقع الجغرافي

تقع محافظة النجف في القسم الغربي من وطننا العراق. لاحظ الخريطة رقم (١٨) .



خريطة رقم (١٨) الموقع الجغرافي لمحافظة النجف الاشرف

التضاريس :

تقع محافظة النجف بين منطقتي السهل الرسوبي والهضبة الغربية و يضم السهل الرسوبي الاقسام الشمالية الشرقية منها ويشكل نسبة تصل الى قرابة (٥%) من مساحة المحافظة، ويتميز بالانبساط التام في معظم اقسامه اما الهضبة الغربية فتضم الاقسام الغربية والشمالية الغربية وتشكل نسبة (٩٥%) من مساحة المحافظة، إذ تتميز اراضيها بسيادة الكثبان الرملية والتلال التي تتسم بالارتفاع كلما اتجهنا غرباً.

المناخ :

تقع محافظة النجف ضمن نطاق المناخ الصحراوي الحار، الأمر الذي انعكس تأثيره على تحديد صفة المناخ السائد والذي يتميز بصيف حار جاف و بشتاء معتدل وأما من حيث كمية الامطار فتنسم بالقلّة والتذبذب اذ تصل الى اقل من ١٥٠ ملم.

هل تعلم

بلغ عدد سكان محافظة النجف قرابة (١,٤٣٣,٥٨٣) نسمة بحسب التقديرات الإحصائية لعام (٢٠١٧).
(للاطلاع فقط)

طرق النقل والمواصلات :

تتميز محافظة النجف بوجود العديد من طرق النقل البرية التي تربطها بالمحافظات المجاورة ومن اهم تلك الطرق:

معلومة اثرانية (للاطلاع فقط)

- ١- طريق النجف – بغداد
- ٢- طريق النجف – كربلاء
- ٣- طريق النجف – الديوانية
- ٤- طريق النجف – المثنى
- ٥- طريق النجف – بابل

كما تضم المحافظة مطارا يعرف باسم مطار النجف الدولي.

الموارد المائية:

لقد انعكس مناخ المحافظة الذي عُرف بقلّة أمطاره على مصادر المياه التي اقتصرت على المياه السطحية المتمثلة بنهر الفرات وتفرعاته كشط الكوفة وشط العباسية المتفرع من شط الهندية، كما تعتمد المحافظة على مصادر المياه الجوفية، لاسيما في الاقسام الغربية من المحافظة.

النشاط الاقتصادي: تتمتع المحافظة بالعديد من المقومات الاقتصادية ويمكن توزيعها على النحو الآتي:

الزراعة:

تتميز المحافظة بتنوع النشاط الزراعي، اذ تزرع فيها العديد من المحاصيل الزراعية يأتي في مقدمتها محاصيل الحبوب كالرز والقمح والشعير والمحاصيل الصناعية كالقطن والذرة وزهرة الشمس، فضلاً عن زراعة اشجار النخيل.

الصناعة:

تشتهر المحافظة بتوافر العديد من الصناعات فيها، ولاسيما الصناعات الانشائية التي تمثلت بمعمل اسمنت الكوفة وصناعة الالبسة الجاهزة والصناعات الغذائية والصناعات الجلدية وصناعة الاطارات .

نبذة تاريخية عن محافظة النجف الأشرف:

كلمة النجف لفظ عربي جمعه (نجاف) ومعنى النجفة (التل)، وكما لقبت بوادي السلام نسبة الى مقبرتها الكبرى و(الربوة) لارتفاع هضبتها، وتضم مرقد الامام علي بن أبي طالب (أمير المؤمنين) (٢٣ ق.هـ - ٤٠ هـ) (عليه السلام) بقبته الذهبية الشاخصة، ويحوي المرقد نفائس لاتقدر بثمن من هدايا الملوك والرؤساء والسلاطين، والنجف مدينة دينية علمية فيها مدارس وابنية عديدة يدرس فيها الفقه والنحو والتاريخ والادب، إذ توجد فيها الحوزة العلمية التي درس بها الالاف من الطلبة كما ويؤمنها الالاف من الزوار سنوياً.

كما شيدت في المدينة محلة جديدة في العهد الملكي سميت بمحلة الغازية نسبة الى الملك غازي، كانت النجف قضاءً تابعاً للواء كربلاء سابقاً، ثم استحدثت كمحافظة في عام ١٩٧٦ ومركزها مدينة النجف، ومن مدنها التاريخية:

١- مدينة الحيرة:

وهي عاصمة المناذرة وقاعدة حكمهم، ومن اشهر ملوكها عمرو بن عدي بن نصر، ومن اهم الاثار التاريخية الشاخصة فيها قصر السدير والخورنق، فضلاً عن وجود العديد من الكنائس والاديرة.




قصر الحيرة



مدينة الحيرة

٢- مدينة الكوفة:

وهي احدى مدن العالم الاسلامي التي أسسها المسلمون منذ بداية الفتح الاسلامي، تقع الى جوار مدينة الحيرة، بدأ العرب بتشييدها عام ١٧هـ / ٦٣٨م على يد القائد سعد بن ابي وقاص، واصبحت عاصمة للخلافة الراشدية في عهد الخليفة الرابع الامام علي بن أبي طالب (عليه السلام)، إذ اتخذها عاصمة لخلافته سنة ٣٦هـ، والمدينة مكونة من اربعة اقسام تتوسطها دار الامارة والمسجد الجامع.



مدينة الكوفة القديمة

سميت الكوفة بهذا الاسم لأنها كانت أرض يختلط بها الحصى والرمل، ومن أهم المعالم التاريخية فيها مسجدها الشاخص وله أربعة أبواب لكل ضلع باب أكبرها باب الفيل وهو المقابل للضلع القبلي لمقام الإمام علي بن أبي طالب (عليه السلام) ومنبره، وقصر الأمانة الذي يقع في الواجهة الجنوبية من مسجد الكوفة، ومن الأحداث التي وقعت في

الكوفة هي استشهاد الإمام علي بن أبي طالب (عليه السلام) عام (٤٠ هـ / ٦٦١ م) متأثراً بجراحه في مسجد الكوفة ودفن في النجف الأشرف حسب وصيته، كما تضم مرقد دينية مقدسة أخرى.



مرقد الامام علي بن ابي طالب (عليه السلام)



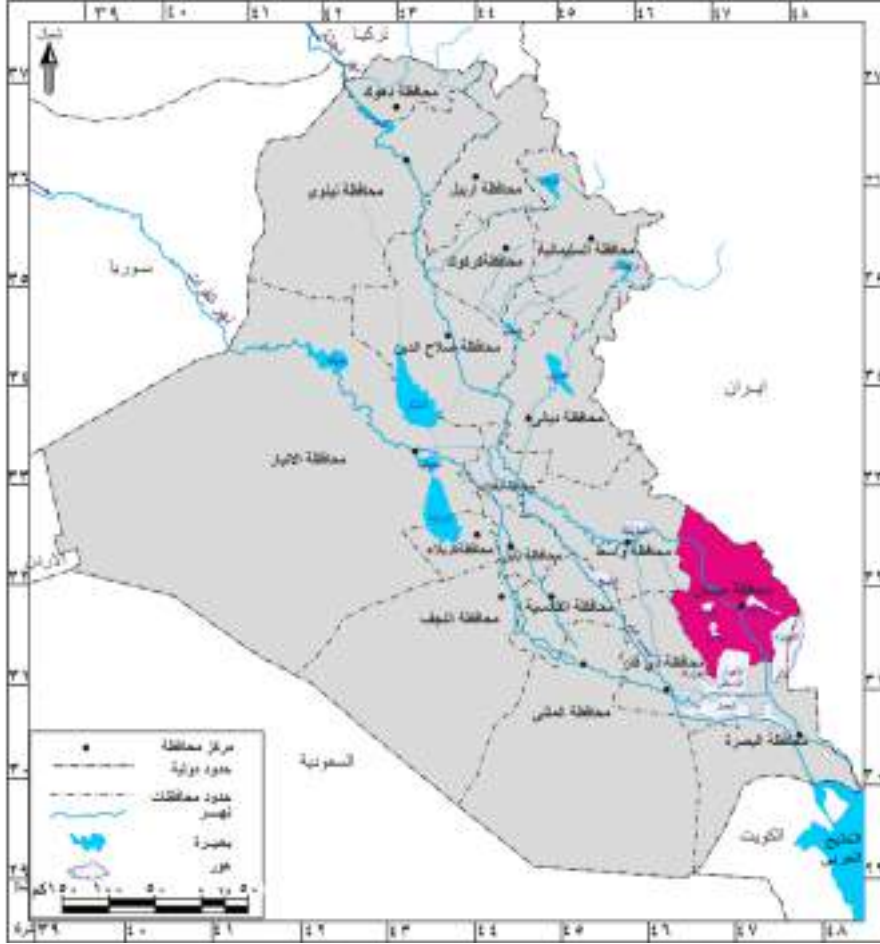
نشاط

- ١- اكتب تقريراً مصغراً لا يزيد عن صفحة واحدة تصف فيه أهم المعالم التاريخية والدينية في محافظة النجف الأشرف.
- ٢- هل سبق وان زرت مرقد الامام علي بن ابي طالب (عليه السلام)؟ صف ماتراه في المرقد من نفائس وحلي وجمال الزخرفة.
- ٣- هل تجاور محافظة النجف احدى الدول المجاورة للعراق حددها على الخريطة.

محافظة ميسان

الموقع الجغرافي

تقع محافظة ميسان في القسم الجنوبي الشرقي من وطننا العراق. لاحظ الخريطة رقم (١٩).



خريطة رقم (١٩) الموقع الجغرافي لمحافظة ميسان

التضاريس :

يعد سطح المحافظة جزءاً من منطقة السهل الرسوبي المنبسط في معظم اراضيها. اذ يتراوح ارتفاعها ما بين (٥-٢٠م) باستثناء الاقسام الشرقية التي تعد اكثر ارتفاعاً من غيرها، كما تتميز المحافظة بكثرة المنخفضات (الاهوار) وأهمها هور الحويزة والسعدية والسنان وعودة والاهوار الوسطى.

المناخ:

يعد مناخ المحافظة جزءاً من المناخ الصحراوي والذي يتصف بارتفاع درجات الحرارة ومستوى الجفاف في الصيف واعتداله في فصل الشتاء، اما امطاره فتكون قليلة تتراوح كمياتها ما بين (١٥٠ - ٣٠٠) ملم.

بلغ عدد سكان محافظة ميسان قرابة (١,٠٨٣,٩٣٧) نسمة بحسب التقديرات الإحصائية لعام (٢٠١٧). (للاطلاع فقط)



نشاط في اي قضاء تقع مدينتك؟

طرق النقل والمواصلات :

تضم محافظة ميسان شبكة من الطرق الرئيسية التي تربطها بالمحافظات المجاورة من خلال طرق برية عديدة اهمها:

معلومة اثرائية (للاطلاع فقط)

- ١- طريق العمارة – البصرة.
- ٢- طريق العمارة – بغداد.
- ٣- طريق العمارة – واسط.
- ٤- طريق العمارة -ذي قار

وعلى الصعيد التجاري تتميز المحافظة بوجود عدد من المنافذ الحدودية مع ايران والتي كان لها دورٌ في نشاط حركة التبادل التجاري بين العراق من جهة وايران من جهة اخرى.

الموارد المائية:

المياه السطحية: يعد نهر دجلة وتفرعاته الشريان الحيوي لمحافظة ميسان، اهمها:

أ- نهر دجلة الرئيس: يدخل المحافظة من جهتها الشمالية حتى مدخل مدينة العمارة .

ب- جدول الكحلاء: وهو احد فروع نهر دجلة في مدينة العمارة.

ج- جدول المشرح: وهو احد فروع نهر دجلة في مدينة العمارة يتفرع من الضفة اليسرى لجدول الكحلاء.

د-البتيرة: وهو احد فروع نهر دجلة

يتفرع من جهة شمال مدينة العمارة .

اما المشاريع الاروائية فهي الجداول

المذكورة أعلاه، فضلاً عن المجر الكبير

وهو من اهم المشاريع الاروائية في

المحافظة ويطلق عليه تسمية جداول

ري ميسان، اما مشاريع السيطرة فتتمثل

بسدة العمارة.




سدة العمارة



شط الكوفة



هور الحويزة



نشاط

خذ خريطة صماء للعراق وحدد عليها السدود والمشاريع الاروائية في كل من:

- 1- محافظة الديوانية.
- 2- محافظة كربلاء المقدسة.
- 3- محافظة ميسان.

النشاط الاقتصادي: تتمتع المحافظة بالعديد من المقومات الاقتصادية ويمكن توزيعها على النحو الآتي:
الزراعة:

تتميز المحافظة بتنوع النشاط الزراعي، اذ تزرع فيها العديد من المحاصيل الزراعية يأتي في مقدمتها محاصيل الحبوب كالقمح والشعير والمحاصيل الصناعية كالقطن والسمسم وزهرة الشمس وقصب السكر.

الصناعة و الثروات المعدنية:

تشتهر محافظة ميسان بتوافر العديد من الصناعات فيها، ولاسيما الصناعات الغذائية وصناعة الزيوت النباتية والورق والسكر والصناعات الكيماوية والتكرير، كما وتشتهر المحافظة ايضاً بوجود العديد من الحقول النفطية اهمها حقول الفكة وابو غراب وبزركان.



حقل الفكة النفطي




معمل سكر ميسان

نبذة تاريخية عن محافظة ميسان:

تعد ميسان احدى المدن التاريخية، حكمها (٢٣) ملكاً استمر حكمهم من القرن الثاني والاول قبل الميلاد الى القرن الثاني الميلادي .

وفي العصر الاسلامي فتحها القائد عتبة بن غزوان في عهد الخليفة الراشدي الثاني عمر بن الخطاب (رضي الله عنه)، وولى عليها النعمان بن عدي، واصبحت ميسان مركزاً لسك العملة القديمة ولاسيما في العهد الاموي، اما ميسان الحديثة فقد امر ببنائها الوالي العثماني (محمد باشا) عام ١٨٦١م عندما اراد ان يختار لمحلته العسكرية مقراً فلم تقع عينه على افضل من هذا المكان الواقع بين نهري دجلة والكحلاء، فنزل الجيش في هذه المنطقة التي اطلق عليها اسم (الاوردي) وهي لفظة تركية تطلق على معسكر الجيش، اما في حقبة التاريخ المعاصر فقد سميت بـ (لواء العمارة) ايام الحكم العثماني ثم استبدل إلى (محافظة ميسان) في عام (١٩٧٠) .

ومن اهم الاثار الشاخصة في المدينة المسجد الكبير ومنارته ومحلة القادرية وهي اول محلة أنشئت في هذه المدينة بعد سوق الباشا .



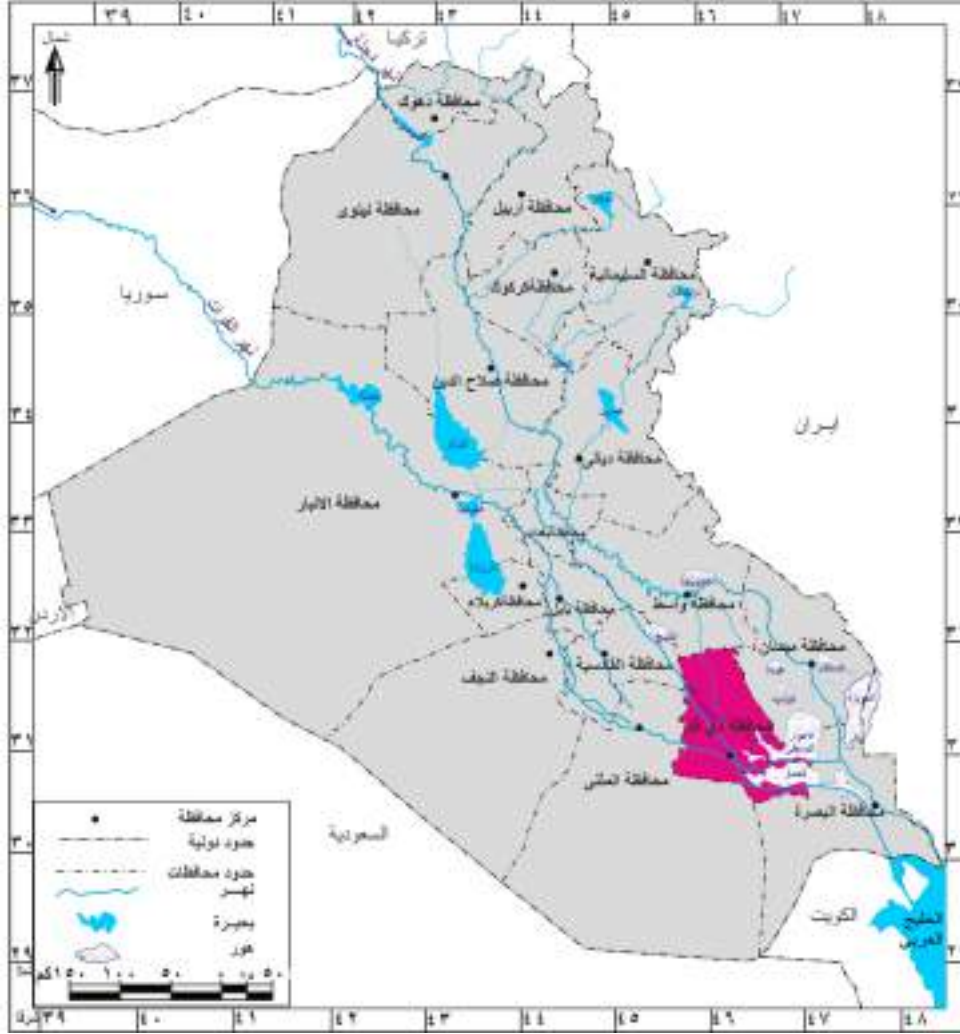
نشاط

- ١- شكل حلقة نقاشية مع زملائك التلاميذ وتحدثوا على اهم المعالم الحضارية في محافظة ميسان.
- ٢- هل تجاور محافظة ميسان احدى الدول المجاورة للعراق؟ حددها على الخريطة.
- ٣- حدد على خريطة العراق اهم الاهوار في المنطقة الجنوبية من وطننا العراق.

محافظة ذي قار

الموقع الجغرافي

تقع محافظة ذي قار في القسم الجنوبي من وطننا العراق، لاحظ الخريطة رقم (٢٠).



خريطة رقم (٢٠) الموقع الجغرافي لمحافظة ذي قار



نشاط

ما اسم المحافظة التي تجاور محافظة ذي قار من جهة الجنوب؟

التضاريس :

يعد سطح المحافظة جزءاً من منطقة السهل الرسوبي الذي يتميز بالانسياس في معظم أقسامه، كما تتميز المحافظة بوجود المنخفضات والودية في الأقسام الغربية منها.

المناخ :

تعد المحافظة جزءاً من المناخ الصحراوي الحار الذي يتصف بارتفاع درجات الحرارة في فصل الصيف واعتداله في الشتاء، اما امطاره فتكون قليلة ومتذبذبة اذ تتراوح كمياتها بين ١٥٠ - ٣٠٠ ملم.

بلغ عدد سكان محافظة ذي قار قرابة (٢,٠٤١,٠٦٦) نسمة بحسب التقديرات الإحصائية لعام (٢٠١٧).
(للاطلاع فقط)

طرق النقل والمواصلات :

تضم محافظة ذي قار شبكة من الطرق الرئيسية التي تربطها بالمحافظات المجاورة من خلال طرق برية عديدة اهمها:

معلومة اثرانية (للاطلاع فقط)

- ١- طريق ذي قار - بغداد. ٢- طريق ذي قار - البصرة.
- ٣- طريق ذي قار - واسط. ٤- طريق ذي قار - ميسان.
- ٥- طريق ذي قار - المثنى.

وتضم المحافظة ايضاً خطأ لسكة الحديد الذي يربط العاصمة بغداد بالمحافظات الجنوبية ويتمثل بخط بغداد - بابل - الديوانية - المثنى - ذي قار - البصرة.



نهر الفرات في محافظة ذي قار



هور الحمّار

الموارد المائية

يعد نهر الفرات الشريان الحيوي لمحافظة ذي قار اذ يدخل المحافظة من جهتها الشمالية الغربية ماراً بمدينة الناصرية وسوق الشيوخ، ثم يتفرع بعدها الى فروع عدة ليجري في هور الحمّار وهو احد الاهوار الكبرى في وطننا العراق، ويتخذ نهر الفرات عند دخوله الى هور الحمّار مجريين اثنين هما المجرى الشمالي والذي يلتقي بنهر دجلة في القرنة والمجرى الجنوبي الذي يتصل بشط العرب في كرمة علي.

النشاط الاقتصادي تتمتع المحافظة بالعديد من المقومات الاقتصادية ويمكن توزيعها على النحو الآتي:

الزراعة:

تتميز المحافظة بتنوع النشاط الزراعي، إذ تزرع فيها العديد من المحاصيل الزراعية يأتي في مقدمتها محاصيل الحبوب كالرز والقمح والشعير والمحاصيل الصناعية مثل زهرة الشمس والسمسم وقصب السكر.

الصناعة:

تشتهر المحافظة بتوافر العديد من الصناعات فيها، لاسيما الصناعات الكهربائية والغذائية والصناعات المعدنية والغزل والنسيج الصوفي .



مصنع الاسلاك الكهربائية في محافظة ذي قار

نبذة تاريخية عن محافظة ذي قار:

كانت تسمى المحافظة في العهد العثماني

بـ(لواء المنتفك)، وفي العهد الجمهوري عام (١٩٥٨م) بـ(لواء الناصرية)، وبعد صدور قانون المحافظات رقم (١٥٩) لسنة ١٩٦٩م بدل أسمها إلى محافظة ذي قار، ومن أهم مدنها التاريخية هي:

١- مدينة اور: يعود اصل تسمية مدينة اور إلى العهد القديم بإسم اوريم وهو مشابه للتسمية السومرية (اوروكي).

لقد احتلت مدينة اور مكانة بارزة بين المدن السومرية في العراق القديم.

وتعد من أشهر المدن الاثرية في جنوب العراق، إذ كانت عاصمة لثلاث سلالات سومرية حكمت العراق، وكانت مركزاً



مدينة اور الاثرية القديمة

للسومريين منذ الالف الثالث ق.م . وبلغت اوج عظمتها وازدهارها في عهد الملك السومري اورنمو مؤسس سلالة اور الثالثة (٢١١٢-٢٠٠٤) ق.م، ويعد اورنمو مشرع اول قانون سومري وقد عرف بأسمه، وللمدينة سور كبير يوجد في داخله عدد من المعابد الكبيرة والصرح المدرج (الزقورة).



قصر الملك شولكي



زقورة الوركاء



القيثارة الذهبية

والى الشرق من منطقة المعابد نشاهد مقبرة ضخمة تعود لعصر فجر السلالات الثالث قبل ٤٥٠٠ سنة، اغنتنا بموادها النادرة والتمينة وهي تغطي قاعات عدد من المتاحف داخل البلد وخارجه ومنها القيثارة الذهبية والحلي الذهبية والفضية والحجر النفيس، ومن مدينة ذي قار ظهر نبي الله ابراهيم الخليل أبو الأنبياء (عليه السلام) لينشر عقيدة التوحيد التي خرجت بها الديانات الثلاث.

ومن اهم المدن الرئيسية فيها سوق الشيوخ وقد اسمها السومريون بأسم (سوق مارو) اي سوق الحكيم .

٢- مدينة لارسا (السنكرة):

اسسها الملك الاموري نبلاوم نهاية الالف الثالث ق.م، وظلت مدينة لارسا عاصمة لمملكة الاموريين تحكي قصة حضارة عراقية قديمة، وقد وصل حكمهم من بلاد سومر و عيلام واكد وحتى الخليج العربي، كما توجد مدن رئيسة أخرى في المحافظة منها أريدو ومدينة لكش.



مدينة لارسا (السنكرة)

نشاط

١- خذ خريطة صماء للعراق وحدد عليها اهم المعالم والمواقع الحضارية في محافظة ذي قار.

٢- اكتب تقريراً لايزيد عن خمسة اسطر تصف فيه جمال الاهوار وطبيعتها في المحافظة.

محافظة المثنى

الموقع الجغرافي

تقع محافظة المثنى في القسم الجنوبي الغربي من وطننا العراق. لاحظ الخريطة رقم (٢١).



خريطة رقم (٢١) الموقع الجغرافي لمحافظة المثنى

التضاريس :

تقع المحافظة بين السهل الرسوبي والهضبة الغربية ويشغل السهل الرسوبي الأقسام الشرقية والشمالية الشرقية منها، وتتميز أراضيها بالانبساط التام، أما الهضبة الغربية التي تشكل القسم الأكبر فتشغل باقي أقسام المحافظة لاسيما الغربية والجنوبية الغربية منها وتتميز بسيادة الكثبان الرملية والأودية والمنخفضات.

نشاط هل تجاور محافظة المثنى احدى الدول المجاورة للعراق حددها على الخريطة.

المناخ :

تقع المحافظة ضمن المناخ الصحراوي الحار الجاف الذي يتميز بارتفاع درجات الحرارة، خلال فصل الصيف واعتداله في فصل الشتاء اما أمطارها فتقدر بأقل من (١٥٠) ملم .

هل تعلم

بلغ عدد سكان محافظة المثنى قرابة (٣٤٣,٧٩٣) نسمة بحسب التقديرات الإحصائية لعام (٢٠١٧). (للاطلاع فقط)

طرق النقل والمواصلات :

تضم محافظة المثنى شبكة من الطرق الرئيسية التي تربطها بالمحافظات المجاورة من خلال طرق برية عديدة اهمها:

معلومة اثرائية (للاطلاع فقط)

- ١- طريق المثنى - بغداد
- ٢- طريق المثنى - النجف
- ٣- طريق المثنى - القادسية
- ٤- طريق المثنى - ذي قار

وتضم المحافظة ايضاً خطاً لسكة الحديد الذي يربط العاصمة بغداد بالمحافظات الجنوبية ويتمثل بخط بغداد - بابل - الديوانية - المثنى - ذي قار - البصرة.

الموارد المائية:

اقتصرت مصادر المياه في المحافظة على المياه السطحية، وتتمثل بنهر الفرات وتفرعاته كالسبيل والعطشان اللذان يعدان المصدر الرئيس لمختلف الانشطة الاقتصادية، كما تتميز المحافظة بوجود المنخفضات والاهوار والبحيرات، اهمها بحيرة ساوة ومنخفض الصليبات.



بحيرة ساوة



منخفض الصليبات

النشاط الاقتصادي:

تتمتع المحافظة بالعديد من المقومات الاقتصادية ويمكن توزيعها على النحو الآتي:

الزراعة:

تزرع في المحافظة العديد من المحاصيل الزراعية أهمها القمح والشعير والمحاصيل الصناعية كالسمسم وزهرة الشمس، فضلاً عن زراعة العديد من اشجار النخيل.

الصناعة:

تشتهر المحافظة بالعديد من الصناعات فيها ولاسيما الصناعات الانشائية والتي تتمثل بمعمل اسمنت السماوة، والصناعات الغذائية وصناعة التكرير.

نبذة تاريخية عن محافظة المثنى:

معنى اسم السماوة هو الارض المستوية التي لاحجر فيها، اصبحت المثنى محافظة بعد صدور قانون المحافظات رقم ١٥٩ لسنة ١٩٦٩.

ومن المدن التاريخية في المحافظة هي:

مدينة الوركاء: تعد من اشهر المدن السومرية في العراق القديم التي سكنها الناس منذ ستة الاف عام ق.م. وحتى المدة السابقة للعصر الاسلامي.



الزقورة



الوركاء

وقد اكتسبت مدينة الوركاء اهمية خاصة بين مدن العراق القديم من الناحية العلمية والدينية، وهذا ماتؤكدده العديد من الرقم الطينية المكتشفة فيها والتي ترجع الى بداية عصر اختراع الكتابة قبل نحو خمسة الاف عام، وهي مركز عبادة الالهة اينانا (عشتار) والتي تمثل كوكب الزهرة.

وتشير النصوص المسمارية إلى ان كلكامش الملك السومري صاحب الاسطورة الشهيرة (كلكامش) هو اول من بنى مراحلها الاولى قبل حوالي (٤٧٠٠) سنة ق.م .

وقد اشتهرت مدينة الوركاء بمخططها الحضري الذي يشمل السور الخارجي والابراج والبوابات والمعابد وزقورتها التي يعود تاريخها لعهد الملك اورنمو مؤسس سلالة اور الثالثة قبل اربعة الاف عام ق.م.



مسلة اورنمو



الملك السومري كلكامش



نشاط

خذ خريطة صماء للعراق وحدد عليها اهم المواقع التاريخية في محافظة المثنى.



رقم طينية تمثل بداية عصر الكتابة



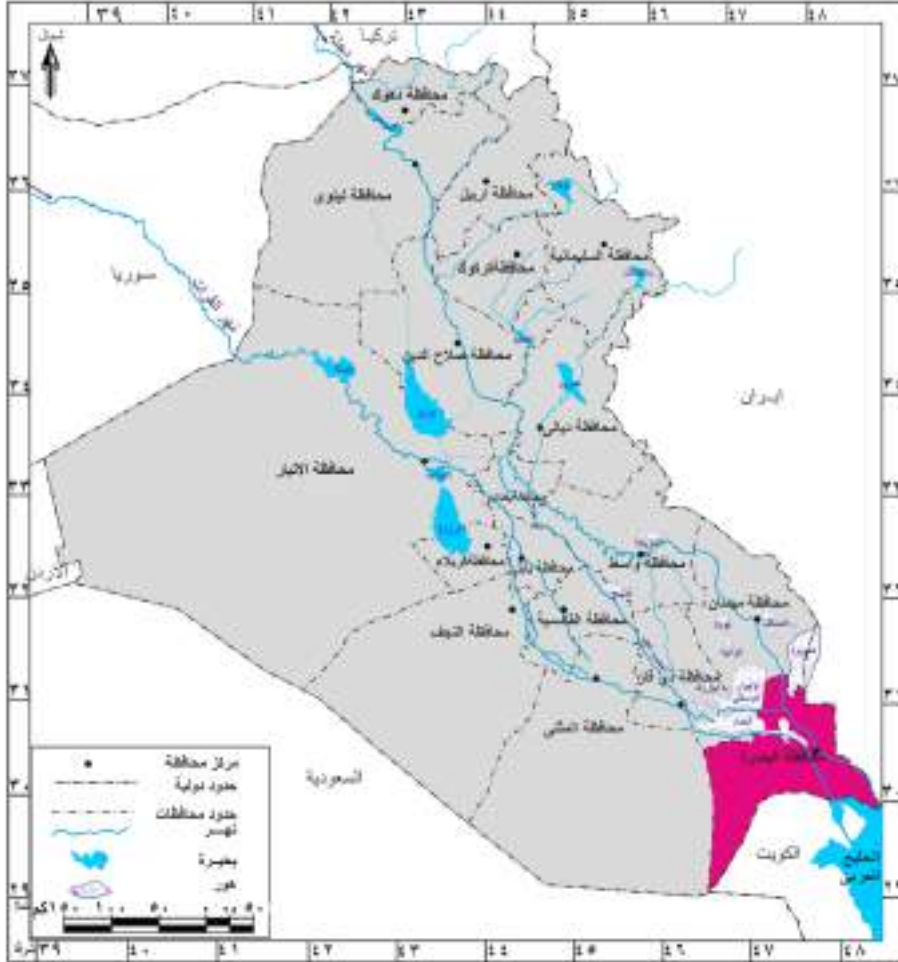
نشاط

- ١- اكتب تقريراً لاي زيد عن خمسة اسطر تصف فيه تاريخ مدينة الوركاء.
- ٢- اكتب تقريراً لاي زيد عن خمسة اسطر تصف فيه تاريخ الزقورة .

محافظة البصرة

الموقع الجغرافي

تقع محافظة البصرة في أقصى الجنوب الشرقي من وطننا العراق، وهي منفذ العراق البحري على الخليج العربي. لاحظ الخريطة رقم (٢٢).



خريطة رقم (٢٢) الموقع الجغرافي لمحافظة البصرة



نشاط

هل تجاور محافظة البصرة بعض الدول المجاورة للعراق، حددها على الخريطة.

التضاريس :

تعد محافظة البصرة جزءاً من منطقة السهل الرسوبي الذي يتميز بانبساطه التام في معظم أقسام المحافظة الشمالية والشرقية، اما في الأقسام الغربية والجنوبية الغربية فتظهر بعض الأودية والتلال تتمثل بتل سنام.

المناخ :

يعد مناخ محافظة البصرة جزءاً من المناخ الصحراوي الذي يتميز بارتفاع درجات الحرارة في فصل الصيف، وتصبح الأجواء غير مريحة في حالة هبوب رياح رطبة من الخليج العربي اما امطاره فتكون متذبذبة وتتراوح كمياتها بين (١٥٠-٣٠٠) ملم.

هل تعلم

بلغ عدد سكان محافظة البصرة قرابة (٣٧٦, ٨٣٣, ٢) نسمة بحسب التقديرات الإحصائية لعام (٢٠١٧). **(للاطلاع فقط)**

فكر وأجب

في اي قضاء تقع مدينتك؟

طرق النقل والمواصلات :

تضم محافظة البصرة شبكة من الطرق الرئيسية التي تربطها بالمحافظات المجاورة من خلال طرق برية عديدة اهمها:

معلومة اثرائية (للاطلاع فقط)

- ١- طريق البصرة - بغداد
- ٢- طريق البصرة - ميسان
- ٣- طريق البصرة - ذي قار
- ٤- طريق البصرة - المثنى

كما تضم المحافظة أيضاً خط المرور السريع وسكة الحديد (بغداد - البصرة) مروراً بالمحافظات، (البصرة - ذي قار - المثنى - الديوانية - بابل - بغداد)، فضلاً عن النقل الجوي الذي يتمثل بمطار البصرة، وبحكم موقعها الحدودي مع جمهورية ايران ودولة الكويت فقد تميزت بوجود العديد من المنافذ الحدودية والتي كان لها اهمية كبيرة في تشجيع وتسهيل حركة التبادل التجاري بينهما فضلاً عن وجود العديد من الموانئ التي تنقل صادرات العراق وتستقبل وارداته التجارية والنفطية من والى جميع بلدان العالم، ومن اهم تلك الموانئ: (ميناء العميق، العمية، البصرة، الفاو).

الموارد المائية:

تضم محافظة البصرة العديد من موارد المياه السطحية، منها شط العرب الذي يتكون من التقاء نهري دجلة والفرات عند مدينة القرنة وكذلك وجود العديد من الاهوار الدائمة والموسمية أهمها: هور الحويزة والاهوار الوسطى.



شط العرب



الاهوار في محافظة البصرة

النشاط الاقتصادي تتمتع المحافظة بالعديد من المقومات الاقتصادية ويمكن توزيعها على النحو الآتي:
الزراعة:

تتميز المحافظة بتنوع النشاط الزراعي، اذ تزرع فيها العديد من المحاصيل الزراعية يأتي في مقدمتها محاصيل الحبوب كالقمح والشعير والمحاصيل الصناعية كالقطن والذرة، فضلاً عن زراعة العديد من اشجار النخيل اذ تحتل المحافظة مراكز متقدمة في زراعة النخيل و انتاج التمور.

الصناعة والثروات المعدنية:



معمل الحديد والصلب

تشتهر محافظة البصرة بتوافر العديد من الصناعات فيها ولاسيما الصناعات الغذائية وصناعة الاسمدة والصناعات الانشائية والكيمياوية والبتروكيمياويات والحديد والصلب والصناعات الثقيلة والورق والتكرير الذي يتمثل بمصفى البصرة، كما وتشتهر المحافظة ايضاً بوجود العديد من الحقول النفطية أهمها حقول الرميلة وحقول الزبير وارطاوي واللحيس.



ميناء العمية



مصفى البصرة

نبذة تاريخية عن محافظة البصرة:




الصرايف

تعد البصرة اول ولاية اسلامية خارج حدود الجزيرة العربية. وقد كان لها شان كبير اذ كانت مركزاً ادارياً في الولايات الاسلامية.

اسسها عتبة بن غزوان عام (١٤هـ) بامر من الخليفة الراشدي عمر بن الخطاب (رضي الله عنه). لتكون قاعدة ادارية وعسكرية للفتوحات الاسلامية في الشرق والخليج العربي.

وقد بلغت المدينة اوج ازدهارها الحضاري في العصر العباسي، إذ كانت هي وضاحتها

الابلة مركز تجارة العرب البحرية التي بلغت الصين، كانت تسمى في السابق بـ (لواء البصرة) حتى صدور قانون المحافظات رقم (١٥٩) لسنة (١٩٦٩) استبدل الى اسم (محافظة البصرة).



نشاط

- ١- خذ خريطة صماء للعراق وحدد عليها محافظة البصرة.
- ٢- حدد على الخريطة محافظات العراق الجنوبية.



فكر واجب

- ١- في اثناء تجوالك في مدينتك هل لاحظت بعض الاثار التاريخية القديمة؟ سجلها في دفترك.
- ٢- خذ خريطة صماء للعراق وحدد المحافظات التي يمر بها نهر الفرات.
- ٣- حدد على الخريطة المحافظات الآتية: البصرة، ذي قار، كربلاء المقدسة.
- ٤- خذ ورقاً شفافاً وحدد عليه الحدود الخارجية لخريطة العراق ثم حدد جميع محافظات العراق على الخريطة.
- ٥- اكتب تقريراً لايزيد عن خمسة اسطر تصف فيه حركة التبادل التجاري في الموانئ العراقية.
- ٦- ارسم خريطة العراق وحدد عليها مسار نهري دجلة والفرات.

أسئلة الوحدة الأولى

س ١: ضع علامة (✓) امام العبارة الصحيحة وعلامة (X) امام العبارة غير الصحيحة فيما يأتي:

- ١- تنتشر الهضاب في الاقسام الشمالية والشمالية الشرقية من العراق.
- ٢- تقع محافظة دهوك في اقصى جنوب وطننا العراق.
- ٣- يعد مناخ محافظة اربيل جزءاً من المناخ الصحراوي.
- ٤- يعد رافد الخابور اول الروافد المغذية لنهر دجلة.
- ٥- تل أسمر هو احد المعالم الحضارية لمحافظة ديالى.
- ٦- بنيت الانبار في عهد الملك نبوخذنصر.
- ٧- الجسر العباسي هو احد الأماكن الاثرية في محافظة ميسان.
- ٨- يرتبط اسم محافظة صلاح الدين بالقائد صلاح الدين الايوبي.
- ٩- تعد الجنائن المعلقة احدى عجائب الدنيا السبع.
- ١٠- تعد تضاريس محافظة بابل جزءاً من منطقة الهضبة الغربية.
- ١١- بنى الحجاج بن يوسف الثقفي محافظة واسط عام ٩٠ هـ.
- ١٢- تقع محافظة الديوانية في الجزء الجنوبي الأوسط من السهل الرسوبي.
- ١٣- تقع محافظة النجف في القسم الشرقي من وطننا العراق.
- ١٤- مدينة نفر احدى المدن الاثرية في محافظة السماوة.
- ١٥- تعد لارسا احدى المدن التاريخية في محافظة ذي قار.
- ١٦- تقع محافظة ميسان في القسم الجنوبي الغربي من وطننا العراق.
- ١٧- البصرة من الولايات الإسلامية التي تقع خارج حدود الجزيرة.

س ٢: املأ الفراغات التالية بما يناسبها.

- ١- يعد مناخ محافظة دهوك جزءاً من مناخ ، اما اهم معالمها الحضارية
- ٢- تقسم التضاريس في محافظة اربيل على قسمين رئيسيين هما
- ٣- من اشهر جبال محافظة السليمانية جبال و ومن اهم مصايفها هي و
- ٤- تقسم تضاريس محافظة نينوى على ثلاثة اقسام هي و و واهم مدنها التاريخية و

- ٥- كانت محافظة ديالى تسمى في العهدين العباسي والعثماني بـ
- ٦- تتكون تضاريس محافظة الانبار من ثلاثة اقسام هي و..... و.....
- ٧- ورد ذكر مدينة عنه في النصوص و..... وقد اشتق اسمها من اسم الاله
السومري
- ٨- تعد محافظة عاصمة جمهورية العراق، ومن اهم معالمها الحضارية
- و و.....
- ٩- اهم المدن التاريخية في محافظة بابل مدينة ومدينة
- ١٠- من المناطق السياحية في محافظة بغداد و.....
- ١١- اسم كركوك مشتق من كلمة وتعني
- ١٢- تضم محافظة واسط العديد من الحقول النفطية اهمها و.....
- ١٣- تشمل الهضبة الغربية الاقسام و..... من محافظة النجف وتبلغ نسبتها
حوالي من مساحة المحافظة.
- ١٤- تقع محافظة المثنى في من العراق، ومن اهم مدنها التاريخية
- ١٥- من اهم المدن الأثرية في محافظة الديوانية و
- ١٦- من اهم المدن الأثرية في محافظة ذي قار، مدينة ومدينة
- ١٧- اسس مدينة البصرة القائد عام بأمر من الخليفة (رضي الله عنه).
- ١٨- من اهم مشاريع السيطرة والخزن في محافظة الانبار و.....
- ١٩- معنى اسم السماوة هو

س٣: انسب المشاريع التالية الى الانهار الرئيسية.

- سد دوكان - الزاب الكبير - سد دربندخان - الخابور - نهر العظيم
- بحيرة حميرين - سد حديثة - الغراف - شط الدغارة - سدة الكوت
- شط الشامية - شط العباسية - سدة العمارة.

س٤: عرف مايتي:

- الجسر العباسي، الزاب الكبير، نمرود (كالح)، مدينة سامراء، سد حديثة، بورسبا، خان
النخيلة (خان الربع)، الخابور، الزاب الصغير، سدة الكوت .

س ٥: تكلم على اهم المراقد الدينية في محافظة كربلاء المقدسة.

س ٦: عدد اهم المعالم الحضارية والدينية التي تشتهر بها محافظة بغداد.

س ٧: تكلم على محافظة كركوك تاريخياً وعن أهم المعالم الحضارية فيها.

س ٨: تكلم على ما يأتي:

١- الموارد المائية في محافظة السليمانية.

٢- الثروات المعدنية في محافظة نينوى

٣- الموارد المائية في محافظة كركوك.

٤- التضاريس في محافظة صلاح الدين.

٥- الصناعة في محافظة بغداد.

٦- الثروات المعدنية في محافظة البصرة.

س ٩: خذ خريطة صماء للعراق وحدد عليها المواقع الآتية:

١- نهر دجلة ٢- نهر الفرات ٣- سدة الكوت ٤- سدة الهندية

٥- هور الحويزة ٦- هور الحمار ٧- سد ديالى ٨- حقول النفط في محافظة كركوك

٩- بحيرة الثرثار ١٠- بحيرة الحبانية ١١- الزاب الكبير ١٢- بحيرة حميرين.

س ١٠: مرر القلم على النقاط في الشكل الاتي لترسم خريطة العراق. ثم لونها.



الوحدة الثانية

مجتمعنا العراقي (مفهومه، مكوناته، الروابط التاريخية والاجتماعية، القيم الحضارية العراقية السامية، قضايا اجتماعية عامة

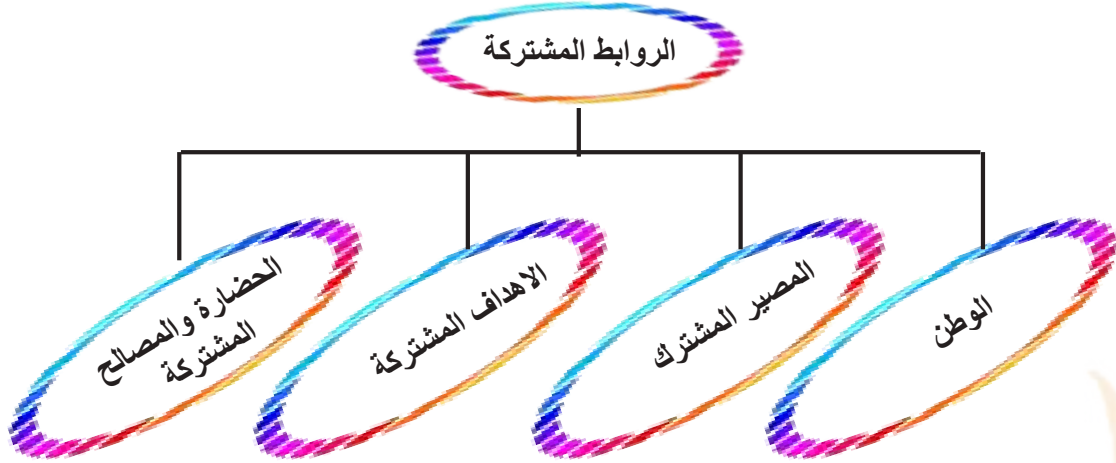
بعد الانتهاء من دراسة هذه الوحدة سيكون التلميذ/ التلميذة قادرا على أن :

- يتعرف إلى مفهوم المجتمع العراقي.
- يفهم أهمية التنوع في مكونات المجتمع العراقي.
- يتعرف إلى الروابط التاريخية والاجتماعية لمجتمعنا العراقي.
- يفهم القيم الحضارية العراقية السامية.
- يتعرف إلى اهم ملوثات البيئة .
- يتعرف إلى بعض القضايا الاجتماعية العامة في مجتمعنا العراقي.

الترشيد في استهلاك المياه والطاقة
الكهربائية دليل على وعيك وحرصك
على بلدك

مجتمعنا العراقي اولاً: مفهوم المجتمع العراقي:

هو مجموعة من الافراد يعيشون على ارض العراق وتربطهم روابط تاريخية واجتماعية اصيلة. كما هو موضح في الشكل الاتي :



ويتألف مجتمعنا العراقي من قوميات متعددة عاشت على ارض العراق في سهوله وجباله واهواره وصحاريه منذ العصور القديمة وهم متساوون جميعاً في الحقوق والواجبات .

ثانياً: مكونات المجتمع العراقي :

١- العرب: ويقطنون اغلب محافظات العراق ويتميز العرب بآرثهم الاجتماعي والحضاري الاصيل، فضلاً عن العادات والتقاليد العربية الاصيلية ، ويعيش هذا المكون بانسجام وتعاون مع المكونات الاخرى.



الزي العربي العراقي



زي كردي

٢- الأكراد: ولهم عادات وتقاليد اجتماعية مميزة نابعة من حضارة الشعب الكردي وتاريخه، ويقطنون في الاقسام الشمالية من وطننا العراق، فضلاً عن وجودهم في بعض محافظات وطننا الاخرى ويعيشون جنباً الى جنب مع اخوتهم من العرب وغيرهم من اطياف وطننا.



زي تركماني

٣- التركمان: ولهم موروث اجتماعي قديم يتعلق بعاداتهم وتقاليدهم الاجتماعية، ويقطنون في الاقسام الشمالية من العراق، ولاسيما في محافظة كركوك التي تشكل الغالبية العظمى من اعداد التركمان.



زي اشوري

٤- الكلدان والآشوريون والسريان والارمن: ويعدون من مكونات المجتمع العراقي وقد عاشوا على ارض الوطن منذ اقدم العصور وشاركوا في بناء الحضارة العراقية العظيمة لاسيما (الاشورية والكلدانية).



الزي الايزيدي

٥- الايزيدية: يعد الايزيديون مكوناً من مكونات المجتمع العراقي وترجع تسميتهم نسبة الى ديانتهم الايزيدية وقد اندمجوا مع مكونات المجتمع العراقي منذ الازل كما شاركوا في بناء الوطن والدفاع عنه، ويوجد اغلب هذا المكون في محافظتي نينوى ودهوك .



زي شبكي

٦- الشبك: وهو مكون نعتز بوجوده ضمن مكونات المجتمع العراقي، ويوجد هذا المكون في اغلب المحافظات الشمالية، لاسيما محافظة نينوى، وقد امتاز هذا المكون بعبادات وتقاليد مميزة عكست حبهم للتعايش السلمي مع جميع المكونات الأخرى، فضلاً عن وجود لغة خاصة بهم.



زي صابئي

٧- الصابئة: يعد هذا المكون من الطوائف الدينية القديمة في المجتمع العراقي، وتركزت منطقة سكنهم في الاغلب في محافظات وسط العراق وجنوبه بالقرب من الانهار، وذلك لاهميتها في معتقداتهم الدينية، ولهم دور مهم في بناء الوطن والدفاع عنه.

ثالثاً / الروابط التاريخية والاجتماعية للمجتمع العراقي

١- التنوع الثقافي:

يمتاز سكان وطننا بالتنوع الثقافي، اذ نجد ان لكل قومية وطائفة من ابناء وطننا لديها تراثها الثقافي وهذا نابع من التنوع الذي ادى الى تعزيز روح الاخوة بين تلك القوميات وعلى الرغم من ذلك التنوع الا انهم متشابهون في وحدة الاصل التي تجمعهم وهو وطننا الذي نعيش فيه.

٢- العادات والتقاليد:

ان عادات العراقيين وتقاليدهم هي امتداد للعادات والتقاليد التاريخية فهم يحملون الصفات الفكرية والاخلاقية التي حملها اجدادهم وكلها نابعة من الدين الاسلامي والاديان السماوية الاخرى. وعلى الرغم من التقسيمات الادارية لسكان وطننا الا انهم لم يختلفوا في عاداتهم وثقافتهم الاصلية، والتي لم تشكل عائقاً او حاجزاً في طريق وحدة الثقافة العراقية.



نشاط عدد عادات وتقاليد اخرى خاصة بابناء وطننا العراق.

٣- اللغة والدين:

يمتاز سكان وطننا العراق بالتنوع اللغوي في جميع انحاءه فنجد اللغة العربية واللغة الكردية والتركمانية والسريانية وغيرها من اللغات التي يتكلم بها ابناء وطننا، وقد نص دستور وطننا على احترام جميع الاديان والطوائف العراقية بكل انواعها وان دل على شيء فإنما يدل على احترام دستور وطننا لحقوق جميع اطياف المجتمع العراقي وحياته.


٤- التاريخ المشترك:

ان تاريخ وطننا نابع من التاريخ الإسلامي والاديان السماوية الاخرى، فنجدهم دائماً يقفون صفاً واحداً في مواجهة التحديات والاطار التي نواجهها اليوم، وهذا ما نجده واضحاً من خلال وقفة ابناء وطننا بجميع اطيافه في محاربة الإرهاب، اذ لم تقتصر محاربتة على فئة او طائفة واحدة بل شارك الجميع ووقفوا صفاً واحداً في محاربتة.

٥- التسامح ونبذ العنف:

تعد صفة التسامح من ابرز الصفات التي يتميز بها ابناء وطننا وبجميع اطيافه، اذ نجدهم يسعون الى التعايش السلمي مع الاخرين بكرامة وسلام بعيداً عن العنف ونبذ الخلافات والتحديات واعتماد ثقافة الحوار مع الاخرين واحترام الرأي الاخر واحترام العادات والتقاليد الاجتماعية والتاريخية التي تجمعهم.

رابعاً: حقوق المواطن العراقي: (انظر الشكل الاتي)



نشاط

هل هناك حقوق اخرى يتمتع بها المواطن العراقي؟ عددها؟

خامساً: القيم الحضارية العراقية السامية:

ان المجتمع العراقي يجمع بمكوناته قيماً حضارية عديدة، فضلاً عن الروابط المشتركة

الاخري، من اهمها :

١- احترام العمل :

العمل هو النشاط الذي يقوم به الانسان من اجل تحقيق هدف معين، والعمل هو اساس تقدم الامم والمجتمعات، وعن طريقه بنيت الحضارات البشرية، ويعد العمل واجباً على الإنسان، و لولاه لما استطاع الإنسان العيش وتلبية احتياجاته المختلفة، ولهذا احترم العراقيون بكل مكوناتهم العمل، وعملوا على تأديته بأمانة وإخلاص لأنه يمثل مصدر قوتهم وكرامتهم ، لذا اصبح العراقي يتحمل المسؤولية، ولديه مشاعر احترام الواجب والدفاع عن الحق، ولقد اهتمت المجتمعات بالعمل لأنه يبني مجتمعاً سليماً ويحقق لأفراده الامن والرفاهية والاستقرار.



فكر واجب

- ١- ما المقصود بالعمل؟
- ٢- لماذا يعد احترام العمل واجباً على الانسان؟
- ٣- لماذا تهتم الدول بالعمل؟

٢- الصدق:

هو قيمة عليا لا غنى عنها من أجل استمرار العلاقات الإنسانية الطيبة بين الناس، لذا أكدت عليه جميع الأديان السماوية وقد تمسك بها العراقيون على مر العصور، والصدق هو مطابقة القول للواقع. وله عدة فوائد منها أنه ينقي الإنسان من الضرر، ويحميه من المخاطر كما قيل (النجاة في الصدق)، ويبعده عن الصفات غير الجيدة مثل الكذب والغش.

فكر واجب

- ١- ما المقصود بالصدق؟
- ٢- لماذا اكدت جميع الاديان السماوية اهمية الصدق؟
- ٣- لماذا توجب على الانسان الالتزام بالصدق؟
- ٤- اذكر نصوصاً قرآنية او احاديث نبوية تدل على الصدق؟

٣- الأمانة :

وهي إحدى صور الوفاء والصدق عند الانسان ، وتعني المحافظة على ممتلكات الناس وحفظ أسرارهم، وتعد الامانة احد اهم الصفات الجيدة والنبيلة التي عرفها المجتمع العراقي بكل اطيافه في مختلف ارجاء الوطن، اذ تعد الأمانة صفة محببة عند العراقيين منذ القدم ، وهناك انواع عدة من الامانة اهمها:

١- الأمانة في انجاز العمل. ٢- الامانة في المحافظة على المال العام.

٣- الامانة في نقل الكلام. ٤- الامانة في حفظ الاسرار.

وعن طريق الامانة يتعلم الإنسان:

١- المحافظة على الممتلكات الشخصية. ٢- المحافظة على ممتلكات الاسرة.

٣- المحافظة على ممتلكات المدرسة. ٤- المحافظة على ممتلكات الناس.

٥- المحافظة على ممتلكات الوطن .

فكر وأجب

١- ماذا يتعلم الإنسان من الامانة ؟

٢- اعط مثلاً عن الأمانة من حياتنا اليومية .

٣- من صور الامانة المحافظة على المال العام؟المقصود بهذه العبارة.

٤. التعاون :

يعني مساعدة الافراد بعضهم لبعض في مختلف جوانب الحياة ، والتعاون صفة اجتماعية جيدة لا يمكن الاستغناء عنها في اي جماعة او مجتمع ، لان الانسان غير قادر دائماً على انجاز اموره لوحده، بل يحتاج الى دعم الاخرين ومساندتهم، ولهذا اكدت جميع الاديان والحضارات البشرية على ارض وطننا العراق أهمية التعاون ودوره في تقوية العلاقات الاجتماعية بين الناس، اذ تتعاون مكونات المجتمع العراقي فيما بينها في البناء الاجتماعي والحضاري، اذ وقفوا جميعاً مدافعين عن هذا الوطن ازاء التحديات والمشاركة في اعلاء شأنه ومكانته بين الدول .

وللتعاون فوائد عديدة في حياتنا الاجتماعية اهمها:

١- تقوية أواصر المحبة بين الناس. ٢-السرعة في انجاز العمل.

٣- تنظيم الوقت. ٤- زيادة التكاتف بين الناس.



فكر واجب

- ١- عدد مجالات التعاون بين مكونات المجتمع العراقي .
- ٢- ما فوائد التعاون في حياتنا الاجتماعية ؟
- ٣- هل أكد الدين الإسلامي أهمية التعاون؟ اذكر بعض الآيات التي تدل على ذلك.

٥. الوفاء بالعهد:

ويعني ان يكون الانسان صادقاً في وعوده وعهوده مع الاخرين في القول والفعل، والوفاء بالعهد من القيم الاجتماعية والأخلاقية التي أكدت اهميتها الاديان السماوية والحضارات الانسانية المختلفة منذ آلاف السنين ، ولقد انتشرت صفة الوفاء بالعهد لدى ابناء حضارة وادي الرافدين ، بل ان العراقيين كانوا يتفاخرون بين الشعوب لان لديهم صفة الوفاء بالعهد ، وللوفاء بالعهد فوائد عدة أهمها، زيادة الثقة بين الأفراد ، تقوية أواصر التعاون في المجتمع ، طمأنينة الفرد واستقراره، وانتشار الصدق ، وغيرها من الصفات الجيدة الاخرى .

فكر واجب

- ١- ماذا نعني بالوفاء بالعهد ؟
- ٢- ماهي فوائد الوفاء بالعهد؟

٦. الايثار:

هو تقديم منفعة الآخرين ومصالحتهم على منافعنا ومصالحنا، والإيثار من الصفات الحسنة وهو عكس الانانية، ولقد اكدت الاديان السماوية كافة اهمية الايثار لأنه يدفع الانسان الى الاهتمام بالآخرين ومساعدتهم لاسيما الأشخاص العاجزين وكبار السن، وتلك الصفة تميزت بها جميع مكونات المجتمع العراقي من أجل الوصول إلى أعلى درجات العدالة الاجتماعية فيما بينهم. وللإيثار فوائد عديدة منها:

١- يعلم الإنسان حب مساعدة الآخرين.

٢- يعلم الصبر.

٣- يزيد الالفة والمحبة بين الناس.

٤- يربي الانسان على الكرم.

فكر واجب

١- ما المقصود بالإيثار؟

٢- لماذا اكدت الاديان السماوية اهمية الايثار؟

٣- اذكر اهم فوائد الايثار .

٧. الكرم :

هو ان يعطي الانسان من ممتلكاته الخاصة للآخرين من دون ان يحصل على مقابل ، والكرم صفة جيدة يتفاخر بها العراقيون دوماً، ولاسيما كرم الضيافة، لأن العراقيين منذ القدم يفرحون عندما يأتيهم ضيف ويسارعون في تقديم كل ما عندهم اليه، وللكرم فوائد عدة اهمها : يزيد المودة والمحبة بين الناس، ويعلم الانسان الصبر، ويزيد احترام الناس له، ويرسخ الطمأنينة وراحة النفس عند الفرد، وعلى الرغم من ان الكرم صفة حسنة لكن يجب على الانسان ان يفرق بين الكرم والتبذير، لان التبذير يؤدي الى ضياع الوقت والجهد والمال .



١- ما المقصود بالكرم؟

٢- بماذا كان يتفاخر العراقيون؟

٣- ما اهم فوائد الكرم؟

سادسا: قضايا اجتماعية عامة :

أ/ احترام القانون والنظام في المجتمع:

ان المجتمع هو مجموعة من الافراد يعيشون في مكان معين، وهؤلاء الافراد بحاجة الى تنظيم امورهم الحياتية بشكل يحمي حقوق الجميع ، ولقد وجد الانسان ان القوانين هي الطريقة المناسبة لتنظيم حياة الناس وحل الخلافات والمشكلات التي تحدث بينهم ، ومن اجل المحافظة على ارواحهم وممتلكاتهم، وللقوانين فوائد عدة اهمها:

١- تحقيق العدالة والمساواة بين الناس.

٢- المحافظة على الامن والاستقرار في المجتمع.

٣- حماية الممتلكات الخاصة والعامة، وحماية حرية الفرد في المجتمع.

٤- تحقيق التقدم ومواكبة التطور في جميع مجالات الحياة.

ولهذا يجب على الانسان احترام القوانين والأنظمة في المجتمع الذي يعيش فيه، لان احترام القوانين يؤدي الى حماية حقوقه وحرية، كما ان احترام القوانين يعبر عن وعي الانسان والتزامه بأخلاق المجتمع وادابه الذي يعيش فيه.



فكر وأجب

- ١- لماذا تعد القوانين وكيفية تطبيقها الطريقة المناسبة لحياة الناس في المجتمع الذي يعيشون فيه ؟
- ٢- اذكر اهم فوائد القانون ؟
- ٣- لماذا يجب على الانسان احترام القوانين والأنظمة في المجتمع الذي يعيش فيه ؟

ب / احترام الوقت وتنظيمه:

يعد الوقت من الامور المهمة لدى كل فرد ، لأنه يرتبط بمختلف جوانب حياة الانسان، ولان اغلب الاشياء يمكن تعويضها إلا الوقت فهو يذهب ولا يعود، وتسعى جميع المجتمعات الى تعليم افرادها كيفية تنظيم الوقت والاستفادة منه لتحقيق التقدم في مجالات الحياة كافة، وتنظيم الانسان لوقته له فوائد عدة اهمها: انجاز الاعمال بدقة، توفير الجهد ، تحقيق الفائدة والنجاح، الشعور بالراحة والطمأنينة، تحقيق التقدم والتطور للمجتمع الذي يعيش فيه، وغيرها من الفوائد الاخرى، وكلما سعى الانسان إلى احترام وقته وتنظيمه كلما زاد احترامه وتقديره بين الناس، لان تنظيم الوقت دليل وعي الانسان ودليل نجاحه في الحياة، ويمكن ان نعرف مدى احترام الانسان للوقت عن طريق ما يأتي : التزامه بالمواعيد بدقة، والاستفادة من وقت الفراغ بأمر جيد، واحترامه لأوقات الاخرين.

فكر وأجب

- ١- لماذا يعد الوقت من الامور المهمة لدى كل فرد ؟
- ٢- عدد فوائد تنظيم الانسان لوقته ؟
- ٣- كيف يمكن التعرف إلى مدى احترام الإنسان لوقته ؟
- ٤- اعط بعض الامثلة من حياتنا اليومية عن احترام الانسان للوقت.

ج / عدم الإسراف:

الإسراف يعني استعمال الاشياء بكثرة من دون الحاجة إلى ذلك، مثل استعمال الماء بكثرة من اجل التنظيف او من اجل سقي المزروعات او غير ذلك، و يعد الاسراف من الصفات غير الجيدة والمضرة التي يجب على الانسان الابتعاد منها، فالإسراف في الاكل يؤثر في صحة الانسان وقد يؤدي الى مرضه، والإسراف في استعمال الماء والكهرباء يحرم الاخرين منهما، والإسراف في اضاءة الوقت يحرم الانسان من الافادة منه ولا يمكن تعويض ذلك مطلقاً، والإسراف في استعمال المال وتبذيره يضر بالفرد والأسرة والمجتمع، وجوانب الاسراف في حياة الانسان عديدة منها: الاسراف في المأكل، والمشرب، والملبس، والمسكن، والكلام ، والسهر، والنوم، والماء، والكهرباء، والمال، والوقت، وغير ذلك من الجوانب الاخرى.



فكر واجب

- ١- ما المقصود بالإسراف؟
- ٢- لماذا يعد الإسراف من الأمور المضرة بالفرد والمجتمع؟
- ٣- عدد جوانب الإسراف في حياة الإنسان؟

د/ المحافظة على البيئة وحمايتها :

بيئة الإنسان هي المكان الذي يعيش فيه، وعناصر البيئة هي الإنسان والأرض وما عليها والهواء والماء، أما أنواع البيئة التي يعيش فيها الإنسان فهي عديدة أهمها: بيئة البيت، بيئة المدرسة، بيئة المحلة، وبيئة الأماكن العامة، ونظراً لأهمية البيئة في حياة الإنسان لأنها مصدر صحته ورزقه وسعادته توجب على كل إنسان المحافظة على نظافة البيئة والمكان الذي يعيش فيه، وهناك طرائق عدة للمحافظة على البيئة وحمايتها أهمها:

- ١- عدم قطع الأشجار والأزهار والنباتات وعدم الأضرار بها لأنها تحمي الإنسان من الحر ومن البرد ومن الغبار، فضلاً عن جمالها وفوائدها العديدة الأخرى.
- ٢- المحافظة على نظافة البيئة سواء أكانت بيئة الأسرة أم المدرسة أم الأماكن العامة وعدم رمي النفايات أو المخلفات إلا في الأماكن المخصصة لذلك.
- ٣- المحافظة على الماء وحمايته من التلوث وذلك عن طريق حماية البحار والأنهار ومصادر المياه من النفايات والمخلفات المضرة بصحة الإنسان.
- ٤- المحافظة على الهواء النقي وذلك عن طريق الابتعاد من كل ما يضر بالهواء مثل إشعال النيران لغرض اللهب أو حرق النفايات في الأماكن العامة.

- ١- ما المقصود بالبيئة؟ وما عناصرها؟
- ٢- ما انواع البيئة التي يعيش فيها الإنسان؟ ولماذا تعد البيئة مهمة لحياة الانسان؟
- ٣- عدد طرق المحافظة على البيئة وحمايتها؟



هـ / المحافظة على الممتلكات العامة:

نعني بالممتلكات العامة جميع الممتلكات العائدة للدولة والمجتمع ، وهي ليست ملكاً لأحد وإنما هي ملك لجميع المواطنين الذين يعيشون على ارض الوطن ، ولهذا تعد المحافظة على الممتلكات العامة واجب وطني على كل فرد، وهي واجب ديني ايضاً، اذ ان جميع الاديان تحرم الاعتداء على الممتلكات العامة او تخريبها والعبث بها او سرقتها، لان هذه الممتلكات وجدت من اجل خدمة جميع الناس، وتعد جميع ابنية المؤسسات والدوائر الحكومية وأثاثها وأجهزتها من الممتلكات العامة مثل: (المستشفيات العامة، والمدارس والمعاهد والجامعات، والشوارع والطرق والجسور، والحدائق والمتنزهات العامة وغيرها).

ان المحافظة على الممتلكات العامة صفة من صفات المجتمعات المتقدمة، وهي دليل على وعي المواطن ودليل امانته وحرصه وإخلاصه للوطن ، ولهذا تقوم جميع الدول بتوجيه مواطنيها إلى ضرورة المحافظة على الممتلكات العامة والامتناع من الإضرار بها .



فكر واجب

- ١- ما المقصود بالتملكات العامة ؟ وضح ذلك مع الامثلة .
- ٢- لماذا تعد المحافظة على التملكات العامة واجب ديني ووطني؟
- ٣- لماذا تقوم المجتمعات بتوجيه مواطنيها إلى ضرورة المحافظة على التملكات العامة؟
- ٤- هل هناك نصوص قرآنية او احاديث نبوية شريفة اشارت الى الحفاظ على التملكات العامة ؟ اذكرها.
- ٥- هل هناك نصوص قرآنية او احاديث نبوية شريفة اشارت الى عدم الاسراف ؟ اذكرها
- ٦- كيف يمكن المحافظة على البيئة من التلوث؟ اذكر اهم الاعمال الواجبة للمحافظة على |
 - ١- الماء ٢- الحدائق العامة ٣- المدرسة ٤- محلّتك السكنية؟

معلومات اثرائية:

انتبه عزيزي التلميذ: الالغام والمخلفات الحربية هي اسلحة ومواد خطيرة جداً ذات اشكال مختلفة يمكن ان تنفجر في اي وقت وتؤدي الى الاصابة بجروح خطيرة جداً او الوفاة. عزيزي المعلم: حاول ان تقدم بعض الارشادات للحد من مخاطر الالغام والمخلفات الحربية من خلال عدم الاقتراب منها حفاظاً على سلامتهم.

اسئلة الوحدة الثانية

س ١: ضع علامة (✓) امام العبارة الصحيحة وعلامة (X) امام العبارة غير الصحيحة فيما يأتي.

- ١- يتألف مجتمعنا العراقي من قوميات متعددة.
- ٢- يتركز الشبك في محافظات وسط ووطننا العراق وجنوبه ولاسيما في محافظة البصرة.
- ٣- يتركز الصابئة في محافظات وسط العراق وجنوبه بالقرب من الانهار.
- ٤- تعد صفة التسامح من ابرز الصفات التي يتميز بها ابناء وطننا وبجميع اطيافه.

س ٢: املأ الفراغات الآتية:

- ١- من الروابط التاريخية والاجتماعية للمجتمع العراقي و..... و.....
- ٢- الأسراف يعني
- ٣- من الطرق الواجب اتباعها للمحافظة على البيئة و..... و.....
- ٤- ان العادات والتقاليد الخاصة بأبناء وطننا العراق هي
- ٥- يتركز الصابئة بالقرب من الانهار وذلك

س ٣: عرف مايتي:

المجتمع العراقي الايزيدية الصدق التعاون

س ٤: ارسم مخططاً يوضح حقوق المواطن العراقي وواجباته.

س ٥: تكلم على:

- ١- احترام القانون والنظام في المجتمع.
- ٢- التسامح.
- ٣- احترام الوقت وتنظيمه.

المحتويات

٣	مقدمة
٤	الوحدة الاولى: محافظات وطننا العراق جغرافياً وتاريخياً
٩-٥	وطننا العراق
١٤-١٠	محافظه دهوك
١٩-١٥	محافظه اربيل
٢٤-٢٠	محافظه السليمانية
٣١-٢٥	محافظه نينوى
٣٦-٣٢	محافظه كركوك
٤٢-٣٧	محافظه صلاح الدين
٤٧-٤٣	محافظه ديالى
٥٢-٤٨	محافظه بغداد
٥٧-٥٣	محافظه الانبار
٦١-٥٨	محافظه واسط
٦٦-٦٢	محافظه بابل
٧٠-٦٧	محافظه كربلاء المقدسة
٧٥-٧١	محافظه الديوانية
٧٩-٧٦	محافظه النجف الاشرف
٨٣-٨٠	محافظه ميسان
٨٧-٨٤	محافظه ذي قار
٩١-٨٨	محافظه المثنى
٩٥-٩٢	محافظه البصرة
٩٨-٩٦	أسئلة الوحدة الأولى
٩٩	الوحدة الثانية: مجتمعنا العراقي
١٠٠	مجتمعنا العراقي
١٠٢-١٠٠	مكونات المجتمع العراقي
١٠٣	الروابط التاريخية والاجتماعية للمجتمع العراقي
١٠٤	حقوق المواطن العراقي
١٠٨-١٠٤	القيم الحضارية العراقية السامية
١١٣-١٠٩	قضايا اجتماعية عامة
١١٤	اسئلة الوحدة الثانية
١١٥	المحتويات

ثم بحمد الله